

# عیدانه

پایه سوم



MADRESE4U1

مدرسه کشوری مکران

به نام خدا

مژده ای دل که دگر باد صبا باز آمد  
هدهد خوش خبر از طرف سبا باز آمد  
برکش ای مرغ سحر نغمه ی داوودی باز  
که سلیمان گل از باد هوا باز آمد

برای موفقیت فقط خواندن شرط نیست بلکه یادگیری و تثبیت آموزه های علمی هم مهم ترمی نماید.  
مدت زمان مهر تا اسفند زمانی بود که با زحمت معلمان و خانواده ها و دانش آموزان مطالبی خوانده و یاد گرفته شد و اکنون زمانی است که تلاشی برای تثبیت آن ها داشته باشیم. در همین راستا با همکاری آموزگاران دلسوز برای تمرین و تکرار مطالب سؤالاتی تنظیم گشته که در ایام تعطیلات نوروزی در کنار تمامی خوشی ها از یادگیری بچه ها غافل نباشیم و قدمی هر چند کوچک برداشته باشیم.  
امید که در هر لحظه ی زندگی بیاموزیم...



مدیر دبستان دخترانه صالحین  
زهرا صادقی

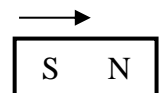
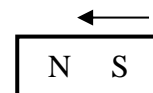


امام علی (ع) :  
سلامتی بهترین نعمت است.

درس علوم:

چرخه ی آب را بکش و آن را توضیح بده.

کدام نیروی تماسی و کدام نیروی غیر تماسی است؟



مانند نمونه وصل کن.

میعان

ناپدید شدن الکل

تبخیر

آب شدن شمع

ذوب

خیس شدن دور پارچ آب سرد

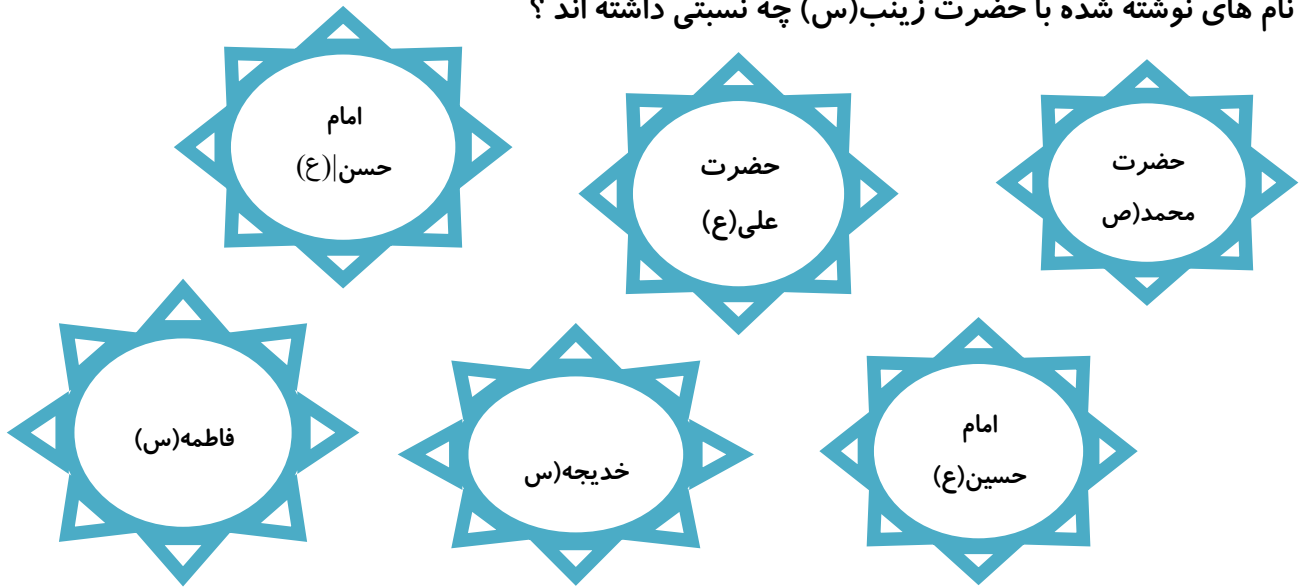
انجماد

نرم شدن شکلات

اگر شکل مقابل قطب های آهن ربا باشند، با توجه به فلش ها و نیروی غیر تماسی مغناطیسی در آهنربا نام قطب ها را بنویس و علت را توضیح بده.



نام های نوشته شده با حضرت زینب(س) چه نسبتی داشته اند ؟



کدام به شما نازنین دوست داشتنی محرم و کدام نامحرم است؟ در جدول بنویس.

نامحرم	محرم

پدر بزرگ - شوهر خاله - پدر - پسر دایی - شوهر خواهر  
شوهر عمه - دایی - پسر عمو - عمو

نگارنده ی زیبا : موضوع زیر را به ۳ موضوع کوچک تر تبدیل کن و در مورد یکی از آن ها ۵ سطر بنویس.

موضوع کلی: کلاس

موضوع های کوچک تر: ۱- ..... ۲- ..... ۳- .....

.....

.....

.....

.....

.....

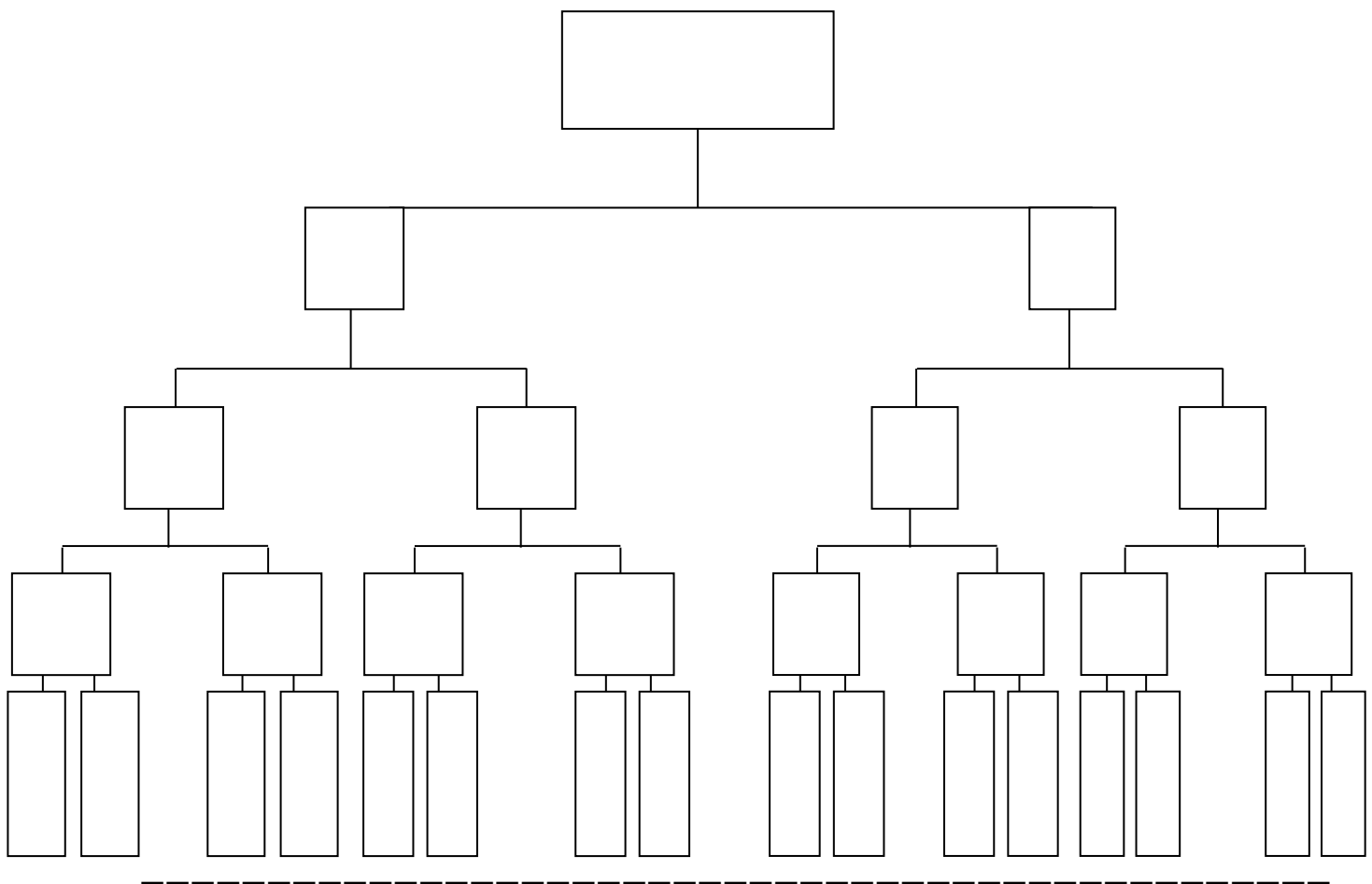


## «املاي خوشه اي»

\*مراحل انجام کار :

دختر عزیزم یک کلمه از درس ۱۴ انتخاب کن و با نشانه ی آخر آن دو کلمه از درس پیدا کن و بنویس و  
با نشانه ی آخر هر کلمه دو کلمه ی دیگر بنویس و تاجایی که می توانی این کار را ادامه بده .

املاي خوشه اي درس : .....



## درس: ریاضی

ابتدا برای ۲ واحد و  $\frac{3}{4}$  واحد شکل بکش سپس روی محور نشان بده.





دور باغی به طول ۹ متر و عرض ثلث طولش را می‌خواهیم دو دور نرده بکشیم به چندانستی متر نرده نیاز داریم؟

جمع مقابل را با استفاده از شکل پاسخ بده.

$$۲۳۵۴ + ۱۰۶۹ = \boxed{\phantom{0000}}$$

رضا در یک مسابقه ی دوچرخه سواری ۸ کیلومتر و نیمی شرکت کرد. او بعد از اینکه ۴ کیلومتر و ربع رکاب زد دو چرخه اش پنچر شد. چند متر و چند کیلومتر از مسیر باقی مانده است؟

جرم ۲ جعبه ی قند ۴ کیلوگرم و دو ربع کیلوگرم است. اگر جرم جعبه ها ۱۲۶ گرم باشد جرم قندها چند کیلوگرم و چند گرم است؟

با توجه به الگوی داده شده پاسخ بده.

۸، ۱۶، ۲۴، ۳۲، ۴۰

الف) تقسیم

ب) مسئله تقسیم

ج) شکل

---

### درس : اجتماعی

دخترم ، باتوجه به تصویر خانه های قدیمی چه فرقی با خانه های شما دارد؟



سفره هفت سین را نقاشی کن و با توجه به آن جدول گروه مواد غذایی را کامل کن.

زرها برای نوشتن بزرگ ترین عدد ۴ رقمی غیر تکراری عدد صدگان را ننوشت عدد نوشته شده با عدد اصلی چه قدر تفاوت دارد؟

می خواهیم کف سالنی را کف پوش کنیم. عرض سالن ۵ متر و طولش ۴ برابر عرضش است. به چند متر مربع موکت نیاز داریم؟

یک خط راست بکش آن را ( س ش ) نامگذاری کن سپس روی آن ۵ نقطه بگذار. نقاط مشخص شده را نامگذاری کن و نام پاره خط ها و نیم خط ها را بنویس.

برای کوچک ترین عدد ۴ رقمی غیر تکراری زوج شکل بکش سپس پاسخ بده.

با رقم: .....

با حروف: .....

بزرگ ترین رقم چند است؟ و در چه مرتبه ای قرار دارد؟

شیر گاو شفاست و استخوان های ما را قوی  
و محکم می کند.



## کلام نور :

امید من به شما نوجوانان و جوانان است . شما نوجوانان برومند امید من هستید . باید در هر کجا که هستید ، در هر جای ایران ، بیدار باشید ، آگاه باشید و با بیداری از حقوق خودتان دفاع کنید .  
امام خمینی (ره)

\* در عبارات زیر حروف ناخوانا را مشخص کنید و در جای مناسب فلش گذاری کنید و ابتدا عبارات را بخش بخش بخوانید .

الف) وَ التَّيْنِ وَالزَّيْتُونِ (ج) والمقيمي الصَّلاه

ب) دارِ السَّلام (د) ءَامَنُوا اتَّقُوا اللَّهَ

ه) بالعروهِ الوُثْقَى

\* عبارات زیر را بخوانید و " یا یه " همزه را مشخص کنید .

لا تَوَءَاخِذْنا هَيَّيْ شَيْئًا

\* به سوالات زیر پاسخ بده .

هنگام سجده چند عضو از اعضای بدن روی زمین قرار می گیرد ؟ نام ببرید .

نمازهای روزانه چند رکعت است ؟

بهترین سلاح برای زنان و دختران چیست ؟

نماز با چه ذکر شروع و با چه ذکر تمام می شود ؟

کتاب آسمانی مسلمانان دارای چند سوره و چند جزء است ؟

الف) ۱۱۵ - ۳۱ ☐ ب) ۱۱۴ - ۲۹ ☐

ج) ۱۱۴ - ۳۰ ☐ د) ۱۱۳ - ۳۰ ☐

چه کاری به کلید نماز معروف است ؟

راستگویی ☐ وضو ☐ روزه ☐ قرآن خواندن ☐

بزرگترین معجزه ی پیامبر اکرم (ص) چیست ؟

قرآن کریم ☐ شکافتن دریا با عصا ☐ تبدیل شدن عصا به مار ☐ شفای بیماران ☐

کوتاه ترین سوره ی قرآن ..... است.

کوثر ☐ عصر ☐ بقره ☐ توحید ☐

با خوردن صبحانه کامل، قدرت یادگیری  
زاد می گردد.





-مهربانم: خلاصه ی داستان (خواب خلیفه) را بنویس.

.....

.....

.....

.....

.....

.....

.....

-عزیزم، از درس های ( فداکاران ) دیکته بنویس.

.....

.....

.....

.....

.....

-هر کدام از ضرب المثل های زیر را چه موقع به کار می بریم؟

..... الف) آشپز که دوتا شد آش یا شور می شود یا بی نمک:

..... ب)

..... ج)

هر میوه ای را در فصل خودش  
بخورد



## بیاموز و بگو:

۱- قبلاً - در گذشته - چند روز پیش - چند هفته قبل - چند ماه گذشته

۲- حالا - الان - هم اکنون - همین لحظه

۳- بعداً - در آینده - چند روز بعد - چند هفته ی دیگر - سال بعد

به سه دسته ی کلمه های بالا دقت کن.

این کلمه ها زمان جمله ها را نشان می دهند. اگر بخواهیم برای هر دسته یک اسم انتخاب کنیم نام دسته اول گذشته، دسته ی دوم حال و دسته ی سوم آینده است.



الف) در سه جمله بنویس که الان چه کاری انجام می دهی؟

.....

.....

.....

ب) چشمانت را ببند و به روز قبل فکر کن. دیروز در چنین لحظه ای در حال انجام چه کاری بوده ای؟

.....

.....

.....

ج) باز هم چشمانت را ببند و خیال کن ده سال دیگر در چنین لحظه ای مشغول انجام چه کاری خواهی بود؟

.....

.....

.....

## لیخنند:



فردی در هوای سرد، اسبی را دید که از بینی اش بخار بیرون می آید  
با خود گفت: فهمیدم، پس اسب بخار که می گویند همین است.



– حدیث ۴ اسکناس ۲ هزار تومانی و دو اسکناس ۵۰۰ تومانی و ۷ اسکناس صد تومانی دارد. آیا او می تواند یک کتاب ۴۸۵۶ تومانی و دو خودکار ۱۲۰۰ تومانی بخرد؟ چرا؟

– تمام اعداد چهار رقمی را بنویس که رقم یکان آن ۵ و ۲ و دهگان آن ۶ و ۷ و صدگان آن ۸ و ۴ و هزارگان آن ۹ باشد. (خوشه ای)

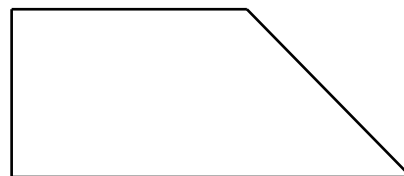
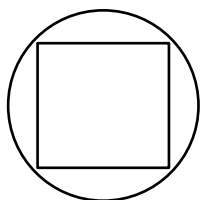
و به پرسش ها پاسخ بده :

الف) بزرگ ترین عدد کدام است؟

ب) کوچک ترین عدد کدام است؟

ج) چند عدد زوج و چند عدد فرد ساخته ای؟

– خط تقارن هریک از شکل های زیر را رسم کن.



---

### درس: علوم

– نام دانه ای که به عنوان سبزه روی سفره هفت سین شما است چیست؟ آن را نقاشی کن و خصوصیات کامل آن گیاه را بنویس.



## آیا می دانید :

اهواز یکی از شهرهای قدیمی ایران و مرکز خوزستان دارای تمدن شش هزار ساله است . اهالی این دیار در طول تاریخ اسلام مذهب تشیع را انتخاب کرده و مرکز شیعه قرار گرفت . از قرن دوم سادات و اولاد معصومین و همچنین بعضی از اصحاب ائمه (ع) به اهواز رو آوردند . تعدادی از راویان حدیث که اهوازی الاصل هستند از جمله خاندان حسین بن سعید اهوازی ، خاندان علی بن مهزیار اهوازی ، ابن سکیت اهوازی ، می باشند .

امام هشتم (ع) بنا به دعوت مأمون خلیفه ی عباسی به خراسان از مدینه حرکت و از طریق بصره به خاک ایران وارد شد و اولین شهری که آمد اهواز بود چند روزی در این منطقه ماند و بزرگانی از جمله ابوهاشم جعفری و علی بن مهزیار اهوازی خدمت آن بزرگوار رسیدند و در محلی که منزل کرده بودند بعد از حرکت به خراسان آن محل را عباد گاهی ساختند .به نام مسجد علی بن موسی الرضا(ع) که حالاین مکان مقدس به علی بن مهزیار اهوازی معروف است .

## آیا می دانی :

علی بن مهزیار اهوازی دانشمندی بزرگ و عالمی جلیل القدر و محدثی صادق بود . او از شاگردان برگزیده امام رضا (ع) ، امام محمد تقی و امام علی نقی و امام حسن عسکری (ع) بودو از محضر آن بزرگوار بهره مند می شد. او وکیل تام الاختیار سه امام یعنی امام نهم ، دهم و یازدهم بوده و علامه شیخ شوشتری صاحب قاموس الرجال شخصیت او را از نواب اربعه امام زمان (عج) بالاتر می داند . وی متجاوز از سی و سه کتاب در روایات و احادیث تالیف نموده. این بزرگوار وصیت کرده بود که بعد از رحلت ایشان در جوار مسجد امام رضا (ع) دفن شود و انجام هم شد و تا به امروز این مکان مقدس زیارتگاه صاحب اهل دل گردیده است .

برگزیده از کتاب اماکن زیارتی سیاحتی شهر اهواز

اثر : محمد حسین هدایت اهوازی

ناشر : انتشارات آیت الله بهبهانی



زیبای من: حالا پاسخ بده :

- ۱- اهواز دارای قدمت تاریخی چند ساله است ؟
- ۲- از چه قرنی سادات و اولاد معصومین به اهواز رو آوردند ؟
- ۳- راویان حدیث اهوازی الاصل را بنویس ؟
- ۴- امام رضا (ع) بنا به دعوت چه کسی به خراسان دعوت شد ؟
- ۵- امام رضا (ع) وقتی از مدینه حرکت کرد اولین شهری که وارد شد کجا بود ؟ و چه بزرگانی خدمت آن بزرگوار رسیدند ؟
- ۶- وقتی امام رضا به طرف خراسان حرکت کرد محلی که در آن بزرگوار زندگی کرده بود چه شد ؟
- ۷- تا از صفات برجسته ی علی بن مهزیار اهوازی را بنویس .
- ۸- علی بن مهزیار اهوازی از شاگردان برجسته ی چه بزرگوارانی بوده است ؟

---

### درس علوم:

آزمایشی بنویس که در آن ثابت کنی چه نوع خاکی نفوذ پذیری بیشتری دارد.

جدول زیر را باتوجه به انواع آینه کامل کن.

آینه ی :	آینه ی :	آینه ی :	
			مثال:
			کاربرد:
			ویژگی:



## « ریشه هر نیکی علم است . امام علی (ع) »

\*یکی از موضوع های زیر را انتخاب و در مورد آن ۵ سطر بنویس.

(۱) معلم

(۲) فصل بهار

.....

.....

.....

.....

.....

آثار هر کدام را بنویس.

..... سعدی:	..... ابو علی سینا :
..... حافظ :	..... فردوسی:
	..... مولوی:

با استفاده از پرگار و گونیا یک نقاشی زیبا بکش .

هنرمندم از این نوشته یک بار با خطّ خوش و خوانا بنویس.

ای همه هستی ز تو پیدا شده      خاک ضعیف از تو توانا شده

.....





مهربانم با سبدهایی پر از خوشبختی ۷ سین آرزویم را تقدیمت می کنم با استفاده از هفت سین داده شده متن زیبایی بنویس .

**سحر خیزی - سعادت - سلامت - سرور - سرافرازی - سرخوشی - سربلندی**

.....

.....

.....

.....

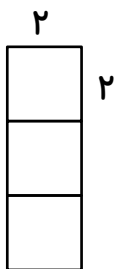
.....

در هر ردیف کدام با بقیه فرق دارد . علامت × بزن .

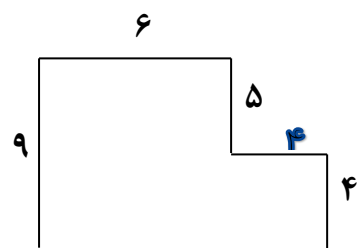
<input type="checkbox"/> معلم	<input type="checkbox"/> علامت	<input type="checkbox"/> علم	<input type="checkbox"/> عالم
<input type="checkbox"/> مشهور	<input type="checkbox"/> شهادت	<input type="checkbox"/> شهید	<input type="checkbox"/> شاهد
<input type="checkbox"/> منظم	<input type="checkbox"/> ناظم	<input type="checkbox"/> نظر	<input type="checkbox"/> نظم

درس ریاضی:

- محیط مربع و مثلثی باهم برابر است. اگر اندازه ی هر ضلع مربع ۶ سانتی متر باشد اندازه ی هر ضلع مثلث چند میلی متر است؟



- محیط و مساحت هر یک از شکل های زیر را حساب کن .



- فاطمه ساعت ۷ و ربع به مدرسه رفت و بعد از ۶ ساعت و نیم به منزل برگشت. ساعت چند بعد از ظهر به منزل برگشته است؟

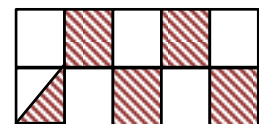
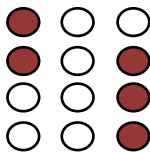


- دایره ای به قطر ۴۰ میلی متر رسم کن و در آن قطر، شعاع و مرکز را مشخص کن.

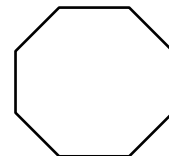
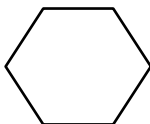
- ربع پول یگانه ۳۰۰ تومان و ثلث پول یاسمن ۴۰۰ تومان است. کل پول یگانه و یاسمن چند ریال است؟

- مبینا ۴ ورق را ۳۶ تومان خرید. او برای خرید ۹ ورق چند ریال باید پردازد؟

- کسر مربوط به هر شکل را بنویس.



- قطرهای هر شکل را بکش و بنویس هر شکل چند قطر دارد؟



- کامل کن.

اندازه ی ..... محیط آن شکل و به اندازه ی سطح (داخل) هر شکل ..... می گویند.

بهترین وسیله برای تشخیص ..... گونیا است.

۹ متر و ۱۸ سانتی متر ..... میلی متر است.

۵ متر و ۶ سانتی متر ..... میلی متر است.

۴۰۳۷ گرم ..... کیلوگرم و ..... گرم است.

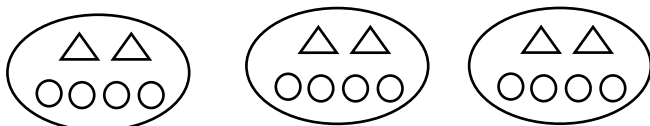
۴۷۵۶ متر یعنی ..... کیلومتر و ..... متر

۵ کیلومتر و ۹۸ متر ..... متر است.



-هندوانه ای را در یک کفه ی ترازو قرار دادیم. در کفه ی دیگر دو وزنه ی ۳ کیلو گرمی و یک وزنه ی ربع کیلو گرمی قرار دادیم. برای میزان شدن ترازو یک وزنه ی ۱۲۰ گرمی روی هندوانه قرار دادیم.جرم هندوانه چند کیلو گرم و چند گرم است؟

باتوجه به شکل عبارت را کامل کن.



$$\dots \times (\dots + \dots) = (\dots \times \dots) + (\dots \times \dots)$$

### دانستنی های زیبای قرآن :

آیه ۸۶ سوره هود اولین آیه ای است که حضرت مهدی (عج) هنگام ظهورش بر زبان مبارکش جاری می کند. نازنینم قرآن کریم را با رعایت آداب قرآن خواندن باز کن و این آیه را با معنی با همراهی والدینت بخوان سپس معنی این آیه را بنویس .

.....

.....

.....

\* اولین گردآورنده ی قرآن حضرت علی (ع) بوده است .

بهترین ماه در قرآن کریم ماه رمضان است . که به بهار دل ها معروف می باشد .

چرا نماز می خوانیم ؟ با آن که خداوند به نماز ما نیازی ندارد به چه دلیلی باید هر روز نماز بخوانیم ؟

زیرا دستور خداوند است : « اقم الصلواه لذکری » نماز را بخوان برای آن که به یاد من (خدا) باشی .



## درس علوم:

–دربسیاری از نقاط دنیا آب آشامیدنی کافی وجود ندارد ۳ پیشنهاد برای جلوگیری از تلف شدن آب را بنویس.

.....-1

.....2

.....3-

–چراغ روشن است. نور چراغ همه جای اتاق حتّی زیر میز راهم روشن می کند. چشم ریحانه و نرگس هم سالم است. نرگس گلدان را می بیند. ریحانه درخت را می بیند اما گربه را نمی بیند.

(الف) تو چه فکر می کنی؟

(ب) اگر میز شیشه ای بود چه فرقی می کرد؟ چرا؟

رسول خدا (ص) می فرماید :

«الصلوة عهد الله : نماز پیمان با خداوند است .»

**نازنینم این قسمت را با صدای زیباییت به حالت دکلمه برای مهمانان نوروزیتان بخوان :**

**\*امام سجاد (ع) در دعای ابوحمزه ی ثمالی می فرماید :**

ذیلی بودم کہ عزتم بخشیدی

خدایا کوچکی بودم که بزرگم کردی

گرسنه ای بودم که سیرم کردی

جاهلی بودم که آگاهم کردی

## فقیر بودم بی نیازم کردی

## گمراهی بودم که هدایت‌م کردی

## گناه کردم پوشاندی

## بیمار بودم شفا یم دادی


**سعدی**

## گز عهده ی شکرش به در آید

از دست و زبان که بر آید



- کدام یک از کلمات زیر با ( ات ) جمع بسته می شود آن ها را رنگ کن .



\*جدول را کامل کن.



						۱
						۲
						۳
						۴
						۵

۱- جایی که گندم می کارند.

۲- وسیله ای برای درو کردن.

۳- بی صبرانه یعنی بدون ..... .

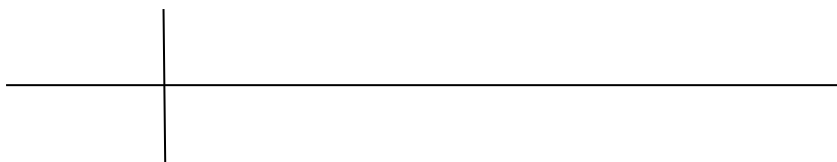
۴- به معنی « خانه ی پرندگان » است.

۵- به معنی « حرف زدن » است.

### درس: ریاضی

- به چند حالت می توان جمع دو عدد را نوشت که حاصل کوچک ترین عدد فرد ۲ رقمی باشد؟  
(مانند نمونه تمام حالت را بنویس)

- به چند حالت می توان با سکه های ۵۰ و ۱۰۰ ریالی ۳۰۰ ریال درست کرد؟



- خانم سیفی به دختر و پسرش به طور مساوی پول داد. دخترش ربع پولش را و پسرش خمس پولش را  
انفاق کرد. کدام یک بیشتر انفاق کرده است؟ ( با رسم شکل)



- با توجه به شکل پاسخ بده.



الف) الگو

ب) ضرب

ج) جمع

د) مسئله ضرب

- فلکه ای داریم به شکل دایره ، نیمی از آن را گل شمعدانی قرمز و باقی مانده را ۴ قسمت کرده ایم. در دو قسمت آن گل شمعدانی صورتی و در یک قسمت آن گل شمعدانی سفید کاشته ایم. (بارسم شکل پاسخ بده)

الف) چه کسری از زمین را گل شمعدانی قرمز کاشته ایم؟

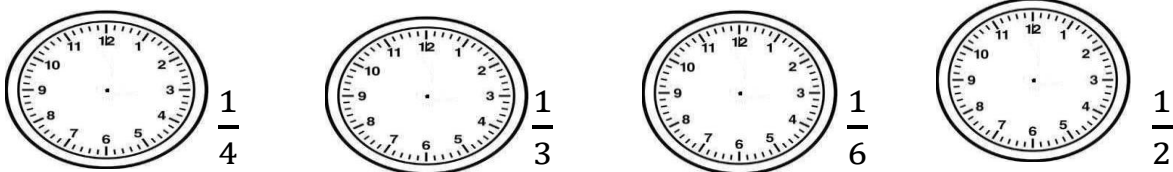
ب) چه کسری از زمین را کاشته ایم؟

ج) چه کسری از زمین را نکاشته ایم؟

- تساوی  $1 = \frac{2}{2} = \frac{3}{3} = \frac{4}{4}$  را روی شکل زیر نشان بده.



- روی هر ساعت کسرهای نوشته شده را نشان بده.



امام رضا (ع): هرکس می خواهد معدده اش  
آزارش ندهد، دربین غذا آب نخورد.



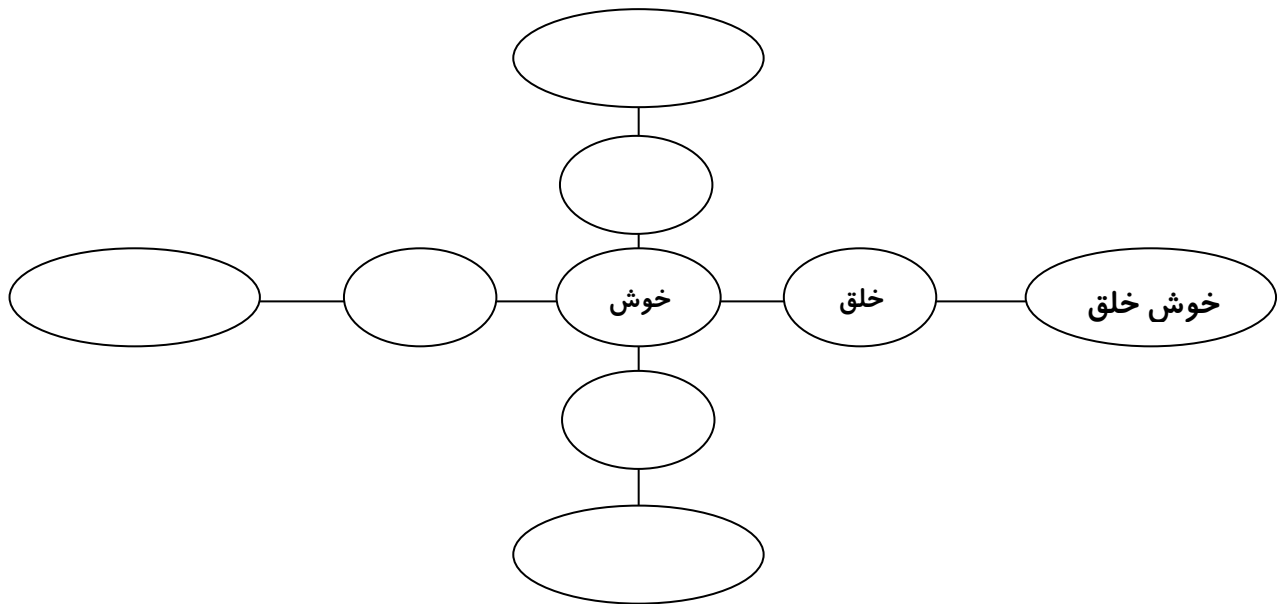


\*هم معنی ها را وصل کن.

انتها ، بحث ، آسیب ، سباط ، زباله ، مسدود

بسته شده ، آشغال ، گفت و گو ، آخر ، صدمه ، سفره

\*مانند نمونه کامل کن.



\*با مخالف کلمه ی (زشت ترین) یک جمله ی پرسشی بساز.

..... زشت ترین : .....

\*جمله های زیر را مطابق زمان خواسته شده تغییر بده .

الف) پدرم فردا از مسافرت خواهد آمد. (زمان حال)

.....

ب) ما فردا به آزمایشگاه خواهیم رفت. (زمان گذشته)

.....

ج) با آموزگارم به بازدید موزه رفته بودم. (آینده)

.....

گل خوشبوی زندگی خدا قوت عیدت مبارک . سه روز قبل از اتمام  
تعطیلاتت مروری کلی  
بر درس هایت داشته باش.

