



دبستان کالج زمانیان

تاریخ :

وقت آزمون : ۶۰ دقیقه

نام و نام خانوادگی :

هدیه آسمانی

۱	این سخن از کیست؟ (۱) حضرت علی (ع) (۲) حضرت فاطمه (ع) (۳) پیامبر اکرم (ص) (۴) امام حسین (ع)	((خداوند کسی را که برای گفت و گو با او ، خود را آراسته و خوشبو می کند ، دوست دارد))
۲	پیامبر (ص) فرمود اویس بوی بهشت می دهد زیرا (۱) به قولش عمل می کرد (۲) احترام به مادرش (۳) نماز می خواند (۴)علاقه به دیدار پیامبر	
۳	روز تولد کدام بانوی بزرگ را روز پرستار نامیدند؟ (۱) حضرت فاطمه (س) (۲) حضرت رقیه (س) (۳) حضرت زینب (س) (۴) حضرت معصومه (س)	
۴	پادشاه ستمگر زمان حضرت ابراهیم (ع) که بود؟ (۱) فرعون (۲) نمرود (۳) خسرو پرویز (۴) هارون	
۵	ماه مهمانی خدا چه ماهی است ؟ (۱) رمضان (۲) شعبان (۳) محرم (۴) صفر	

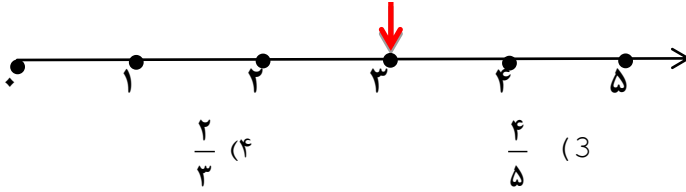

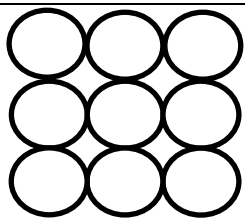
تعلیمات اجتماعی

۶	با فرزندان خانواده جدید به وجود می آید . (۱) رشد (۲) تولد (۳) تحصیل (۴) ازدواج
۷	منظور از اندازه ی خانواده خانواده است . (۱)تعداد اعضای خانواده (۲) قد و وزن اعضای خانواده (۳) اندازه ی خانه (۴)هر سه مورد
۸	شجره نامه چیست؟ (۱) درختی که تعداد اعضای خانواده را نشان می دهد. (۲) درختی که همکاری اعضای خانواده را نشان می دهد (۳) درختی که دوستان هر خانواده را نشان می دهد (۴) درختی که نشان می دهد اعضای خانواده با هم چه نسبتی دارند
۹	پدر و مادر برای ثبت نام فرزندشان در مدرسه چه چیزی به مدرسه تحویل می دهند؟ (۱) شناسنامه (۲) دفترچه ی بهداشتی (۳) دفترچه ازدواج (۴) کارت ملی
۱۰	کدام گزینه درآمد را به خوبی تعریف کرده است؟ (۱) پولی که برای تأمین نیازهای خانواده صرف می شود را درآمد می گویند (۲) پولی که افراد خانواده از راه کار کردن به دست می آورند را درآمد می گویند (۳) پولی که برای خرج کردن در خانواده صرف می شود را درآمد می گویند (۴) پول توجیبی افراد خانواده را درآمد می گویند.

علوم

۱۱	ذرت در کدام یک از چهار گروه مواد غذایی قرار می گیرد؟ (۱) غلات (۲) لبنیات (۳) پروتئین (۴) چربی ها
۱۲	مهم ترین ویژگی گازها کدامند؟ (۱) در همه ی فضای ظرف پخش می شوند (۲) همه ی گازها بی بو هستند (۳) همه ی گازها بی رنگ هستند (۴) هر سه مورد صحیح است

۱۳	تبدیل شدن مواد مایع به گاز نام دارد	(۱) تبخیر	(۲) انجماد	(۳) ذوب	(۴) هیچ کدام
۱۴	جرم اجسام را با واحدی به نام اندازه گیری می کنند؟	(۱) سانتی متر	(۲) لیتر	(۳) کیلوگرم	(۴) متر
۱۵	به بعضی از مواد غذایی برای جلوگیری از تغییر رنگ و مزه اضافه می کنند.	(۱) نمک	(۲) شکر	(۳) مواد نگهدارنده	(۴) روغن
۱۶	کدام حالت مواد به اندازه ی مقدارش در ظرف پخش می شود؟	(۱) مایع	(۲) جامد	(۳) گاز	(۴) جامد و گاز
۱۷	کدام آب تصفیه شده است؟	(۱) آب چاه	(۲) آب چشمه	(۳) آب لوله کشی شهر	(۴) آب رودخانه
۱۸	کدام نوع خاک آب بیشتری را در خود جذب و نگهداری می کند؟	(۱) ماسه	(۲) خاک رس	(۳) سنگ ریزه	(۴) خاک باغچه
۱۹	آینه های معمولی را می نامند؟	(۱) تخت	(۲) برآمده	(۳) فرورفته	(۴) همه ی موارد
					فارسی
۲۰	شاعر در شعر لحظه ی سبز دعا می گوید: باغ در حال قیام ابر در حال (۱) سفر	(۲) رکوع	(۳) قنوت	(۴) سکوت	
۲۱	شعر مثل باران از کیست؟	(۱) ناصر کشاورز	(۲) مجیدملا محمدی	(۳) اسدالله شعبانی	(۴) نسرین صمصامی
۲۲	در کدام گزینه کلمه ها مخالف هستند؟	(۱) گرم و روشن	(۲) سرد و گرم	(۳) شاد و خوشحال	(۴) زلال و شفاف
۲۳	نگارش کدام گزینه درست است؟	(۱) و آمد به مدرسه	(۲) شروع به دویدن ناصر کرد	(۳) مرایاری کن خدایا	(۴) غروب یکی از روزهای سرد پاییزی بود
۲۴	املای کدام کلمه صحیح نیست؟	(۱) گزارش گروهی	(۲) احوال پرسی	(۳) بی صبرانه	(۴) زیان آور
۲۵	کدام کلمه جمع نیست؟	(۱) مساجد	(۲) بهترین	(۳) لحظات	(۴) مدارس
۲۶	کدام دسته از کلمات هم خانواده هستند؟	(۱) مواظبت - مراقبت	(۲) مشغول - شغل	(۳) تفریح - استراحت	(۴) قصه - غصه
۲۷	کدام گزینه ضرب المثل است؟	(۱) دلی صاف و بی کینه مانند آب	(۲) مهربان و کاره و بی ادعا	(۳) هر چه کُنی به خود کنی	(۴) اول دفتر به نام ایزد دانا
۲۸	هم معنی کلمات رو به رو به ترتیب کدام گزینه است؟ (بی صبرانه - آزرده - گویا)	(۱) بدون تحمل - ناراحت - رسا	(۲) رسا - ناراحت - بدون تحمل	(۳) ناراحت - رسا - بدون تحمل	(۴) آزرده - ناراحت - بدون تحمل
۲۹	مدرسه چگونه مکانی است؟	(۱) ورزشی	(۲) اجتماعی	(۳) آموزشی	(۴) بهداشتی
۳۰	کدام گزینه با بقیه فرق دارد؟	(۱) سود= فایده	(۲) نرم نرمک = آهسته	(۳) آمد= رفت	(۴) آلودگی = کثیفی

۳۱	حاصل جمع عبارت زیر را کدام گزینه است؟ $۲۰۰+۱۰۰+۱۰۰+۳+۶+۴+۷+۴+۶+۹+۱=.....$ ۴۴۰(۱) ۴۰۴۰(۲) ۴۳۰(۳) ۴۰۰(۴)																				
۳۲	مهدی می خواهد کتابی که ۱۸۰ صفحه دارد بخواند. اگر او روزی ۲۰ صفحه از کتابش را بخواند، مطالعه ی کتاب مهدی چند روز طول می کشد؟ <table border="1" style="width: 100%; text-align: center;"><tr><td>روز</td><td>۱</td><td></td><td></td><td></td><td></td><td>۶</td><td></td><td></td><td></td></tr><tr><td>صفحه</td><td>۲۰</td><td></td><td></td><td></td><td></td><td>۱۲۰</td><td></td><td></td><td></td></tr></table> ۱۲(۱) روز ۱۸(۲) روز ۲۰(۳) روز ۹(۴) روز	روز	۱					۶				صفحه	۲۰					۱۲۰			
روز	۱					۶															
صفحه	۲۰					۱۲۰															
۳۳	با توجه به شکل زیر، چه کسری را نشان می دهد؟  $\frac{2}{5}$ (۱) $\frac{1}{5}$ (۲) $\frac{4}{5}$ (۳) $\frac{2}{3}$ (۴)																				
۳۴	کدام شکل زاویه ی راست ندارد؟ 																				
۳۵	«۵۰۴ گرم، برابر است با کیلو گرم و گرم.» (به ترتیب از راست به چپ) ۴۰۰۰ و ۵ (۱) ۴۰۰ و ۵ (۲) ۴۰ و ۴ (۳) ۴ و ۵ (۴)																				
۳۶	در یک بشقاب ۷ سیب وجود دارد. اگر ۴ سیب خورده شود، چه کسری از سیب ها خورده شده است؟ $\frac{2}{7}$ (۱) $\frac{7}{7}$ (۲) $\frac{4}{7}$ (۳) $\frac{2}{7}$ (۴)																				
۳۷	کوچک ترین عدد غیر تکراری چهار رقمی کدام است؟ ۱۰۲۳(۱) ۱۵۲۶۰(۲) ۱۳۲۸(۳) ۱۲۳۴(۴)																				
۳۸	کدام گزینه درست است؟ (۱) ۲۰۰ گرم سیب < ۲۰۰ گرم نخود (۲) ۴۰۰ گرم خیار < ۵۰۰ گرم لپه (۳) ۳۰۰۰ گرم تخم مرغ > ۴ کیلوگرم برنج (۴) ۵۰۰ گرم سیب زمینی < ۶۰۰ گرم هندوانه																				
۳۹	شکل رو به رو چند خط تقارن دارد؟  ۲(۲) ۴(۲) ۳(۳) ۵(۴)																				
۴۰	امیر حسین ۶۷۷۵ تومان پول داشت. او یک کتاب به ارزش ۳۳۵۰ تومان و یک دفتر به ارزش ۱۲۰۰ تومان خرید. چند تومان از پولش باقی مانده است؟ ۲۲۲۵(۱) ۳۴۲۵(۲) ۲۱۵۰(۳) ۲۲۷۵(۴)																				

