

این فایل از کانال معلم یار سوم دانلود شده است .
برای حمایت از ما و دریافت نمونه سوالات با پاسخنامه بیشتر
در تلگرام آی دی زیر را جست و جو کنید

معلم یار سوم

- نمونه سوال با پاسخنامه
- درسنامه
- فیلم های آموزشی
- فیلم حل تعارین کتاب درسه
- گام به گام
- جزوه

برای دریافت مطالب کافیه عضو کانال معلم یار سوم
به آدرس : ▼▼

➤ @MoallemYariR3

بشید

ورود به کانال اصلی لمس کنید

در صورت قطع کله اینترنت کشور !

دوباره برمیگردم به سایت معلم یار و مطالب جدید و پایه به پایه تو سایت میفرستم



WwW.MoallemYar.iR



WwW.6Paye.iR






۱۳۹۶

سال نو
مبارک

پیش دبستانی و دبستان غیردولتی
نیک نام




سخن آموزگار

پسر خوبم خدا را شکر می کنم که امسال را در کنار شما بودم. برای شما آرزو می کنم که سال جدید را در کنار پدر و مادر مهربانت با سلامتی و خوش حالی شروع کنی. امیدوارم تعطیلات به شما خوش بگذرد دلم برای شما تنگ می شود و آرزو می کنم این روزها با سرعت بگذرد تا باز هم شما را ببینم. هر روز یک صفحه از این پیک را حل کنید و در سها را یاد آوری کنید.

دوستت دارم

از طرف آموزگار: بیات





۱۳۹۶

سال نو مبارک

پیش دبستانی و دبستان غیردولتی
نیک‌نام



۱. پسر گلم حالا که موفق شدی ضرب را یاد بگیری جدول زیر را کامل کن.

۱ ۲ ۳ ۴ ۵ ۶ ۷ ۸ ۹

×	۱	۲	۳	۴	۵	۶	۷	۸	۹
۱									
۲									
۳									
۴									
۵									
۶									
۷									
۸									
۹									

یک سکه ۱۰ ریالی چند برابر یک سکه ۲ ریالی است؟

ضرب مربوط به محور را بنویس.





۱۳۹۶

سال نو مبارک

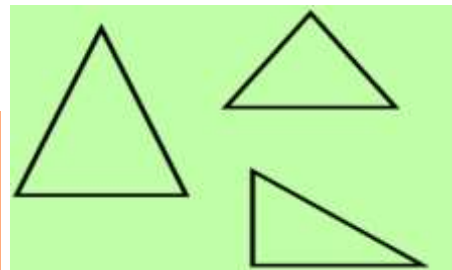
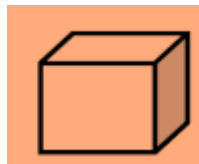
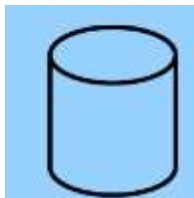
پیش دبستانی و دبستان غیردولتی
نیک نام



۲. انجام وضو را شماره گذاری کنید.



۳. نام اشکال هندسی را بنویسید.




لطیفه

اولی: گربه ی شما چرا همیشه جلوی
تلویزیون می نشیند.

دومی: چون می خواهد بداند که مدرسه ی موش ها کی پخش می شود.

دانشمند جوان! کتاب های درسی فراموش نش!






۱۳۹۶

سال نو مبارک


پیش دبستانی و دبستان غیردولتی
نیک‌نام




۴. برای اینکه ماشین زیر به حرکت دربیاید باید آن را کامل کنید.



۵. کدام یک اهرم است؟





۱۳۹۶

سال نو مبارک

پیش دبستانی و دبستان غیردولتی
نیک‌نام

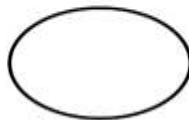
۶. نام هر آینه را بنویسید.



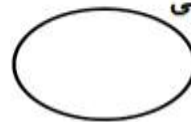
سر پیچ‌ها



آینه اتومبیل



آینه دندان پزشکی




۷. یکی از هم‌کلاسی‌های شما تعداد مهمان‌های عید نوروز خود را نوشته است. آن‌ها را روی نمودار نشان دهید.

اول	دوم	سوم	چهارم	پنجم	ششم	هفتم
فروردین	فروردین	فروردین	فروردین	فروردین	فروردین	فروردین
۴۰	۲۵	۳۰	۱۵	۳۰	۱۰	۵

۴۵						
۴۰						
۳۵						
۳۰						
۲۵						
۲۰						
۱۵						
۱۰						
۵						
	اول	دوم	سوم	چهارم	پنجم	ششم





۱۳۹۶

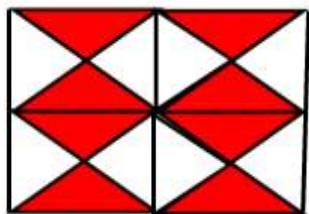
سال نو مبارک

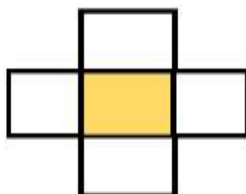
پیش دبستانی و دبستان غیردولتی

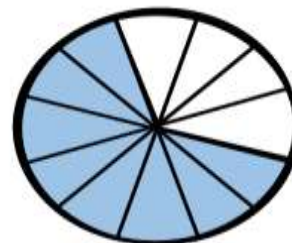
نیک نام




۸. کسری که هر شکل نشان می دهد را بنویسید.







۹. تساوی هر شکل را بنویسید.

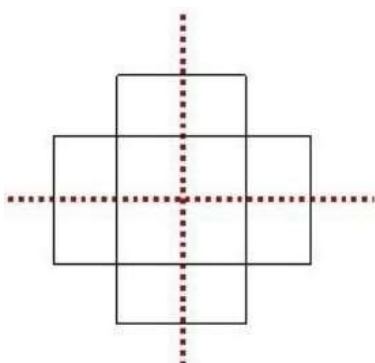


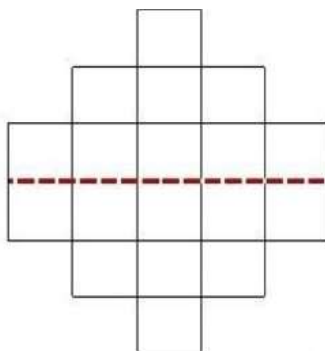
$$(\dots \times \dots) + (\dots \times \dots) = 2 \times 7$$

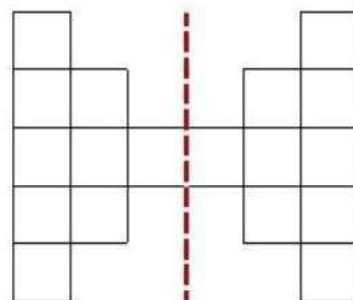


$$(3 \times \dots) + (\dots \times 2) = 3 \times \dots$$


۱۰. با توجه به خط تقارن ضرب هر شکل را بنویسید.











۱۳۹۶

سال نو
مبارک

پیش دبستانی و دبستان غیردولتی
نیک‌نام



۱۱. تخم مرغ های عید را رنگ آمیزی کنید.



۱۲. کار نیرو را در هر شکل مشخص کنید.



پارو زدن



زدن توپ به زمین



پرتاب توپ



رکاب زدن





۱۳۹۶

سال نو مبارک

پیش دبستانی و دبستان غیردولتی
نیک نام

۱۳. با هر دو کلمه یک جمله بنویسید.

وضو-قبل:

قوی-صبحانه:

حرکت-آهسته:

امام حسین(ع)-کربلا:

۱۴. الگوی این عددها را پیدا کن و بنویس.

۲۸	۳۳								
----	----	--	--	--	--	--	--	--	--

۲	۱۲								
---	----	--	--	--	--	--	--	--	--

۱۵. کلمه ها را از کتاب فارسی پیدا کن و بنویس.

خ	اُ	اِ	اَ	ح	ث	ع	ض	ذ	ص	س





۱۳۹۶

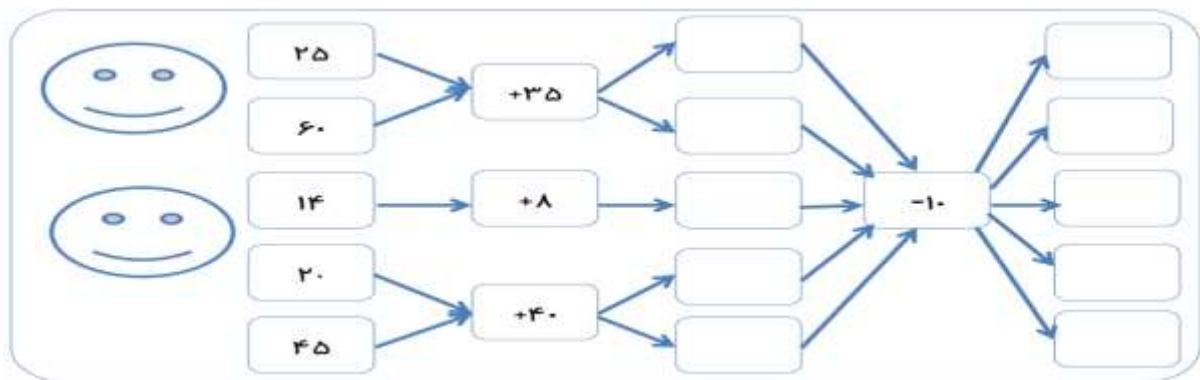
سال نو مبارک

پیش دبستانی و دبستان غیردولتی
نیک‌نام

۱۶. گل زیبای کلاس سوم مخالف هر کلمه را بنویس.

تیز	پایان	ناراحت	خیس	صبح	روشن	بیدار

۱۷. ماشین ورودی خروجی زیر را کامل کنید.




۱۸. جملات ناقص را کامل کنید.

الف) به کسی که پارچه می فروشد..... می گویند.

ب) به کسی که نقاشی می کشد..... می گویند.

ج) به کسی که کفش را تعمیر می کند..... می گویند.





۱۳۹۶

سال نو مبارک

پیش دبستانی و دبستان غیردولتی
نیک‌نام



۱۹. جمع و تفریق زیر را فرآیندی حل کنید.


$$\begin{array}{r} ۳۵۴۶ \\ + \\ ۲۳۲۱ \\ \hline \end{array}$$

$$\begin{array}{r} ۶۴۸۹ \\ - \\ ۲۳۵۸ \\ \hline \end{array}$$

بچه های عزیز !

در تعطیلات عید ، پرفوری نکنید و به اندازه بفرید .
به مرف پدر و مادرتان (بزرگ تر ها) متماً گوش کنید !





۱۳۹۶

سال نو
مبارک

پیش دبستانی و دبستان غیردولتی
نیک‌نام



۲۰. پسر عزیزم به سوالات زیر با توجه به کتاب اجتماعی پاسخ دهید.



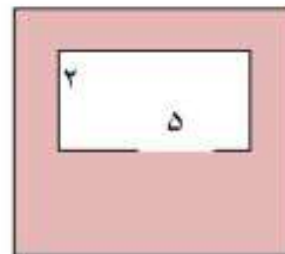
الف) خانواده چگونه به وجود می آید؟

ب) اعضای خانواده را تعریف کنید؟

ج) خانواده چگونه تغییر می کند؟

۲۱. مساحت قسمت رنگی را پیدا کنید.

۷





۱۳۹۶

سال نو
مبارک

پیش دبستانی و دبستان غیردولتی

نیک‌نام



خودم می‌توانم با تمام شدن پیک، به خودم نمره بدهم.

☐ خیلی خوب ☐ خوب ☐ قابل قبول ☐ نیاز به تلاش بیشتر


مادر و پاپایم شما هم به من نمره بدهید.

☐ خیلی خوب ☐ خوب ☐ قابل قبول ☐ نیاز به تلاش بیشتر

نظر معلم

☐ خیلی خوب ☐ خوب ☐ قابل قبول ☐ نیاز به تلاش بیشتر





۱۳۹۶

سال نو
مبارک

پیش دبستانی و دبستان غیردولتی
نیک نام



خدا قوت فرزند عزیزم .

امیدوارم در این تعطیلات روزهای خوبی را گذرانده باشی.

کم کم خودت را آماده کن تا شاداب و پر تلاش به کار خودت در سال جدید ادامه دهی .
من هم بی صبرانه منتظر دیدار شما هستم .

در باره ی من



نام من است. من دانش آموز کلاس هستم.

من در زندگی می کنم.

در مدرسه ی درس می خوانم. نام آموزگار من است.

