


عزیزه، به پرسش‌های زیر پاسخ بده. (برای درون دسته ها، هم می تونی شکل بکشی و هم چیزی مثل لوبیا، عدس، برپسب و ... بچسبانی)

۱. عسل برای جشن تولدش، بسته‌های شکلات آماده کرد. او در هر بسته ۳ شکلات قرار داد. سارا ۳ بسته برداشت. چند شکلات به سارا رسیده است؟



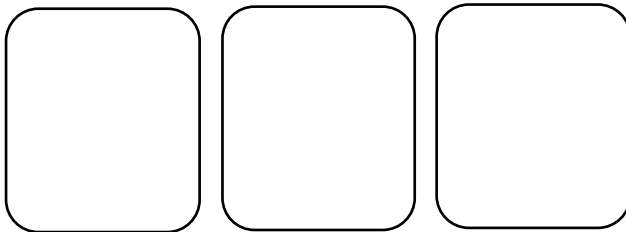
..... دسته می شود

..... × =

عبارت جمع:

الگو:

۲. آرتین برای دوستش نیکان، بسته‌های اسباب‌بازی آماده کرد. او در هر بسته ۴ اسباب‌بازی قرار داد. نیکان ۳ بسته برداشت. چند اسباب‌بازی به نیکان رسیده است؟



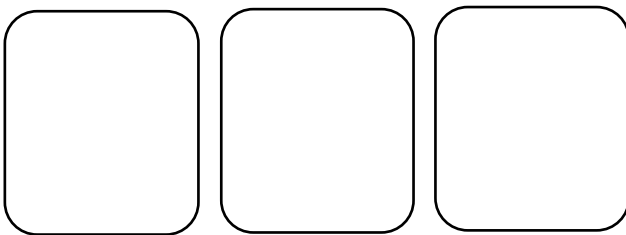
..... دسته می شود

..... × =

عبارت جمع:

الگو:

۳. فرشته روزی ۵ صفحه کتاب می‌خواند. بعد از ۳ روز چند صفحه می‌خواند؟



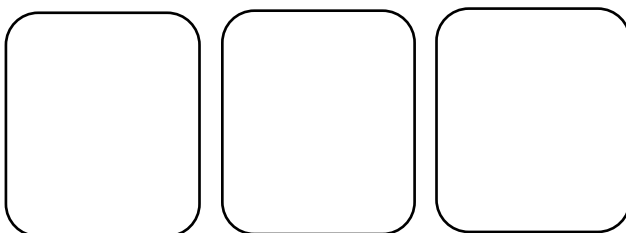
..... دسته می شود

..... × =

عبارت جمع:

الگو:

۴. ترمه روزی ۶ دقیقه ورزش می‌کند. او بعد از ۳ روز چند دقیقه ورزش کرده است؟



..... دسته می شود

..... × =

عبارت جمع:

الگو:

۵. راستین هر هفته ۷ آیه قرآن می خواند. در ۳ هفته چند آیه می خواند؟

..... دسته می شود

..... × =

..... عبارت جمع:

..... الگو:

۶. سوفیا و ثمین هر روز ۸ صفحه کتاب داستان می خوانند. آنها بعد از ۳ روز چند صفحه خوانده اند؟

..... دسته می شود

..... × =

..... عبارت جمع:

..... الگو:

۷. علی کارت های امتیازش را در ۳ دسته جدا کرد. درون هر دسته ۹ کارت امتیاز قرار داد. او چند کارت

امتیاز دارد؟

..... دسته می شود

..... × =

..... عبارت جمع:

..... الگو:

۸. عزیزدلم، حاصل ضرب های زیر را از راه جمع به دست آور.

$4 \times 3 = \dots\dots\dots$

$5 \times 3 = \dots\dots\dots$

$6 \times 3 = \dots\dots\dots$

$7 \times 3 = \dots\dots\dots$

۹. کلم، برای جمع های زیر عبارت ضرب بنویس.

$7 + 7 = \dots\dots\dots$

$5 + 5 + 5 = \dots\dots\dots$

$3 + 3 + 3 + 3 + 3 = \dots\dots\dots$

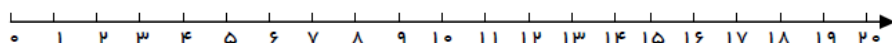
$9 + 9 + 9 + 9 = \dots\dots\dots$

$8 + 8 + 8 + 8 = \dots\dots\dots$

$7 + 7 + 7 + 7 + 7 = \dots\dots\dots$

۱۰. عزیزم، حاصل ضرب های زیر را با کمک محور به دست بیاور.

$2 \times 5 = \dots\dots\dots$



$5 \times 2 = \dots\dots\dots$

