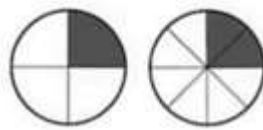


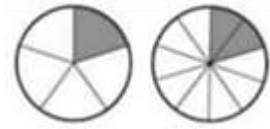
• برای شکل‌های زیر کسر مساوی بنویس.



— = — = —

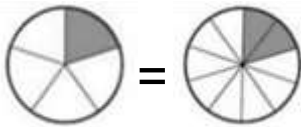


— = —



— = —

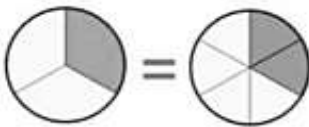
• هر شکل را به کسرهای مساوی مربوط به خودش وصل کن.



$$\frac{1}{3} = \frac{2}{6}$$

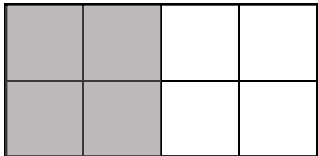


$$\frac{1}{5} = \frac{2}{10}$$



$$\frac{4}{5} = \frac{8}{10}$$

• برای شکل زیر سه کسر مساوی بنویس.



— = — = —

• تساوی $\frac{4}{6} = \frac{2}{3}$ را با رسم شکل مناسب نشان بده.

• حالا که عالی تمرینات را انجام دادی، یک سوال مانند سوالات بالا طراحی و حل کن.

