

به نام بهترین دوستم خدا

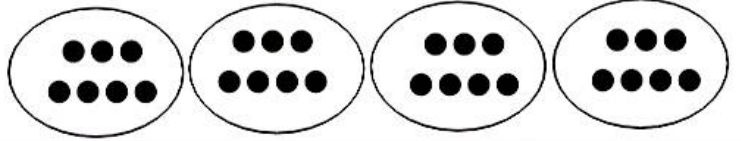
آزمون فصل ۴ ریاضی سوم

ارزشیابی دی ماه ۱۴۰۳


نام و نام خانوادگی:

۱. با توجه به دسته های داده شده یک عبارت ضرب بنویسید

..... × =



۲. با استفاده از روش کشیدن شکل، ضرب داده شده را حل کنید.



۳. برای جمع های داده شده عبارت ضرب بنویسید و پاسخ را به دست آورید.


۳ + ۳ + ۳ + ۳ + ۳ + ۳ + ۳ =

..... × =

۶ + ۶ + ۶ + ۶ + ۶ + ۶ + ۶ + ۶ =

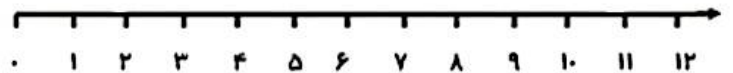
..... × =

۴. ضرب داده شده را با روش شمارش چند تا چند تا (نوشتن الگو) حل کنید.



۵. پناه سه جعبه مداد ۴ تایی دارد. ابتدا یک عبارت ضرب بنویسید. سپس با روش محور پاسخ را به دست بیاورید.

..... × =



۶. با استفاده از مستطیل داده شده جواب ضرب را به دست آورید.



۷. با توجه به ضرب داده شده جاهای خالی را کامل کنید. (خاصیت توزیع پذیری)

9 × 8 = (×) + (×) = + =

7 × 9 = (×) + (×) = + =