


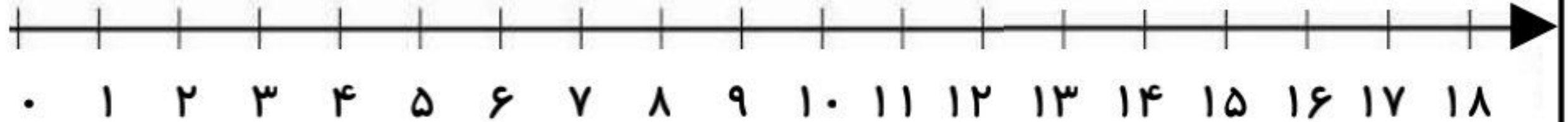
• شکل‌های زیر را با توجه به عدد نوشته شده در کنار آن، دسته بندی کن و ضرب و تقسیم آن را بنویس.



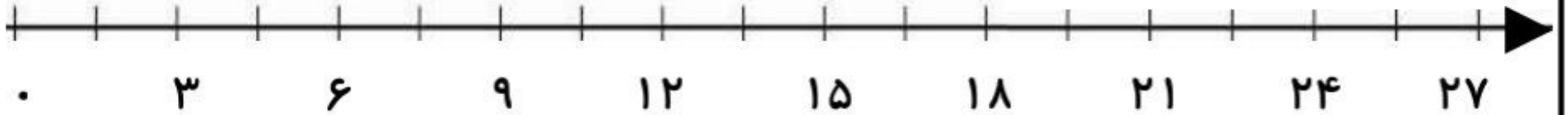
..... × = ÷ =

• تقسیم‌های زیر را روی محور نشان بده .

$$18 \div 2 = 9$$



$$27 \div 9 = 3$$



• با اعداد ۴، ۷، ۲۸ و ۸، ۶، ۴۸ دو تساوی ضرب و دو تساوی تقسیم بنویس.

..... × = ÷ = ☆ × = ÷ =
..... × = ÷ = × = ÷ =

• برای تقسیم $12 \div 6$ یک مسئله بنویس و حل کن .

• در جاهای خالی عددهای مناسب بنویس.

$$(54 \div 6) + (5 \times 8) = \dots + \dots = \dots$$

$$(8 \times 2) + (7 \times 4) = \dots \div 4 = \dots$$

$$(42 \div 7) + \dots = 12$$

$$20 \div \dots = 2 \times 2$$

$$(32 \div 8) + (3 \times 5) = \dots$$

• حالا که عالی تمرینات را انجام دادی، یک سوال مانند سوالات بالا طراحی و حل کن.

