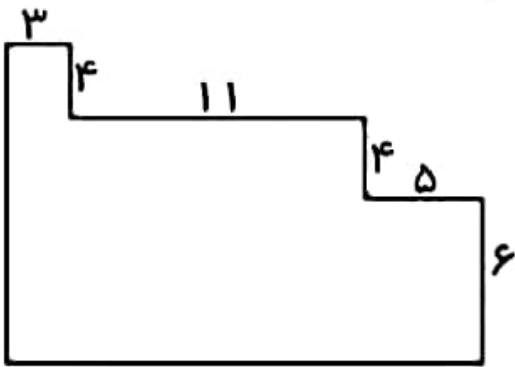
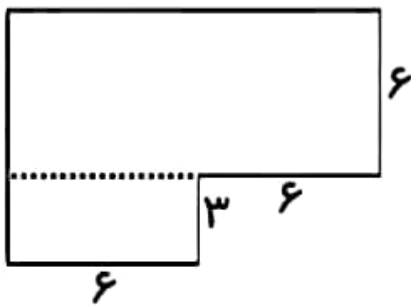



محیط و مساحت شکل های زیر را بدست آورید



محیط = .....



مساحت = .....



مساحت قسمت رنگی = .....



محیط = .....

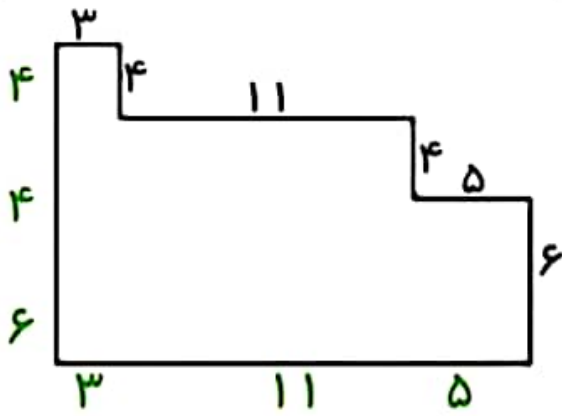
مساحت = .....



محیط = .....

مساحت = .....

محیط و مساحت شکل های زیر را بدست آورید



$$\text{محیط} = 3 + 4 + 11 + 4 + 5 + 6 + 19 + 14 = 66$$

$$\text{مساحت مستطیل} = 12 \times 6 = 72$$


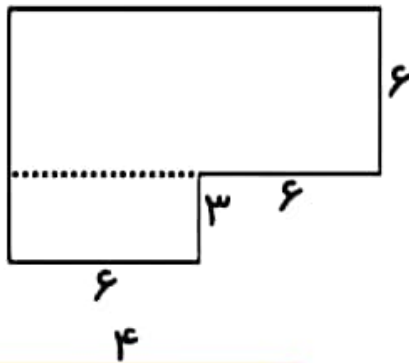
سانتی متر مربع

$$\text{مساحت مستطیل} = 6 \times 3 = 18$$

سانتی متر مربع

$$\text{مساحت کل} = 72 + 18 = 90$$

سانتی متر مربع



$$\text{مساحت مربع} = 4 \times 4 = 16$$

سانتی متر مربع

$$\text{مساحت مربع} = 2 \times 2 = 4$$

سانتی متر مربع

$$\text{مساحت قسمت رنگی} = 16 - 4 = 12$$

سانتی متر مربع



$$\text{محیط} = 12 + 6 + 12 + 6 = 36$$

$$\text{محیط} = 4 \times 5 = 20$$

$$\text{مساحت} = 12 \times 6 = 72$$

$$\text{مساحت} = 5 \times 5 = 25$$

سانتی متر مربع akbariii\_3

سانتی متر مربع