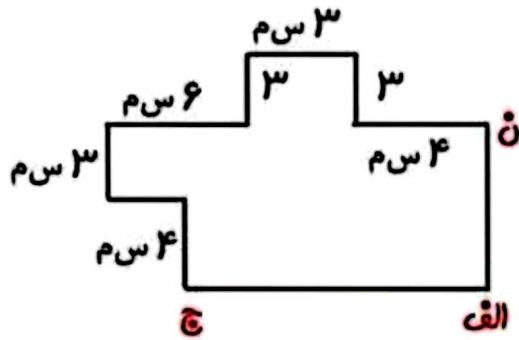




۱- عزیزم اندازه‌ی پاره خط « الف-ج » و « ن-الف » را بدست بیاور و سپس محیط

شکل را حساب کن ؟

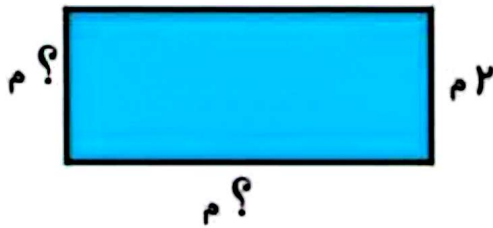


۲- در باغ پدرزرگ مریم استخری به عرض ۲ متر وجود دارد . طول استخر ۴ برابر

عرض آن است. پدرزرگ می‌خواهد دور تا دور این استخر را زرده بکشد تا بچه‌ها در

استخر نیفتند. بنظر شما پدرزرگ چند متر زرده نیاز دارد ؟

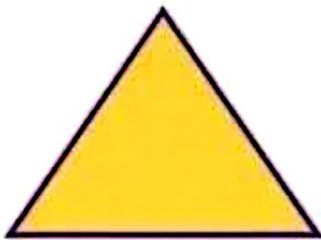
۴ پداید عرض



۳- با سیمی فلزی به طول ۲۵ سانتی متر یک مثلث که هر سه ضلع آن مساوی هم

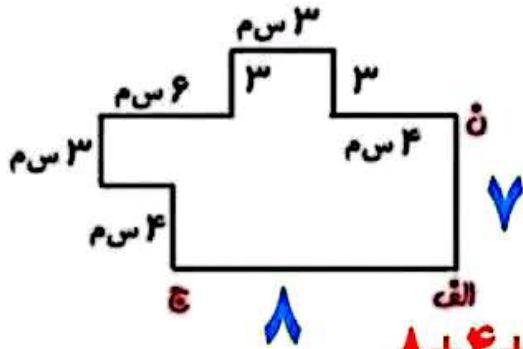
هستند، ساختیم. اما ۴ سانتی متر از سیم اضافه ماند ، اندازه‌ی هر ضلع این مثلث

چند سانتی متر است ؟





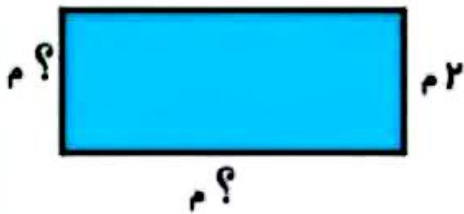
۱- عزیزم اندازه‌ی پاره خط « الف-ج » و « ن-الف » را بدست بیاور و سپس محیط شکل را حساب کن ؟



محیط شکل یعنی دورتادور شکل

$$۸+۴+۳+۳+۶+۳+۳+۳+۴+۷=۴۴$$

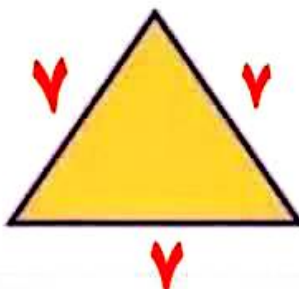
۲- در باغ پدرزرگ مریم استخری به عرض ۲ متر وجود دارد . طول استخر ۴ برابر عرض آن است. پدرزرگ می‌خواهد دور تا دور این استخر را زرده بکشد تا بچه‌ها در استخر نیفتند. بنظر شما پدرزرگ چند متر زرده نیاز دارد ؟



$$\text{طول} = ۴ \times ۲ = ۸$$

$$\text{محیط} : ۸ + ۲ + ۸ + ۲ = ۲۰$$

۳- با سیمی فلزی به طول ۲۵ سانتی متر یک مثلث که هر سه ضلع آن مساوی هم هستند ساختیم. اما ۴ سانتی متر از سیم اضافه ماند ، اندازه‌ی هر ضلع این مثلث چند سانتی متر است ؟



$$۲۵ - ۴ = ۲۱$$

$$۲۱ \div ۳ = ۷$$