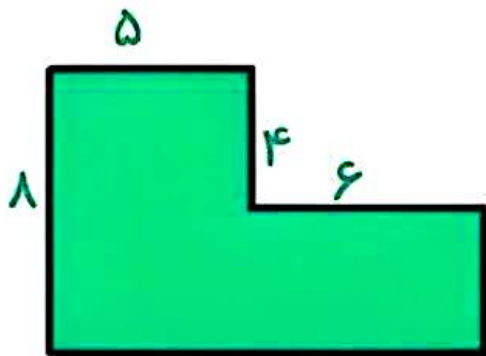
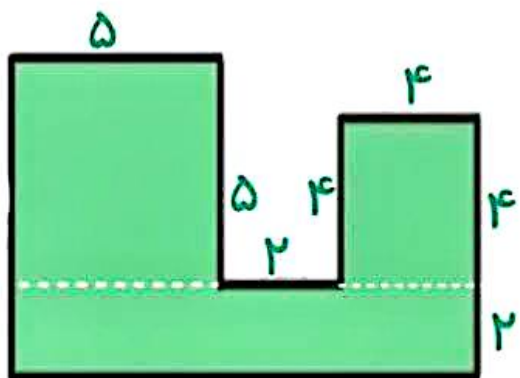


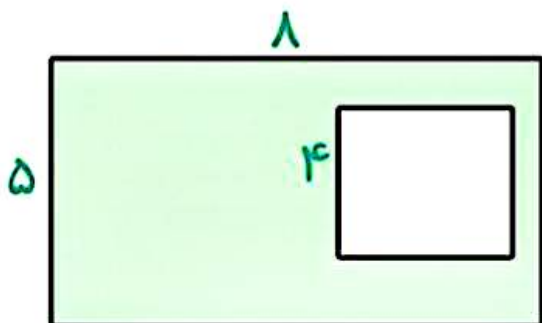
## محیط و مساحت شکل های زیر را آورید .



= محیط

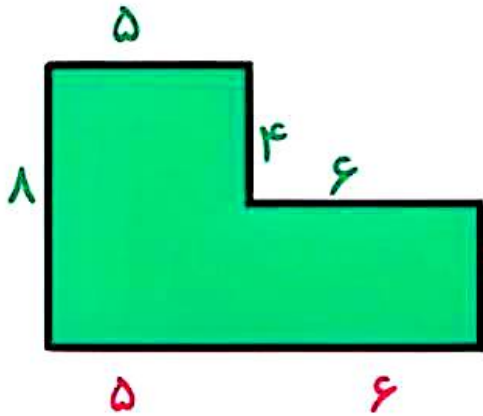


= مساحت

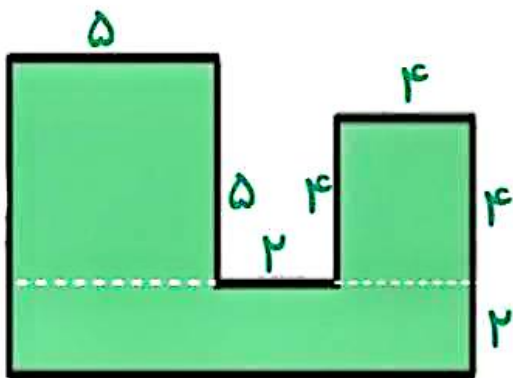


= مساحت قسمت  
رنگی

## محیط و مساحت شکل های زیر را آورید .



$$\text{محیط} = 8 + 5 + 4 + 6 + 4 + 6 + 5 = 38$$



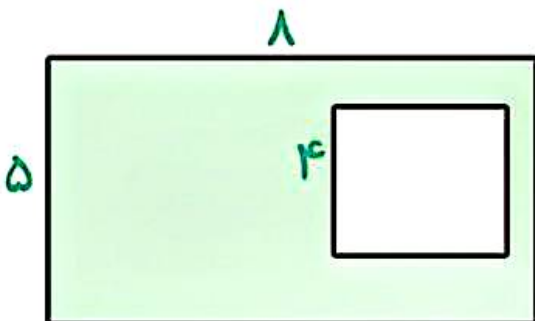
$$\text{مساحت مربع} = 5 \times 5 = 25 \text{ سانتی متر مربع}$$

$$\text{مساحت مربع} = 4 \times 4 = 16 \text{ سانتی متر مربع}$$

$$\text{مساحت مستطیل} = 2 \times 11 = 22 \text{ سانتی متر مربع}$$

$$\text{مساحت کل} = 25 + 16 + 22 = 63$$

سانتی متر مربع



$$\text{مساحت مستطیل} = 8 \times 5 = 40 \text{ سانتی متر مربع}$$

$$\text{مساحت مربع} = 4 \times 4 = 16 \text{ سانتی متر مربع}$$

$$\text{مساحت قسمت رنگی} = 40 - 16 = 24 \text{ سانتی متر مربع}$$

