



معلم یار سوم

عضو نشدیی

معلم یار سوم

هنوز تو کانال



برای حمایت از معلم یار ، حتما عضو شو

معلم یار سوم = دریافت پاسخنامه

@MoallemYari3

ورود به کانال اصلی لمس کنید



توجه توجه



این فایل از کانال معلم یار سوم دانلود شده است .
برای حمایت از ما و دریافت نمونه سوالات با پاسخنامه
بیشتر

لطفا عضو کانال اصلی با آدرس زیر شوید :



@MoallemYari3



برای عضویت کافیه

آی دی @MoallemYari3 و تو قسمت جست و جوی تلگرام

سرچ کنید



با تشکر از حمایت شما عزیزان

اعتبار ما ، اعتماد شماست

اردیبهشت ماه

①

به نام خدا

کاربرگ هفتگی

پایه سوم دبستان

نام:

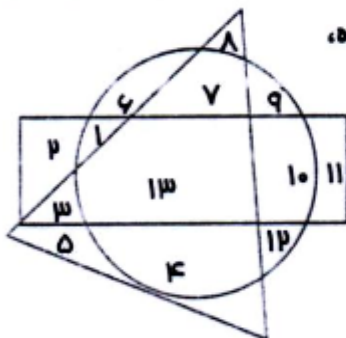

نام خانوادگی:

کلاس:



ریاضی فصل ۸ - حل مسئله (حذف حالت‌های نامطلوب، ضرب در عدد ۱۰)،
ضرب عددهای یک رقمی در چند رقمی

۱- بزرگ‌ترین عدد چهاررقمی که رقم‌هایش تکراری نباشد و عددی فرد باشد، کدام است؟



۲- در این شکل، چه عددهایی هم داخل مستطیل هستند و هم داخل دایره، اما بیرون مثلث؟ (کانگورو ۲۰۰۴)

- الف) ۵ و ۱۱ ب) ۱ و ۱۰ ج) ۱۳
- د) ۳ و ۹ هـ) ۶ و ۷ و ۴

۳- ضرب‌های زیر را به صورت ذهنی حل کن.

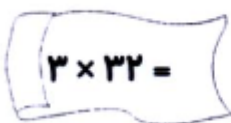
$۳۰ \times ۷۰ = \square$

$۵ \times ۲ \times ۱۰ = \square$

$۴ \times ۸ \times ۱۰۰ = \square$


$۶۰ \times ۱۰۰ = \square$

۴- ضرب را روی شکل نشان بده و آن را حل کن.



۵- با یک خط هر عبارت ضرب را به جواب درست آن وصل کن.

$۸۰۰ \odot$	$\odot ۷ \times ۶ \times ۱۰$
$۳۵۰۰ \odot$	$\odot ۱۰ \times ۱۴۰$
$۱۴۰۰ \odot$	$\odot ۴۰ \times ۲۰$
$۴۲۰ \odot$	$\odot ۱ \times ۳۵۰۰$



اردیبهشت ماه

①

نام : به نام خدا
نام خانوادگی :
کلاس :
پایه سوم دبستان
کار برگ هفتگی

۶- حاصل ضرب های زیر را به صورت تقریبی بنویس.

$$۸۷ \times ۵۲ \rightarrow \dots \times \dots = \dots$$



$$۴۱ \times ۳۶ \rightarrow \dots \times \dots = \dots$$

$$۲۵ \times ۳۹ \rightarrow \dots \times \dots = \dots$$

$$۱۳ \times ۵۸ \rightarrow \dots \times \dots = \dots$$

۷- ژاله تعدادی کلوچه خرید که قیمت هر کدامشان ۳۰۰ تومان بود. او ۱۰۰۰ تومان به فروشنده داد و ۱۰۰ تومان پس گرفت. ژاله چند کلوچه خرید؟ (کانگورو ۲۰۰۵)

الف) ۲ ب) ۳ ج) ۴ د) ۵ ه) ۶

۸- پدر علی در هر ساعت، ۱۲ متر مربع از اتاقی را رنگ می کند. او در ۴ ساعت چند متر مربع رنگ می کند؟

