



آزمون مداد کاغذی ریاضی فصل هفتم

نام و نام خانوادگی:

۱. تعداد کتاب های کتابخانه یک کلاس در جدول زیر ثبت شده است. نمودار ستونی آن را رسم کنید و به سوال های زیر

نوع کتاب	شعر	داستان	علمی	سرگرمی	مذهبی
تعداد	۱۰	۴۰	۳۰	۲۰	۳۰

پاسخ دهید.

الف) کتاب های داستانی چند تا بیشتر از کتاب های علمی است؟

ب) کتاب های شعر چند تا کم تر از کتاب های مذهبی است؟

ج) در مجموع چند کتاب در این کتابخانه وجود دارد؟

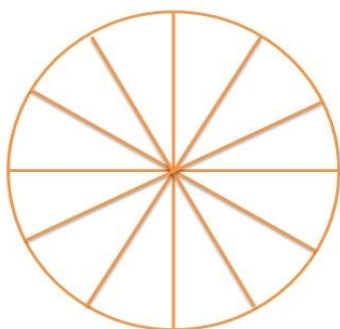


۲. کار های سارا از ساعت ۸ صبح تا ۸ شب در جدول زیر مشخص شده است.

کار	ورزش	استراحت	مطالعه	کمک به کارهای مادرش	تماشای تلویزیون
زمان	۲	۲	۴	۳	۱
رنگ	سبز	زرد	قرمز	نارنجی	آبی

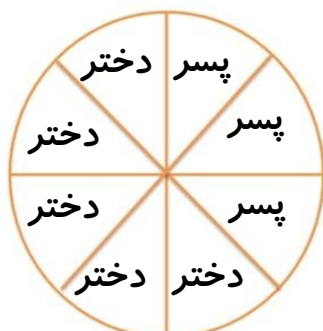
❖ با توجه به این که هر قسمت ساعت می باشد.

❖ کارهای سارا را با رنگ مورد نظر، بر روی نمودار دایره ای نشان بده.

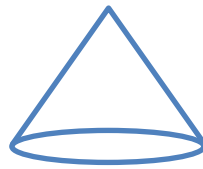
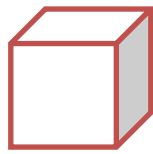


۳. تعداد دانش آموزان در یک آموزشگاه زبان ۴۰ دختر و پسر است. با توجه به نمودار بنویس چند دختر و چند پسر زبان

می آموزند؟



۴. نام شکل ها را بنویس .

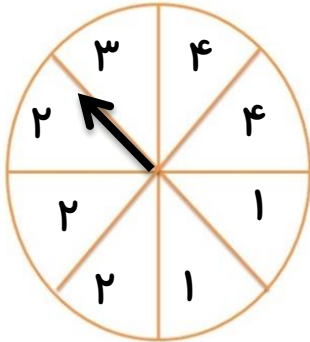


.....

.....

.....

۵. با توجه به چرخنده مقابل به سوال ها پاسخ دهید.



الف) احتمال آمدن کدام عدد بیشتر است؟.....

ب) احتمال آمدن کدام عدد کمتر است؟.....

۶. عددی یک رقمی هستم که اگر در خودم ضرب شوم و به حاصل آن ۲۵ تا اضافه شود، حاصل جمع ۵۰ می شود.

$$\square \times \square = \square + 25 = 50$$

بازخورد آموزگار:

