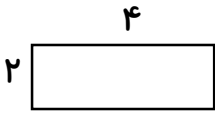
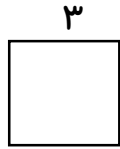


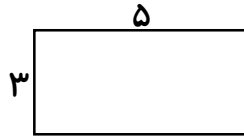
• مساحت هر کدام از شکل‌های زیر چند سانتی‌متر مربع است؟



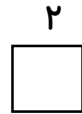
مساحت =



مساحت =

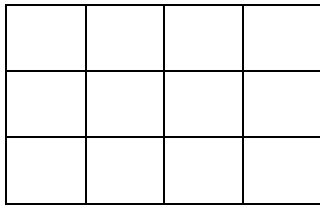


مساحت =

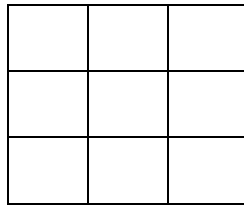


مساحت =

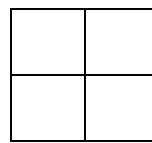
• مانند نمونه جدول مربوط به هر شکل را کامل کن.




(۲)



(۲)



(۱)

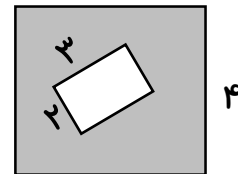
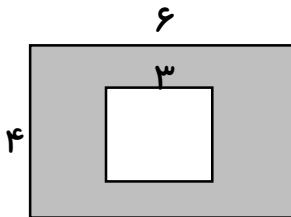


(۱)

طول ضلع	مساحت مربع
(۱)	
(۲)	

طول	عرض	مساحت مستطیل
(۱)		
(۲)		

• مساحت قسمت رنگی شکل‌های زیر چقدر است؟



• مساحت شکل‌های زیر را به دست بیاور.

