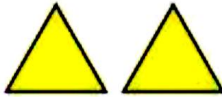





دفترچه‌ی درسنامه‌ی ریاضی آزمون
«۷ فروردین دوم دبستان»



آزمونک ریاضی (۱)



۱. در شکل زیر چند مربع و چند مثلث وجود دارد؟

۳-۱ (۱) ۴-۲ (۲)

۳-۲ (۳) ۱-۴ (۴)

۲. ساعت زیر چه ساعتی را نشان می‌دهد؟

۱۰ (۱) ۱۲ (۲)

۹ (۳) ۴ (۴)

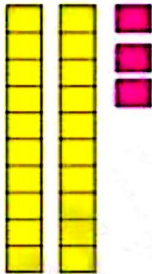
۳. اعداد انگلیسی زیر به ترتیب از راست به چپ در کدام گزینه به درستی به فارسی تبدیل شده است؟

4-9-1

۴-۹-۸ (۱) ۴-۱-۹ (۲)

۶-۵-۷ (۳) ۴-۹-۱ (۴)

۴. تعداد اشیاء زیر چندتا است؟



۲۳ (۱)

۲۵ (۲)

۲۲ (۳)

۲۰ (۴)

۵. در کدام گزینه ترتیب شمارش درست است؟

۲۴-۲۵-۲۳ (۱) ۶۴-۶۶-۶۷ (۲)

۷۶-۷۷-۷۸ (۳) ۸-۱۰-۹ (۴)





دفترچه‌ی درسنامه‌ی ریاضی آزمون «۷ فروردین دوم دبستان»



پاسخ آزمونک (۱)

۱. گزینه‌ی ۱، - (عدد و رقم - صفحه‌ی ۲ کتاب درسی) «نویدرضا یوسفی»



۲. گزینه‌ی ۳، - (عدد و رقم - صفحه‌ی ۳ کتاب درسی) «نویدرضا یوسفی»

ساعت ۹ است زیرا عقربه‌ی بزرگ روی ۱۲ و عقربه‌ی کوچک روی ۹ است.

۳. گزینه‌ی ۴، - (عدد و رقم - صفحه‌ی ۲ کتاب درسی) «نویدرضا یوسفی»

1 → ۱ 9 → ۹ 4 → ۴

۴. گزینه‌ی ۱، - (عدد و رقم - صفحه‌ی ۵ کتاب درسی) «نویدرضا یوسفی»

یکی	ده‌تایی
۳	۲
۲۳	

دو دسته‌ی ده‌تایی و سه تکی که روی هم ۲۳ تا می‌شود.

۵. گزینه‌ی ۳، - (عدد و رقم - صفحه‌ی ۷ کتاب درسی) «نویدرضا یوسفی»

درست سایر گزینه‌ها:

۲۵ - ۲۴ - ۲۳: گزینه‌ی ۱،

۶۷ - ۶۶ - ۶۵ - ۶۴: گزینه‌ی ۲،

۱۰ - ۹ - ۸: گزینه‌ی ۴،