

الحمد لله رب العالمين



« به نام خدا »



نو بهار است در آن کوش که خوش دل باشی ...

عزیزان همراه و زیبا دلان آینده سازا خدا را شاکریم که بار دیگر توفیقی حاصل آمد تا فرا رسیدن بهاران را به شما همراهان همیشگی ، شاد باش گوییم و بار دیگر نو شدن طبیعت را فرخنده و مبارک بگیریم .

در این روزها که طراوت و شادابی ، قرین طبیعت گشته و حلاوت نو شدن و تازگی بر سر پهنه ی عالم نقش بسته است ، چه خوب است ما نیز نو شدن را از طبیعت بیاموزیم .

شما ای بهار آفرینان پر تلاش و پر توان! در این بهار نیز بیایید با خود عهدی ببندید که بیش از پیش کوشش کنید و گام های موثری در راه رسیدن به موفقیت بردارید.

با تعیین هدف و برنامه ریزی و عمل به آن ، گام های موفقیت را یکی پس از دیگری خواهید پیمود.

نور موفقیت و پیشرفت، چهره ی شما را بیش از پیش بهاری و شاداب خواهد کرد و زیبایی تان افزون خواهد گشت . در این راه ، ما نیز همچون همیشه همراه شما خواهیم بود. امیدواریم که این بهار ، شروع درخشانی باشد برای افتخار آفرینی شما در عرصه های تحصیلی و اخلاقی.

بهارتان خرم ، روزگارتان شاد، افکارتان زیبا و آینده تان روشن باد .

مدیریت دبستان





سلام پسرای گلم ! امیدوارم سرحال و شاداب باشید. توی یکی از روزهای تعطیل بهاری

می خواهیم علامت تنوین را بشناسیم.

تعریف تنوین: « نون ساکنیه که خونده میشود ولی به شکل «نون» نوشته نمی شود» تنوین سه شکل دارد.

۱. تنوین فتحه که شکلش [َ] و آن را با صدای [َ] می خوانیم.

۲. تنوین کسره که شکلش [ِ] و آن را با صدای [ِ] می خوانیم.

۳. تنوین ضمه که شکلش [ُ] و آن را با صدای [ُ] می خوانیم.

ضَلالٍ	باطِلًا
مُبِينٍ	سُلْطَانًا
شَهِيدٌ	نَافِلَةً
مَائِدَ	مُتَّصِدَعًا
صِدْقٍ	لِغَدٍ
شَفَاةٌ	مِرْصُوصٌ
رَحْمَةً	صَقًّا

پیامبر(ص) به حضرت علی (ع) سفارش فرمود :

سعی کن در همه حال قرآن بخوانی





۱. کدام یک از صاحبان مشاغل معمولاً در شب هم فعالیت می کنند؟

- الف) فروشندگان ☐ ب) پرستاران ☐ ج) کارمندان ☐

۲. کدام جانور زیر روز ها فعالیت نمی کنند ؟

- الف) خفاش ☐ ب) سوسک ☐ ج) گرگ ☐

۳. چگونه می توان از جابه جایی خاک به وسیله ی باد جلوگیری کرد ؟

- الف) باکاشت گیاه ☐ ب) ساخت ساختمان ☐ ج) باجلوگیری از وزش باد ☐

۴. کدام یک از خسارت های طوفان است ؟

- الف) خرابی زمین های کشاورزی ☐ ب) پوشاندن جاده ها با ماسه ☐ ج) غرق شدن کشتی ها ☐

۵. خورشید در قطب چگونه می تابد؟

- الف) مایل ☐ ب) راست ☐ ج) مستقیم ☐

۶. کدام صدای زیر آزار دهنده است ؟

- الف) زنگ تلفن همراه ☐ ب) سوت پلیس ☐ ج) مته یا اره برقی ☐

۷. کدام مورد چشمه ی نور نیست ؟

- الف) چراغ راهنمایی ☐ ب) ماه ☐ ج) شمع ☐

هر کس کار نیکی انجام دهد، ده برابر آن پاداش به او خواهند داد.

سوره انعام آیه ۱۶۰





۸. کدام مورد زیر در حرکت وسایل نقلیه نقش مهمی دارد ؟

- الف) گرما ☐ ب) نور ☐ ج) سوخت ☐

۹. کدام مورد باعث صرفه جویی در مصرف سوخت می شود ؟

- الف) استفاده از وسایل نقلیه ☐ ب) استفاده از گاز شهری ☐ ج) استفاده از آتش ☐

۱۰. هنگام مشاهده در کدام مورد زیر باید احتیاط کرد ؟

- الف) نوشتن یادداشت ها ☐ ب) بوییدن و چشیدن چیزها ☐ ج) شنیدن بعضی صداها ☐

۱۱. مشاهدات به کمک کدام مورد انجام می شود ؟

- الف) بینایی و شنوایی ☐ ب) بویایی و لامسه و چشایی ☐ ج) گزینه های الف و ب ☐

۱۲. کدام مورد به پاکیزگی هوا کمک می کند ؟

- الف) از بین بردن فاضلاب ☐ ب) ایجاد فضای سبز ☐ ج) ایجاد تصفیه خانه ☐

۱۳. کدام آب برای نوشیدن انسان مناسب است ؟

- الف) آب تصفیه شده ☐ ب) آب دریاچه ها ☐ ج) آب رودخانه ها ☐

۱۴. برای از بین بردن میکروب های آب چه می کنند ؟

- الف) آن را گرما می دهند ☐ ب) آن را از صافی می گذرانند ☐

- ج) ضد عفونی کننده ی مناسب به آن می زنند ☐

۱۵. برای صرفه جویی در آب کدام مورد مناسب تر است ؟

- الف) نوشیدن کمتر آب ☐ ب) کنترل شیر آب ☐

- ج) شست و شو با آب رودخانه ها ☐





۱۶. کدام یک بر زندگی جانداران اثر دارد و آن را به خطر می اندازد؟

- الف) فضای سبز ☐ ب) خشکی و کم آبی ☐ ج) کنترل شیر آلات ☐

۱۷. آلودگی هوا در کجا بیشتر است ؟

- الف) شهرهای بزرگ ☐ ب) روستاها ☐ ج) شهرهای کوچک ☐

۱۸. گردش زمین به دور خود چقدر طول می کشد ؟

- الف) یک روز ☐ ب) ۲۴ ساعت ☐ ج) گزینه الف و ب ☐

۱۹. نور خورشید برای غذا سازی کدام یک ضروری است ؟

- الف) انسان ☐ ب) جانوران ☐ ج) گیاهان ☐

۲۰. در کدام زمان زیر دمای هوا بیشتر است ؟

- الف) ۲ بعد از ظهر ☐ ب) ۱۱ صبح ☐ ج) ۶ عصر ☐

لطیفه:

علی به رضا گفت : "من می گویم حلزون از فیل قوی تر است !"

رضا: "چرا؟"

علی : " چون حلزون می تواند خانه اش را با خودش حمل کند، اما فیل نمی تواند "





جمله سازی

۱. به کسی که ادب ندارد.....می گویند ؟

- ☐ الف) بی سواد ☐ ب) نابینا ☐ ج) بی ادب

۲. کدام حیوان در داستان خرس کوچولو نبود ؟

- ☐ الف) خرگوش ☐ ب) فیل ☐ ج) گنجشک

۳. کلمه ی مشترک کدام است ؟ (کتابدار - کتابخانه - کتابفروش)

- ☐ الف) فروش ☐ ب) دار ☐ ج) کتاب

۴. کدام یک از گزینه ها جمله زیر را کامل می کند ؟

امروزآموزگار را در خیابان دیدم.

- ☐ الف) معمولاً ☐ ب) حتماً ☐ ج) اتفاقاً


۵. حروف در هم ریخته را مرتب کنید . (ا - م - ظ - ت - ب - و)

- ☐ الف) منتظر ☐ ب) منظم ☐ ج) مواظبت

۶. مخالف کلمه ی بزرگی کدام است ؟

- ☐ الف) زیادی ☐ ب) کوچکی ☐ ج) درشتی





۷. به جای کلمه ی داخل کمانک کدام گزینه مناسب است ؟

چوپان اورا (نصیحت) می کرد.

- ☐ الف) راهنمایی ☐ ب) بد گویی ☐ ج) غیبت

۸. خمیری که در تنور پخته می شود ؟

- ☐ الف) شیرینی ☐ ب) شکلات ☐ ج) نان

۹. به کسی که به گل و گیاهان رسیدگی می کند می گویند ؟

- ☐ الف) آشپز ☐ ب) معلم ☐ ج) باغبان

۱۰. با دومین حرف معلم آخرین حرف گل و اولین حرف مامور کلمه ای ساخته می شود ؟

- ☐ الف) علم ☐ ب) عالی ☐ ج) علی

۱۱. به جایی که در آن پارچه می فروشند می گویند؟

- ☐ الف) داروخانه ☐ ب) قنادی ☐ ج) بزازی

۱۲. همه ی داستان های شاهنامه به است ؟

- ☐ الف) نثر ☐ ب) شعر ☐ ج) عجم





۱۳. نام بزرگترین پهلوان ایرانی شاهنامه چیست ؟

☐ (ج) اسفندیار

☐ (ب) سهراب

☐ (الف) رستم

۱۴. کدام کلمه ی زیر برای مقایسه ی دو انسان مناسب تر است ؟

☐ (ج) مهربان ترین

☐ (ب) مهربان تر

☐ (الف) مهربان

۱۵. بیستون از آثار تاریخی کدام شهر است ؟

☐ (ج) کرمانشاه

☐ (ب) اصفهان

☐ (الف) کرمان

۱۶. کدام گزینه را نمی توان با (ان) جمع بست ؟

☐ (ج) خانواده

☐ (ب) کودکی

☐ (الف) آن

۱۷. به محل تولد چه می گویند ؟

☐ (ج) درمانگاه

☐ (ب) آرامگاه

☐ (الف) زادگاه

۱۸. آرامگاه کدام شاعر در شهر شیراز قرار دارد ؟

☐ (ج) مولوی

☐ (ب) فردوسی


☐ (الف) سعدی


۱۹. کدام کلمه ی زیر نشانه ی وسط پرچم ایران است ؟

☐ (ج) الله

☐ (ب) ۲۲ بهمن

☐ (الف) الله اکبر





۲۰. کدام رنگ پرچم ایران نشانه دفاع از کشور است ؟

- ☐ الف) سبز ☐ ب) سفید ☐ ج) سرخ


۲۰. کدام گزینه جمله ی مقابل را به درستی کامل می کند؟ احمد درسش را می خواند.

- ☐ الف) بلند ☐ ب) نم نم ☐ ج) دوان دوان



آن چیست که اگر به زمین بیفتد نمی شکند، در آب هم تر نمی شود؟





جدول را کامل کنید.

-	۹	۸	۷	۵
۱۸				
۱۵				

+	۴	۷	۵
۳			

۵۹۳

۱. باز شده ی این عدد کدام است؟

☐ (ج) $۵۰۰+۹۰+۳$

☐ (ب) $۵۰۰+۹+۳$

☐ (الف) $۵۰۰+۹۰+۳$

۲. ساعت ۵ ونیم است. سه ساعت بعد ساعت چند است؟

☐ (ج) $۶:۳۰$

☐ (ب) $۸:۳۰$

☐ (الف) $۷:۳۰$

۳. مینا ۳۷ سال دارد ، او ۶ ساله بود که برادرش به دنیا آمد . اکنون مینا و برادرش روی هم چند

سال دارد؟

☐ (ج) ۵۸ سال

☐ (ب) ۶۲ سال

☐ (الف) ۵۳ سال



۴. در کدام یک از جمع های زیر یک دسته ی جدید ، فقط به صدتایی ها اضافه می شود؟

☐ (ج)
$$\begin{array}{r} ۲۶۳ \\ +۴۵۶ \end{array}$$

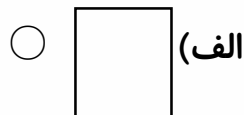
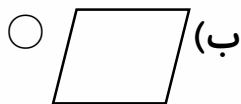
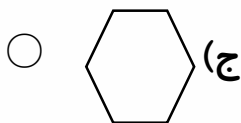
☐ (ب)
$$\begin{array}{r} ۳۸۵ \\ +۱۰۶ \end{array}$$

☐ (الف)
$$\begin{array}{r} ۴۵۹ \\ +۲۷۳ \end{array}$$





۵. تعداد خط تقارن کدام شکل از بقیه کم تر است؟



۶. من چه عددی هستم ؟ یکانم کوچک ترین عدد یک رقمی و دهگانم بزرگ ترین عدد یک رقمی

☐ (ج) ۹۰

☐ (ب) ۱۹

☐ (الف) ۸۱

۷. حسین از ۱۸ کتاب داستانش ، ۴ کتاب را خوانده است . چند کتاب را نخوانده است؟

☐ (ج) ۱۲

☐ (ب) ۱۳

☐ (الف) ۱۴

۸. عدد ۲۵ به کدام یک نزدیک تر است ؟

☐ (ج) ۴۰

☐ (ب) ۲۰

☐ (الف) ۳۰

۹. در ظرف میوه ۱۲ سیب و ۲۰ پرتقال و ۱۰ خیار است ، چند میوه در ظرف است ؟

☐ (ج) ۲۱

☐ (ب) ۳۲

☐ (الف) ۴۲

۱۰. ساعت چند است ؟



☐ (ج) ۴:۴۵

☐ (ب) ۹:۲۰

☐ (الف) ۱۰:۲۰


۱۱. حاصل جمع (۲۷۰+۳۱۰) کدام گزینه است ؟

☐ (ج) ۴۷۹

☐ (ب) ۵۵۰

☐ (الف) ۵۸۰





۱۲. باقیمانده ی (۲۱۰ - ۷۶۰) کدام گزینه است ؟

○ ۲۳۰ (ج)

○ ۵۵۰ (ب)

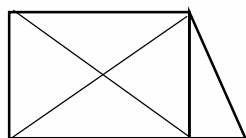
○ ۵۳۰ (الف)

۱۲.۱۳ میلی متر چند سانتی متر است ؟

○ (ب) ۲ سانتی متر و ۱ میلی متر

○ (الف) ۱ سانتی متر و ۲ میلی متر

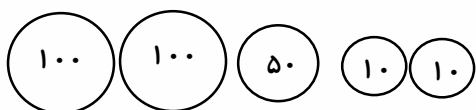
○ (ج) ۱۲ سانتی متر و ۲ میلی متر



۱۴. در شکل مقابل چند مثلث وجود دارد؟

۱۵. ۴۷ برابر است با ده تایی و ۱۷ یکی.

۱۶. ۴۵ میلی متر برابر است با سانتی متر و میلی متر.



۱۷. جمع سکه های مقابل چند ریال است؟

۱۸. حاصل جمع های زیر را به صورت ذهنی بنویسید.

$$۷۰ + ۲۰ = \dots\dots\dots$$


$$۳۰ + ۵۰ = \dots\dots\dots$$


۱۹. برای شکل یک جمع بنویسید.

۵

+.....

.....





۲۰. حاصل تفریق را به صورت ذهنی کامل کنید .

$$۹۰ - ۴۰ = \dots\dots\dots$$

$$۸۰ - ۶۰ = \dots\dots\dots$$

۲۱. صدتایی منهای ۷ صدتایی می شود.....صدتایی.

۲۲. حاصل جمع و تفریق زیر را از هر راهی که دوست دارید به دست آورید.

$$۱۴ - ۸ = \dots\dots\dots$$

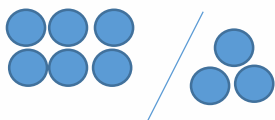
$$۹ + ۷ = \dots\dots\dots$$

$$۱۰ - ۴ = \dots\dots\dots$$

۲۳. عددی دورقمی که رقم یکان آن ۵ و رقم دهگان آن ۴ تایش تر از رقم یکان است

.....

۲۴. با توجه به شکل عبارت زیر را کامل کنید و علامت $< = >$ بگذارید.



.....○.....

۲۵. با شابلون به دلخواه ۴ مثلث بکشید.

لطیفه:

قاضی به متهم: " شما چطور توانستید در پانزده دقیقه گاوصندوق را باز کنید؟"
متهم به قاضی: " من این چیزها را را مجانی یاد نمی دهم "



کاردستی بهارانه





گل پسرای خوبم برای ساخت این خرگوش کوچولو

فقط چند تا تکه مقوای سفید و صورتی میخوایم .

برای ساخت چشمای خرگوش کوچولو می تونیم از ورقه

قرص های تمام شده و دو تا عدس رنگ شده استفاده کنیم.





معیار خود ارزیابی دانش آموزان :

ردیف	موضوع	شاخص ارزیابی			
		بسیار خوب	خوب	متوسط	ضعیف
۱					
۲	زیبایی کار				
۳	دقت				
۴	برنامه ریزی				
۵	وقت شناسی				
۶	علاقه مندی به کار				
۷	خلاقیت				

معیار خود ارزیابی اولیا :

ردیف	موضوع	شاخص ارزیابی			
		بسیار خوب	خوب	متوسط	ضعیف
۱					
۲	زیبایی کار				
۳	دقت				
۴	برنامه ریزی				
۵	وقت شناسی				
۶	علاقه مندی به کار				
۷	خلاقیت				

معیار ارزیابی معلم :

ردیف	موضوع	شاخص ارزیابی			
		بسیار خوب	خوب	متوسط	ضعیف
۱					
۲	زیبایی کار				
۳	دقت				
۴	برنامه ریزی				
۵	وقت شناسی				
۶	علاقه مندی به کار				
۷	خلاقیت				

یادداشت معلم (توصیف معلم) :

.....

.....

