

این فایل از کانال معلم یار دوم دانلود شده است .
برای حمایت از ما و دریافت نمونه سوالات با پاسخنامه بیشتر
در تلگرام آی دی زیر را جست و جو کنید

معلم یار دوم

نمونه سوال با پاسخنامه

درسنامه

فیلم های آموزشی

فیلم حل تمرین کتاب درسی

گام به گام

جزوه

برای دریافت مطالب کافی عضو کانال معلم یار دوم

به آدرس:

@MoallemYariR2

بشید

برود به کانال اصلی لمس کنید

در صورت قطع کله اینترنت کشور !

دوباره برمیگردم به سایت معلم یار و مطالب جدید و پایه به پایه تو سایت میفرستم



WwW.MoallemYar.iR



WwW.6Paye.iR






اللهم صل على محمد



« به نام خدا »



نو بهار است در آن کوش که خوش دل باشی ...

عزیزان همراه و زیبا دلان آینده ساز! خدا را شاکریم که بار دیگر توفیقی حاصل آمد تا فرا رسیدن بهاران را به شما همراهان همیشگی، شاد باش گوییم و بار دیگر نو شدن طبیعت را فرخنده و مبارک بگیریم.

در این روزها که طراوت و شادابی، قرین طبیعت گشته و حلاوت نو شدن و تازگی بر سر پهنه ی عالم نقش بسته است، چه خوب است ما نیز نو شدن را از طبیعت بیاموزیم.

شما ای بهار آفرینان پر تلاش و پر توان! در این بهار نیز بیایید با خود عهدی ببندید که بیش از پیش کوشش کنید و گام های موثری در راه رسیدن به موفقیت بردارید.

با تعیین هدف و برنامه ریزی و عمل به آن، گام های موفقیت را یکی پس از دیگری خواهید پیمود.

نور موفقیت و پیشرفت، چهره ی شما را بیش از پیش بهاری و شاداب خواهد کرد و زیبایی تان افزون خواهد گشت. در این راه، ما نیز همچون همیشه همراه شما خواهیم بود. امیدواریم که این بهار، شروع درخشانی باشد برای افتخار آفرینی شما در عرصه های تحصیلی و اخلاقی.

بهارتان خرم، روزگارتان شاد، افکارتان زیبا و آینده تان روشن باد.

مدیریت دبستان





۱. کدام یک از صاحبان مشاغل معمولاً در شب هم فعالیت می کنند؟

- (الف) فروشندگان (ب) پرستاران (ج) کارمندان

۲. کدام جانور زیر روزها فعالیت نمی کنند؟

- (الف) خفاش (ب) سوسک (ج) گرگ

۳. چگونه می توان از جابه جایی خاک به وسیله ی باد جلوگیری کرد؟

- (الف) باکاشت گیاه (ب) ساخت ساختمان (ج) باجلوگیری از وزش باد

۴. کدام یک از خسارت های طوفان است؟

- (الف) خرابی زمین های کشاورزی (ب) پوشاندن جاده ها با ماسه (ج) غرق شدن کشتی ها

۵. خورشید در قطب چگونه می تابد؟

- (الف) مایل (ب) راست (ج) مستقیم

۶. کدام صدای زیر آزار دهنده است؟

- (الف) زنگ تلفن همراه (ب) سوت پلیس (ج) مته یا اره برقی

۷. کدام مورد چشمه ی نور نیست؟

- (الف) چراغ راهنمایی (ب) ماه (ج) شمع

هر کس کار نیکی انجام دهد، ده برابر آن پاداش به او خواهند داد.

سوره انعام آیه ۱۶۰





۸. کدام مورد زیر در حرکت وسایل نقلیه نقش مهمی دارد؟

- الف) گرما ب) نور ج) سوخت

۹. کدام مورد باعث صرفه جویی در مصرف سوخت می شود؟

- الف) استفاده از وسایل نقلیه ب) استفاده از گاز شهری ج) استفاده از آتش

۱۰. هنگام مشاهده در کدام مورد زیر باید احتیاط کرد؟

- الف) نوشتن یادداشت ها ب) بوییدن و چشیدن چیزها ج) شنیدن بعضی صداها

۱۱. مشاهدات به کمک کدام مورد انجام می شود؟

- الف) بینایی و شنوایی ب) بویایی و لامسه و چشایی ج) گزینه های الف و ب

۱۲. کدام مورد به پاکیزگی هوا کمک می کند؟

- الف) از بین بردن فاضلاب ب) ایجاد فضای سبز ج) ایجاد تصفیه خانه

۱۳. کدام آب برای نوشیدن انسان مناسب است؟

- الف) آب تصفیه شده ب) آب دریاچه ها ج) آب رودخانه ها

۱۴. برای از بین بردن میکروب های آب چه می کنند؟

- الف) آن را گرما می دهند ب) آن را از صافی می گذرانند

- ج) ضد عفونی کننده ی مناسب به آن می زنند

۱۵. برای صرفه جویی در آب کدام مورد مناسب تر است؟

- الف) نوشیدن کمتر آب ب) کنترل شیر آب

- ج) شست و شو با آب رودخانه ها





۱۶. کدام یک بر زندگی جانداران اثر دارد و آن را به خطر می اندازد؟

- الف) فضای سبز ب) خشکی و کم آبی ج) کنترل شیر آلات

۱۷. آلودگی هوا در کجا بیشتر است؟

- الف) شهرهای بزرگ ب) روستاها ج) شهرهای کوچک

۱۸. گردش زمین به دور خود چقدر طول می کشد؟

- الف) یک روز ب) ۲۴ ساعت ج) گزینه الف و ب

۱۹. نور خورشید برای غذا سازی کدام یک ضروری است؟

- الف) انسان ب) جانوران ج) گیاهان

۲۰. در کدام زمان زیر دمای هوا بیشتر است؟

- الف) ۲ بعد از ظهر ب) ۱۱ صبح ج) ۶ عصر

لطیفه:

علی به رضا گفت: "من می گویم حلزون از فیل قوی تر است!"

رضا: "چرا؟"

علی: "چون حلزون می تواند خانه اش را با خودش حمل کند، اما فیل نمی تواند"





جمله سازی

۱. به کسی که ادب ندارد.....می گویند ؟

- الف) بی سواد ب) نابینا ج) بی ادب

۲. کدام حیوان در داستان خرس کوچولو نبود ؟

- الف) خرگوش ب) فیل ج) گنجشک

۳. کلمه ی مشترک کدام است ؟ (کتابدار - کتابخانه - کتابفروش)

- الف) فروش ب) دار ج) کتاب

۴. کدام یک از گزینه ها جمله زیر را کامل می کند ؟

امروزآموزگار را در خیابان دیدم.

- الف) معمولاً ب) حتماً ج) اتفاقاً


۵. حروف در هم ریخته را مرتب کنید . (ا - م - ظ - ت - ب - و)

- الف) منتظر ب) منظم ج) مواظبت

۶. مخالف کلمه ی بزرگی کدام است ؟

- الف) زیادی ب) کوچکی ج) درشتی





۷. به جای کلمه ی داخل کمانک کدام گزینه مناسب است ؟

چوپان اورا (نصیحت) می کرد.

- الف) راهنمایی ب) بد گویی ج) غیبت

۸. خمیری که در تنور پخته می شود ؟

- الف) شیرینی ب) شکلات ج) نان

۹. به کسی که به گل و گیاهان رسیدگی می کند می گویند ؟

- الف) آشپز ب) معلم ج) باغبان

۱۰. با دومین حرف معلم آخرین حرف گل و اولین حرف مامور کلمه ای ساخته می شود ؟

- الف) علم ب) عالی ج) علی

۱۱. به جایی که در آن پارچه می فروشند می گویند؟

- الف) داروخانه ب) قنادی ج) بزازی

۱۲. همه ی داستان های شاهنامه به است ؟

- الف) نثر ب) شعر ج) عجم





۱۳. نام بزرگترین پهلوان ایرانی شاهنامه چیست ؟

- الف) رستم ب) سهراب ج) اسفندیار

۱۴. کدام کلمه ی زیر برای مقایسه ی دو انسان مناسب تر است ؟

- الف) مهربان ب) مهربان تر ج) مهربان ترین

۱۵. بیستون از آثار تاریخی کدام شهر است ؟

- الف) کرمان ب) اصفهان ج) کرمانشاه

۱۶. کدام گزینه را نمی توان با (ان) جمع بست ؟

- الف) آن ب) کودک ج) خانواده

۱۷. به محل تولد چه می گویند ؟


- الف) زادگاه ب) آرامگاه ج) درمانگاه


۱۸. آرامگاه کدام شاعر در شهر شیراز قرار دارد ؟

- الف) سعدی ب) فردوسی ج) مولوی

۱۹. کدام کلمه ی زیر نشانه ی وسط پرچم ایران است ؟

- الف) الله اکبر ب) ۲۲ بهمن ج) الله






۲۰. کدام رنگ پرچم ایران نشانه دفاع از کشور است؟

- الف) سبز ب) سفید ج) سرخ


۲۰. کدام گزینه جمله ی مقابل را به درستی کامل می کند؟ احمد درسش را می خواند.

- الف) بلند ب) نم نم ج) دوان دوان



آن چیست که اگر به زمین بیفتد نمی شکند، در آب هم تر نمی شود؟





جدول را کامل کنید.

-	۹	۸	۷	۵
۱۸				
۱۵				

+	۴	۷	۵
۳			

۵۹۳

۱. باز شده ی این عدد کدام است؟

۵۰+۹۰+۳ (ج)

۵۰۰+۹+۳ (ب)

۵۰۰+۹۰+۳ (الف)

۲. ساعت ۵ ونیم است. سه ساعت بعد ساعت چند است؟

۶:۳۰ (ج)

۸:۳۰ (ب)

۷:۳۰ (الف)

۳. مینا ۳۷ سال دارد ، او ۱۶ ساله بود که برادرش به دنیا آمد . اکنون مینا و برادرش روی هم چند

سال دارد؟

۵۸ سال (ج)

۶۲ سال (ب)

۵۳ سال (الف)



۴. در کدام یک از جمع های زیر یک دسته ی جدید ، فقط به صدتایی ها اضافه می شود؟

$\begin{array}{r} ۲۶۳ \\ +۴۵۶ \end{array}$ (ج)


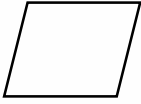
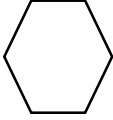
$\begin{array}{r} ۳۸۵ \\ +۱۰۶ \end{array}$ (ب)

$\begin{array}{r} ۴۵۹ \\ +۲۷۳ \end{array}$ (الف)





۵. تعداد خط تقارن کدام شکل از بقیه کم تر است؟

- (الف) 
- (ب) 
- (ج) 

۶. من چه عددی هستم؟ یکانم کوچک ترین عدد یک رقمی و دهگانم بزرگ ترین عدد یک رقمی

- (الف) ۸۱
- (ب) ۱۹
- (ج) ۹۰

۷. حسین از ۱۸ کتاب داستانش ، ۴ کتاب را خوانده است . چند کتاب را نخوانده است؟

- (الف) ۱۴
- (ب) ۱۳
- (ج) ۱۲

۸. عدد ۲۵ به کدام یک نزدیک تر است؟

- (الف) ۳۰
- (ب) ۲۰
- (ج) ۴۰

۹. در ظرف میوه ۱۲ سیب و ۲۰ پرتقال و ۱۰ خیار است ، چند میوه در ظرف است؟

- (الف) ۴۲
- (ب) ۳۲
- (ج) ۲۱

۱۰. ساعت چند است؟



- (الف) ۱۰:۲۰
- (ب) ۹:۲۰
- (ج) ۴:۴۵

۱۱. حاصل جمع (۲۷۰+۳۱۰) کدام گزینه است؟

- (الف) ۵۸۰
- (ب) ۵۵۰
- (ج) ۴۷۹





۱۲. باقیمانده ی (۲۱۰ - ۷۶۰) کدام گزینه است ؟

○ ۲۳۰ (ج)

○ ۵۵۰ (ب)

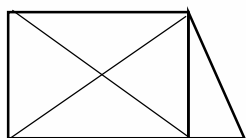
○ ۵۳۰ (الف)

۱۲.۱۳ میلی متر چند سانتی متر است ؟

○ (ب) ۲ سانتی متر و ۱ میلی متر

○ (الف) ۱ سانتی متر و ۲ میلی متر

○ (ج) ۱۲ سانتی متر و ۲ میلی متر

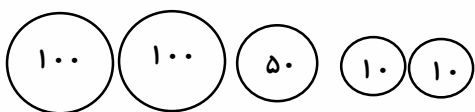


۱۴. در شکل مقابل چند مثلث وجود دارد؟

۱۵. ۴۷ برابر است با ده تایی و ۱۷ یکی.

۱۶. ۴۵ میلی متر برابر است با سانتی متر و میلی متر.

۱۷. جمع سکه های مقابل چند ریال است؟



۱۸. حاصل جمع های زیر را به صورت ذهنی بنویسید.

$70 + 20 = \dots\dots\dots$


$30 + 50 = \dots\dots\dots$


۵

۱۹. برای شکل یک جمع بنویسید.

+.....

.....





۲۰. حاصل تفریق را به صورت ذهنی کامل کنید.

$$۹۰ - ۴۰ = \dots\dots\dots$$

$$۸۰ - ۶۰ = \dots\dots\dots$$

۲۱. صدتایی منهای ۷ صدتایی می شود.....صدتایی.

۲۲. حاصل جمع و تفریق زیر را از هر راهی که دوست دارید به دست آورید.

$$۱۴ - ۸ = \dots\dots\dots$$

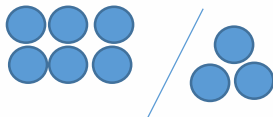
$$۹ + ۷ = \dots\dots\dots$$

$$۱۰ - ۴ = \dots\dots\dots$$

۲۳. عددی دورقمی که رقم یکان آن ۵ و رقم دهگان آن ۴ تا بیش تر از رقم یکان است

.....

۲۴. با توجه به شکل عبارت زیر را کامل کنید و علامت $< = >$ بگذارید.



.....○.....

۲۵. با شابلون به دلخواه ۴ مثلث بکشید.

لطیفه:

قاضی به متهم: " شما چطور توانستید در پانزده دقیقه گاو صندوق را باز کنید؟"

متهم به قاضی: " من این چیزها را را مجانی یاد نمی دهم "



کاردسته بهارانه





گل پسرای خوبم برای ساخت این خرگوش کوچولو

فقط چند تا تکه مقوای سفید و صورتی میخوایم .

برای ساخت چشمای خرگوش کوچولو می تونیم از ورقه

قرص های تمام شده و دو تا عدس رنگ شده استفاده کنیم.





Circle
correct
answer.

Ba----	Bea----	----oes


the

	sad	hot	hungry
	sing	run	climb
	bathroom	sofa	kitchen
	pillow	shelf	bed






Color in the drawing by numbers.



1-Blue 2-Red 3-Green 4-Yellow 5-Brown





معیار خود ارزیابی دانش آموزان :

شاخص ارزیابی				موضوع	ردیف
ضعیف	متوسط	خوب	بسیار خوب		۱
				زیبایی کار	۲
				دقت	۳
				برنامه ریزی	۴
				وقت شناسی	۵
				علاقه مندی به کار	۶
				خلاقیت	۷

معیار خود ارزیابی اولیا :

شاخص ارزیابی				موضوع	ردیف
ضعیف	متوسط	خوب	بسیار خوب		۱
				زیبایی کار	۲
				دقت	۳
				برنامه ریزی	۴
				وقت شناسی	۵
				علاقه مندی به کار	۶
				خلاقیت	۷

معیار ارزیابی معلم :


شاخص ارزیابی				موضوع	ردیف
ضعیف	متوسط	خوب	بسیار خوب		۱
				زیبایی کار	۲
				دقت	۳
				برنامه ریزی	۴
				وقت شناسی	۵
				علاقه مندی به کار	۶
				خلاقیت	۷

یادداشت معلم (توصیف معلم) :

.....

.....





پیش دبستان و دبستان نهال دانش

نشانی : فلکه سوم تهرانپارس ، خیابان ۱۹۶ غربی (زفرقندی)

پلاک ۱۵ (جنب اداره اوقاف) کدپستی : ۱۶۵۳۷۸۷۷۱۱

تلفن تماس : ۷۷۸۶۲۵۲۳ دور نگار : ۷۷۷۱۵۵۴۷



www.nahaldanesh.ir

telegram:@nahaldanesh

