

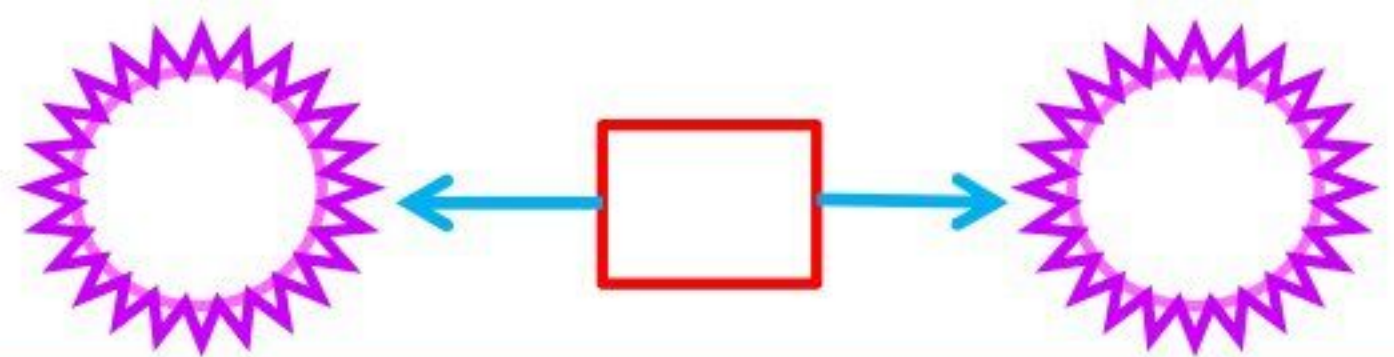
۱) با سه کارت که روی آن ها ۶ و ۵ و ۹ نوشته شده باشد، یک عدد سه رقمی بنویس که یکان آن بزرگترین عدد یک رقمی، دهگان آن ۴ تا از یکان کم تر و صدگان آن یکی از دهگان بیش تر باشد.



۲) همه ی عددهای سه رقمی که یکان و دهگانشان صفر است را به ترتیب بنویس.

.....

۳) عرفان ۸۷۲ ریال پول دارد. مهدی ۸۰۰ ریال و علی ۹۰۰ ریال پول دارند. مقدار پول عرفان به پول کدام یک از این دونفر نزدیکتر است؟



۴) سبا ۸۵۲ ریال پول دارد. مقدار پول او به قیمت کدام یک از جنس های زیر نزدیک تر است؟



۱۹۰ ریال



۷۹۰ ریال



۳۸۰ ریال

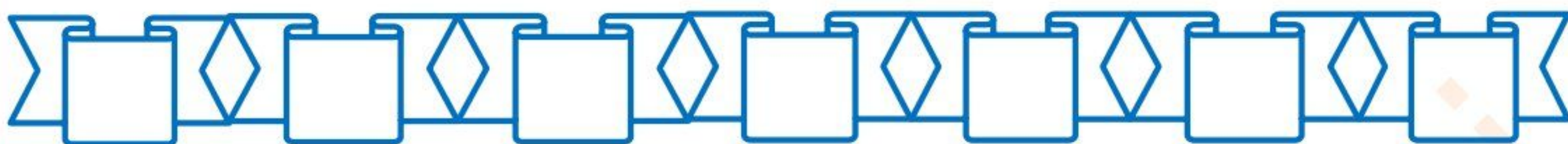


۸۵۰ ریال

.....



۵) عددهای بین ۵۸۷ و ۵۲۵ را بنویس که یکانشان ۶ باشد.



۶) با چند سکه ۵۰ ریالی می توانی ۵۰۰ ریال را درست کنی؟ ( شکل بکش)

۷) محصولات باغ آقای امیری پس از برداشت به صورت زیر گزارش شده است:

	پرتقال	سیب	انار
سالم	۲۴۳	۱۹۶	۳۴۲
ناسالم	۲۷	۳۵	۴۶

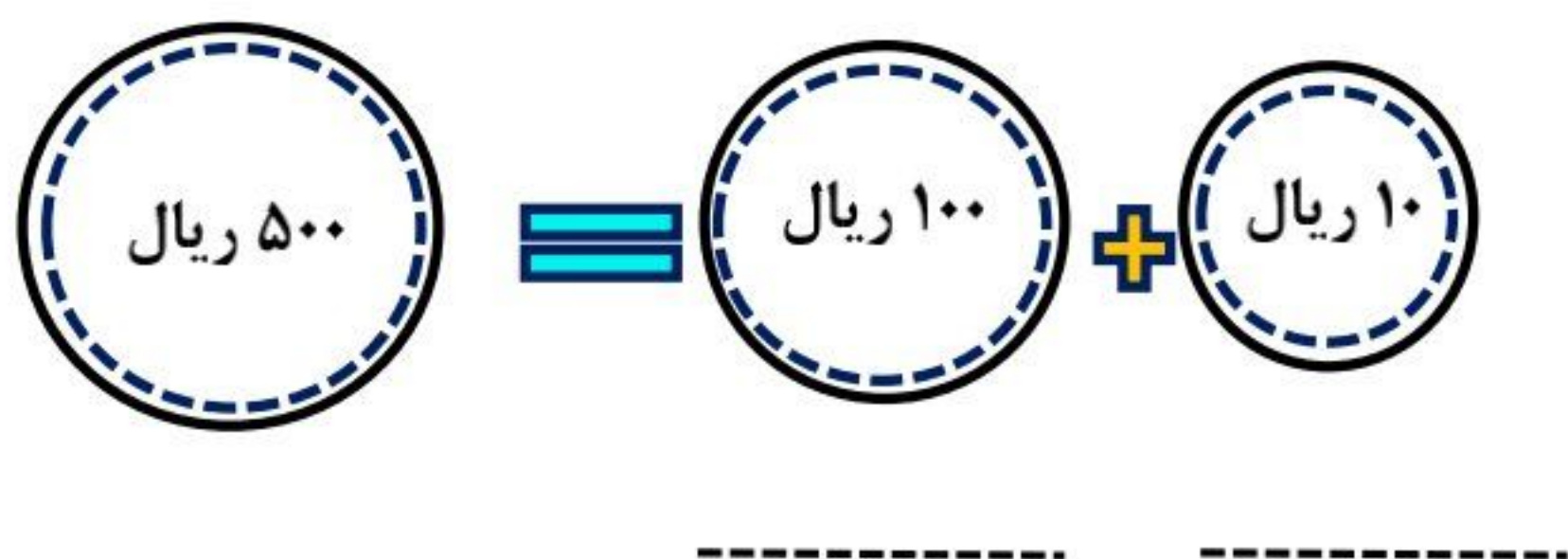
الف) مجموع سیب ها و پرتقال های سالم تقریبا چند عدد است؟ (با حذف رقم یکان و دهگان)

ب) به طور تقریبی تعداد انار های سالم چند تا بیشتر از تعداد پرتقال های سالم است؟ (حذف رقم یکان و دهگان)

ج) مجموع سیب ها و انارهای ناسالم چند تا است؟



۸) جاهای خالی را با توجه به سکه ها با نوشتن عددی که تعداد هر سکه را نشان می دهد، کامل کن.



۹) کدام یک از عددهای زیر می تواند یک مقدار تقریبی برای عدد ۳۱۵ باشد؟

ج) ۳۰۰

ب) ۳۱۰

الف) ۲۵۰

۱۰) در کدام گزینه الگوی شمارش ۶ تا ۶ تا دیده می شود؟

ج) ۱۳، ۱۵، ۱۷، ۱۹

ب) ۳۷، ۴۲، ۴۷، ۵۲

الف) ۳۲، ۳۸، ۴۴، ۵۰

۱۱) باز شده ی عدد ۵۸۲ کدام است؟

ج)  $۵۰۰ + ۸۰ + ۲$

ب)  $۵۰۰ + ۲۰۰ + ۸$

الف)  $۵۰۰ + ۲ + ۸۰۰$

۱۲) با ۳ کارت ۰، ۵، ۱ چند عدد سه رقمی بیش تر از ۱۰۰ می توان نوشت؟

ج) ۴ تا

ب) ۰

الف) ۵ تا