



نوع آزمون:

آموزشگاه:

نام و نام خانوادگی:

زمان آزمون:

طراح سوال:

کلاس:

۱- قبل و بعد اعداد زیر را بنویس.

_____ ۲۲۹ _____

_____ شصت و نه _____

_____ ۶۱۱ _____

_____ هفتصد و یک _____

۲- جمع و تفریق‌های زیر را انجام بده.

$۷۰ + ۲۰ = \underline{\hspace{2cm}}$

$۱۴ + ۸ = \underline{\hspace{2cm}}$

$۹۰ - ۴۰ = \underline{\hspace{2cm}}$

$۲۸ + ۹ = \underline{\hspace{2cm}}$

۳- در شمارش ۶ تا ۶، بعد از عدد ۱۸ کدام عدد است؟ _____

۴- مرتضی برای چراغانی جشن نیمه شعبان ۴۶ لامپ رنگی استفاده کرد، ۲۹ تا قرمز و بقیه آبی، چند لامپ آبی بود؟

۵- نرگس و ۷ نفر دیگر از دوستانش در کلاس بودند، ۴ نفر دیگر به کلاس آمدند. و ۳ نفر خارج شدند. حالا چند نفر در کلاس هستند؟

۶- اعداد داخل دایره به کدام یک از اعداد داخل مربع نزدیکتر است؟ رنگ کن.





نوع آزمون:

آموزشگاه:

نام و نام خانوادگی:

زمان آزمون:

طراح سوال:

کلاس:

۷- جمله‌های درست را با علامت \times مشخص کن.

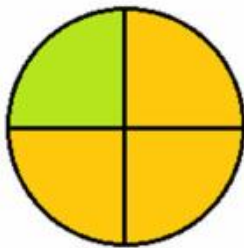
- در چندضلعی‌ها تعداد گوشه‌ها با تعداد ضلع‌ها برابر است.

- مستطیل ۴ ضلع مساوی دارد.

- مثلث ۳ ضلع مساوی دارد.

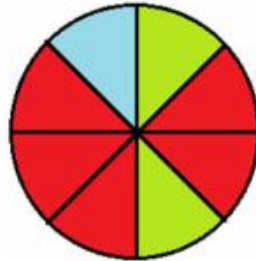
- مربع ۴ گوشه دارد.

۸- در هر هدف احتمال برخورد تیر به رنگ‌ها را بنویس.



احتمال بیشتر: _____

احتمال کمتر: _____



احتمال بیشتر: _____

احتمال کمتر: _____



احتمال بیشتر: _____

احتمال کمتر: _____

۹- مینا ۱۴ سال و خواهرش سیمین ۲۰ سال دارد. این دو نفر با هم چند سال دارند؟ آیا می‌دانید ۱۰ سال پیش این دو

خواهر چند سال داشته‌اند؟
(۳)

۱۰- باز شده‌ی اعداد زیر را بنویس.

$$۴۵۲ = \underline{\hspace{1cm}} + \underline{\hspace{1cm}} + \underline{\hspace{1cm}}$$

$$۲۵۴ = \underline{\hspace{1cm}} + \underline{\hspace{1cm}} + \underline{\hspace{1cm}}$$

$$۷۹۰ = \underline{\hspace{1cm}} + \underline{\hspace{1cm}}$$

$$۶۰۶۰ = \underline{\hspace{1cm}} + \underline{\hspace{1cm}}$$

۱۱- به سوال‌های زیر پاسخ بده.

۳۰ دقیقه بعد از ساعت ۱۲ چه ساعتی است؟



نوع آزمون:

آموزشگاه:

نام و نام خانوادگی:

زمان آزمون:

طراح سوال:

کلاس:


۱۰ دقیقه بعد از ساعت ۴:۲۰ چه ساعتی است؟

یک ربع بعد از ساعت ۵:۱۵ چه ساعتی است؟

۱۲- یک عدد دورقمی بنویس که رقم یکان آن کوچکترین عدد زوج یک رقمی و رقم دهگان آن بزرگترین عدد فرد یک رقمی می باشد؟ _____


۱۳- برای شکل های زیر جمع یا تفریق بنویس.
(الف)

$$\bigcirc =$$



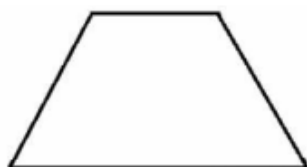
$$\bigcirc =$$

(ب)




$$+ =$$

۱۴- با توجه به کسرهای نوشته شده، هر شکل را به قسمت های مساوی تقسیم کن و رنگ بزن.



۲ قسمت از ۳ قسمت مساوی



۵ قسمت از ۸ قسمت مساوی



۴

نوع آزمون:

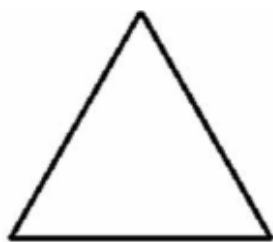
زمان آزمون:

آموزشگاه:

طراح سوال:

نام و نام خانوادگی:

کلاس:



۱ قسمت از ۴ قسمت مساوی



۱ قسمت از ۲ قسمت مساوی

۱۵- در هفته‌ی گذشته سارا ۳ صفحه از کتاب ریاضی، ۲ صفحه از کتاب علوم و ۴ صفحه از کتاب فارسی را مطالعه کرده است. نمودارهای مربوط به مطالعه‌ی سارا را در هفته‌ی گذشته با رنگ کردن بخش‌های مختلف کامل کن.

