


تاریخ :
دبستان حاج جعفر ابریشمی

به نام خالق زیبایی ها

نام و نام خانوادگی:
مبحث اندازه گیری

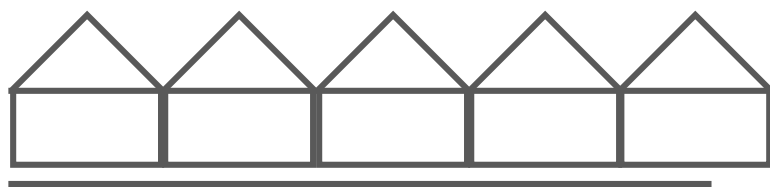
۱- اندازه ی خط ها را به گونه ای که خواسته شده است، پاسخ دهید.



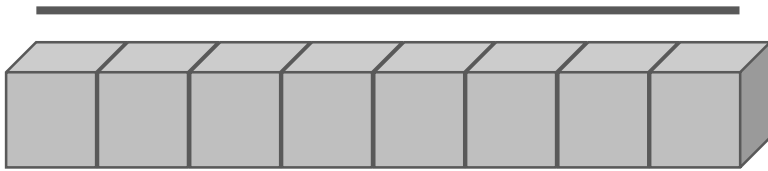
الف) اندازه ی خط بین و صورتک است؛ یعنی خط از صورتک بیشتر و از صورتک کمتر است.



ب) اندازه ی خط بین و مورچه است؛ یعنی خط از مورچه بیشتر و از مورچه کمتر است.



پ) اندازه ی خط بین و خانه است؛ یعنی خط از خانه بیشتر و از خانه کمتر است.



(ت) اندازه ی خط بین و چینه است؛ یعنی خط از چینه بیشتر و از چینه کمتر است.

(ث) حالا تمام خط های بالا را با خط کش اندازه بگیر.

اندازه ی تمام خط ها بین و سانتی متر است،

یعنی از سانتی متر بیشتر و از سانتی متر کمتر است.

بنابراین خط سانتی متر و میلی متر است یا میلی متر است.

(ج) حالا بگو در اندازه گیری خط ها کدام یک از اندازه گیری های بالا دقیق تر است؛ اندازه گیری با:

صورتک مورچه خانه چینه خط کش

چرا؟


۲- حالا خط های زیر را اندازه گیری کن و هم به سانتی متر و هم به میلی متر بنویس.

..... سانتی متر: _____ میلی متر:

..... سانتی متر: _____ میلی متر:

..... سانتی متر: _____ میلی متر:

۳- ضلع های مربع های زیر را اندازه گیری کن و به میلی متر بنویس.

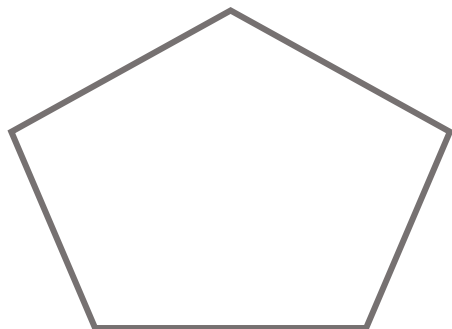


الف) حالا بگو چه با این اندازه هایی که برای هر مربع گرفتی به چه نتیجه ای در مورد مربع رسیدی؟

.....

ب) حالا مربعی با ضلعی به اندازه ی ۳ سانتی متر و ۷ میلی متر بکش.

۴- اندازه ی ضلع های شکل های زیر را به سانتی متر و میلی متر بنویس.



۵ - جاهای خالی را با عدد مناسب پر کن.

۱ سانتی متر = میلی متر

۲ سانتی متر = میلی متر

۸ سانتی متر = میلی متر

۱۰ سانتی متر = میلی متر

۲۰ سانتي متر = ميلي متر

۱۰ میلی متر = سانتی متر

۴۰ میلی متر = سانتی متر

۹۰ میلی متر = سانتی متر

۳۰۰ میلی متر = سانتی متر

۳۲۰ میلی متر = سانتی متر

می‌توانی از جدول ارزش مکانی برای پاسخ دادن

به جاهای خالی پایین، کمک بگیری.



ده تایی

یکی

۲۶ میلی متر یعنی سانتی متر و میلی متر

۵۷ میلی متر یعنی سانتی متر و میلی متر

۹۵ میلی متر یعنی سانتی متر و میلی تر

۱۰۵ میلی متر یعنی سانتی متر و میلی متر

۲۲۶ میلی متر یعنی سانتی متر و میلی متر

۳۴۲ میلی متر یعنی سانتی متر و میلی متر

۴۵۷ میلے، متر یعنی سانتے، متر و میلے، متر

۶ - حالا با مقوای رنگی زرد یک خط کش ۷ سانتی متری درست کن. واحدهای سانتی متر و میلی متر را با هر شکلی که می خواهی روی آن نشان بده و در پایین برگه بچسبان.

۷ - آیا ۵ سانتی متر با ۵۰ میلی متر یک اندازه است؟ چگونه متوجه می شوی؟

(از خط کشی که در بالا چسبانده ای می توانی کمک بگیری)

به نظر شما ۷ سانتی متر کوچکتر است یا ۵۳ میلی متر؟ چرا؟

دوست خوبم نظرت در مورد سوال ها چیه؟

حالا خودت با توجه به پاسخ هایی که به سوال ها داده ای جدول زیر را پر کن.

اهداف	خخ	خ	قق	نت
توانستم تمام قسمت های سوال یک را به تنهایی انجام دهم.				
واحدهای اندازه گیری خط کش را می شناسم.				
می توانم خط های سوال ۲ و شکل های سوال ۴ را با دقت اندازه گیری کنم.				
مربع ها را به درستی و بادقت اندازه گرفتم و به نتیجه ی درستی رسیدم.				
تبدیل واحد سانتی متر و میلی متر را به درستی آموخته ام.				
با دقت کامل می توانم کوچکتر یا بزرگتر بودن در سوال ۷ را بنویسم.				
بازفورد آموزگار:				
نظر والدین در مورد سوال های آزمون:				
بازفورد والدین از فرزند فود:				