


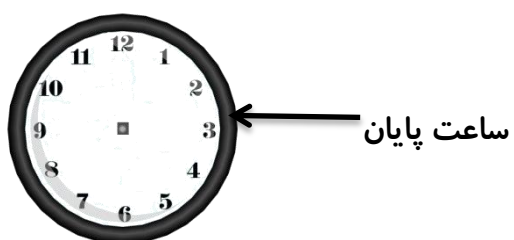
۱- قبل و بعد عدد ها را بنویس.

..... - دوست - .....  
..... - پانصد و نود و نه - .....  
..... - ۱۲۴ - .....

۲- در جای خالی عدد مناسب بنویس.

$$7+6 = 2+5 + ..... + ..... = ..... \quad 9+9 = ..... \quad 80+20 = ..... \\ 10+5+2+5+10+20 = ..... \quad 8+7 = 10 + ..... = ..... \\ 200+80+3 = ..... \quad 900-300 = ..... \quad 9+700 = .....$$

۳- وقتی حورا به ساعت نگاه کرد ، ۲۰ دقیقه مانده به ساعت ۲ بود. آن را روی ساعت نشان بده .  
اگر حورا ۲۰ دقیقه غذا بخورد. چه ساعتی غذای او تمام شده است؟.....



۴- ارزش سکه ها را بنویس.



۵- لیا یک سکه ی ۵۰۰ ریالی و دو سکه ی ۱۰ ریالی و سه سکه ی ۲ ریالی به فروشنده داد.  
او چه قدر به فروشنده داده ( با شکل )

۶- جشن کلاس دوم ساعت ۹ : ۴۰ شروع می شود. اگر دانش آموزان ساعت ۱۰ : ۹ برسند .  
چند دقیقه زودتر رسیدند؟

۶- با رقم و با حروف بنویس. سیصد و نود و دو ..... ۱۱۸ .....

۶۷۰ ..... پانصد ..... ۸۹۱ .....

۷- عدد ۳۵۶ چند رقم دارد؟ ..... نام رقم های آن را بنویس.....

ارزش رقم ..... از همه بیش تر است. بیش ترین رقم در مرتبه ی ..... است.

اگر به ده تایی آن ۲ واحد اضافه کنیم چند می شود ؟ .....

اگر از صد تایی آن ۱ واحد کم کنیم چند می شود ؟ .....



۸- تفاوت و شباهت شکل ها را بنویس.

تفاوت : .....

شباهت : .....

۹- آیتا ۷۰ سکه ی یک ریالی به پاریس داد و ..... سکه ی ده ریالی گرفت.

سکه ی ۲۵۰ ریالی برابر است با ..... سکه ی صد ریالی و ..... سکه ی ۱۰ ریالی


۴ سکه ی صد ریالی و ۸ سکه ی ده ریالی می شود.....ریال

۱۰- آنا هیتا ۱۳ سال و نرگس ۲۸ سال دارد. مجموع سن این دو نفر در سال آینده چه قدر می شود؟

۱۱- از عددی یک بار ۲۰ تا و بار دیگر ۳۰ تا کم کردیم و ۱۵ تا باقی مانده . خود عدد چند بوده ؟

۱۲- ملینا نیم ساعت علوم و یک ربع فارسی خواند. ملینا روی هم چند دقیقه درس خوانده؟

ملینا چند دقیقه بیش تر علوم خوانده؟



۱۳- از بین سکه های زیر ۲۶۲ ریال جدا کن.