

نام و نام خانوادگی: .....

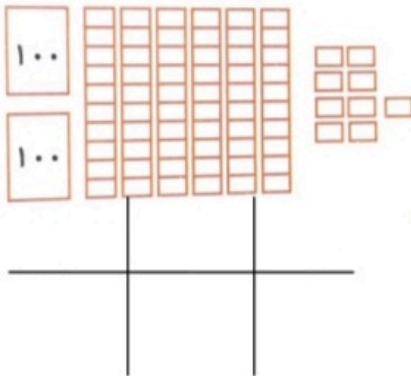
بنام خدا

تاریخ: / /

نمونه سوالات ریاضی فصل چهارم

آموزگار: .....

1- گلم شکل روبه رو چه عددی را نشان می دهد؟ آن را بنویس .



این عدد چند رقم دارد؟ .....

رقم های آن را در جدول ارزش مکانی قرار بدهید و به حروف بنویسید؟

به حروف: .....

گلم قبل و بعد عدد بالا را بنویسید؟

.....

2- گلم عددهای زیر را در جدول ارزش مکانی قرار بده و به رقم و حروف بنویس؟

4 دسته ی صدتایی ، 5 دسته ی ده تایی ، 7 تا یکی



به رقم: .....

به حروف: .....

9 دسته ی صدتایی ، 7 دسته ی ده تایی



به رقم: .....

به حروف: .....

8 دسته ی صدتایی ، 2 تا یکی



به رقم: .....

به حروف : .....

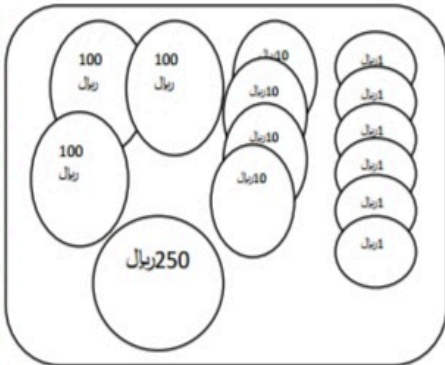
6 دسته ی صدتایی ، 3 دسته ی ده تایی ، 4 تا یکی

به رقم : .....

به حروف : .....



3- گلم ارزش سکه ی هر خانه را بنویس ؟



ریال .....

سکه ی 100 ریالی .....

سکه ی 10 ریالی .....

سکه ی 1 ریالی .....

گلم اگر سه سکه ی 100 ریالی به سکه هایت اضافه کنی چند ریال می شود ؟

ریال .....

به حروف : .....

ریال .....

سکه ی 100 ریالی .....

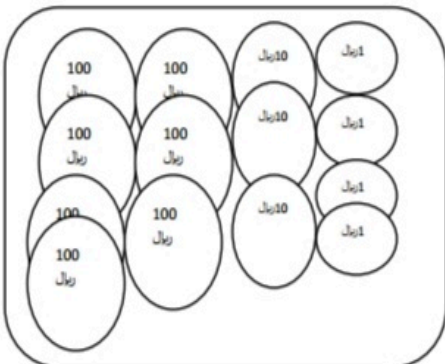
سکه ی 10 ریالی .....

سکه ی 1 ریالی .....

گلم اگر ده سکه ی 10 ریالی به سکه هایت اضافه کنی چند ریال می شود ؟

ریال .....

به حروف : .....



4- گلم با کارت های زیر ، تمام عددهای سه رقمی که می توانیدرا بسازید بنویسید ؟

9 7 2

.....

با توجه به عدد هایی که نوشته اید به سوالات پاسخ دهید ؟

الف ) بزرگترین و کوچکترین عدد کدام است؟ به رقم و حروف بنویسید ؟

ب ) اعداد سه رقمی که مجموع یکان و دهگان آن برابر با صدگان باشد ، بنویسید .

پ ) اعداد سه رقمی بنویسید که رقم صدگان کمتر از یکان آن باشد .

ث ) عدد سه رقمی بنویسید که رقم دهگان کمتر از رقم یکان آن و رقم صدگان

بیشتر از یکان آن باشد ؟

5- گلم مجموع 3 عدد 800 است . اگر دو عدد آن ها 200 و 300 باشند ، عدد سوم چند است ؟

6- گلم جمله ها را با اعداد یا کلمات مناسب کامل کنید .

الف ) 350 ریال برابر است با ..... سکه ی صد ریالی و ..... سکه ی ده ریالی .

ب ) 823 برابر است با 3 ..... و 2 ده تایی و 8 .....

پ ) 470 ریال برابر است با 47 سکه ی ..... ریالی .

ت) ..... برابر است با 6 صدتایی و 2 ده تایی .

ث ) چهارصد و هفتاد و سه برابر است با ..... ده تایی و ..... یکی و ..... صدتایی .

ج) یک ساعت ..... دقیقه است .

چ) یک ساعت ..... ده دقیقه است .

---

7- علی 45 سکه ی ده ریالی دارد . او چند ریال دارد ؟

---

8- گلم گسترده یا باز شده ی اعداد زیر را بنویسید؟ ( اعداد را به حروف بنویسید )

به حروف

856=.....

963=.....

107=.....

249=.....

321=.....

760=.....

417=.....

538=.....

699=.....

---

9- علی 4 سکه ی 100 ریالی و 5 سکه ی 10 ریالی و 8 سکه ی 1 ریالی دارد . علی چند ریال پول دارد؟ ( رسم شکل )