

آموزگار: فاطمه (غزاله) قشقایی

۱- تعداد گل های زیر را با کشیدن چوب خط شمارش کن و در جدول بنویس سپس به سوالات پاسخ مناسب بده.



گل	چوب خط	تعداد
		
		
		
		

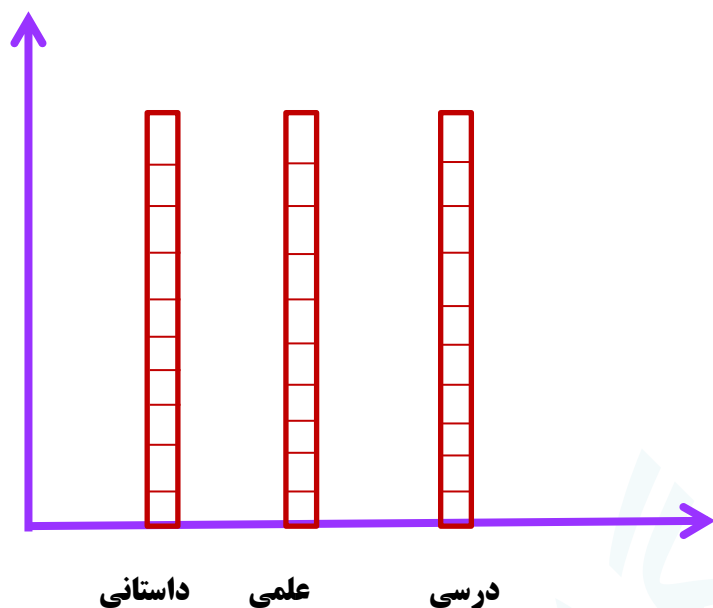
تعداد کدام گل از بقیه بیشتر است؟ شکل آن را بکش..... 😊

تعداد کدام گل از بقیه کمتر است؟ شکل آن را بکش..... 😊

تعداد کل گلها روی هم چندتا است؟..... 😊

به گل  چندتا اضافه کنیم تا با گل  هم اندازه شود؟..... 😊

۲- با توجه به کتاب های کتابخانه ات نمودار ستونی زیر را کامل کن.



۳- تعدادی لوبیا، عدس، نخود و لپه را در ظرف بریز و بعد آن ها را با توجه به جدول سرشماری کن و سپس به سوالات پاسخ بده.

نام	چوب خط	تعداد
لوبیا		
عدس		
لپه		
نخود		

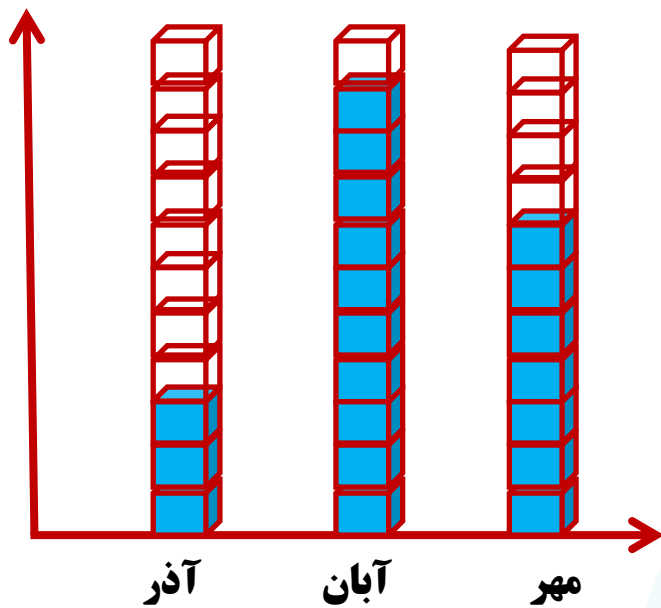
😊 تعداد کدامیک بیشتر است؟.....

😊 تعداد کدامیک کمتر است؟.....

😊 تعداد کل حبوبات داخل ظرف چندتا است؟.....

۴- نمودار زیر مربوط به بارش باران در فصل پاییز است. با توجه به نمودار به سوالات پاسخ

بده.




😊 بیشترین بارش باران مربوط به کدام ماه است؟.....

😊 در این فصل روی هم چندبار باران باریده است؟.....

😊 اختلاف بارش باران در ماه های آبان و آذر چندبار بوده است؟.....

۶ نمودار تصویری زیر تعداد تقریبی میوه های یک میوه فروشی را نشان می دهد. با توجه به این

نمودار به سوالات پاسخ بده. (هر ۱۰ میوه با  نشان داده شده است.)



تعداد کدام میوه از همه بیشتر است و چندتا است؟.....



تعداد کدام میوه از همه کمتر است و چندتا است؟.....

تعداد کل میوه ها چند تا است؟.....

به غیر از میوه ی انار و سیب چند میوه ی دیگر در این میوه فروشی است؟.....

اختلاف بیشترین میوه و کمترین میوه چقدر است؟.....

۵- برای هر شکل دو جمله بنویس.



تا.... تا.... تایی می شود.... تا

تا.... تا.... تایی می شود.... تا

تا.... تا.... تایی می شود.... تا

تا.... تا.... تایی می شود.... تا

۶- عددی را پیدا کن که اگر از ۴۷ کم کنیم پاسخ ۱۶ می شود. (راهبرد نمادین)

۷- قیمت یک مداد و خط کش روی هم ۹۳ تومان می شود. اگر قیمت خط کش ۲۶ تومان باشد قیمت مداد چند تومان است؟ (راهبرد نمادین)

۸- در جاهای خالی عدد مناسب بگذار.

$\begin{matrix} \textcircled{5} \\ \textcircled{12} \\ \textcircled{} \\ \textcircled{} \end{matrix}$	$\begin{matrix} \boxed{+8} \\ \rightarrow \end{matrix}$	$\begin{matrix} \textcircled{} \\ \textcircled{} \\ \textcircled{} \\ \textcircled{} \end{matrix}$	$\begin{matrix} \boxed{-4} \\ \rightarrow \end{matrix}$	$\begin{matrix} \textcircled{} \\ \textcircled{} \\ \textcircled{15} \\ \textcircled{23} \end{matrix}$
---	---	--	---	--

۹- قیمت یک پیراهن و کفش روی هم ۹۸۰ تومان می باشد اگر قیمت پیراهن ۵۳۰ تومان باشد قیمت کفش چند تومان است؟

۱۰- در جاهای خالی عدد مناسب بگذار. (حدس و آزمایش)

$$\boxed{} + 43 = 69$$



$$73 - \boxed{} = 29$$

$$\boxed{} + 38 = 84$$

$$61 - \boxed{} = 36$$

۱۱- شکل های زیر را دسته بندی کن و عدد مربوط به هر شکل را بنویس . کدام شکل ها عدد

زوج را نشان می دهند؟ چرا؟



.....

.....

.....

.....

گل های قشنگم

موفق باشید

آموزگار: قشقای

 @TEACHER_QASHQAEI

آموزش زبان فارسی
فصل پنجم