

۱- عزیزم طول و عرض دو تا از کتابهای داستان خود را اندازه بگیر و در جای خالی عدد مناسب را بنویس.

دراز یا طول کتاب داستان اول.....

پهنای عرض کتاب داستان اول.....

دراز یا طول کتاب داستان دوم.....

پهنای عرض کتاب داستان دوم.....

۲- جمع های زیر را از راه حدس و آزمایش به دست بیاور.

$$۲۴ + \square = ۸۴$$

$$۳۷ + ۴۱ = \square$$

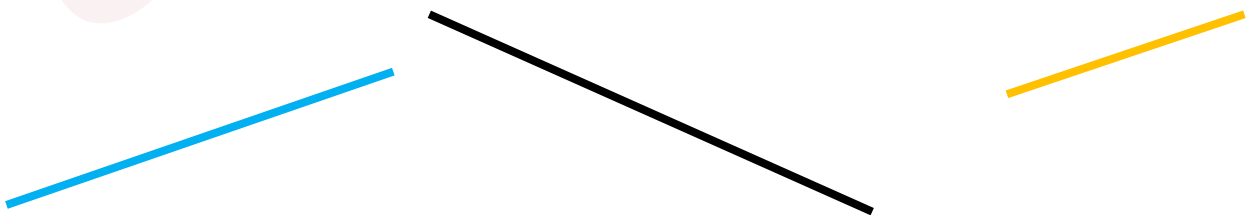
حدس اول:

حدس اول:

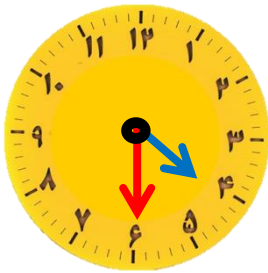
حدس دوم:

حدس دوم:

۳- اندازه ی خط های زیر را بگیر و نقطه ی وسط هر خط را پیدا کن.

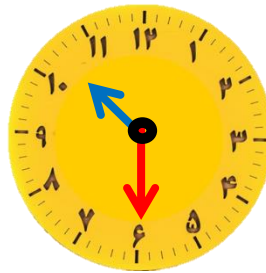


۴- زمانی را که هر ساعت نشان می دهد را بنویس. (به دو صورت)



\_\_\_\_\_

\_\_\_\_\_



\_\_\_\_\_

\_\_\_\_\_

۵- با یک متر خیاطی یا خط کش وسایل مختلف را اندازه بگیر و در جدول زیر بنویس.

نام وسیله ای که اندازه گرفته اید	اندازه

۶- اگر الان ساعت ۵:۵۳ دقیقه باشد ۳ ساعت قبل ساعت چند بوده است؟

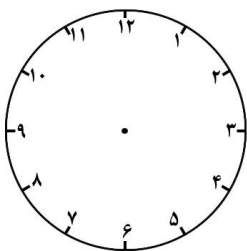
۷- اگر چهار ساعت دیگر ساعت ۸:۱۷ دقیقه باشد الان ساعت چند است؟

۸- یک مسابقه ی ۳۰ دقیقه ای در ساعت ۴:۵۰ تمام شد. این مسابقه در چه ساعتی شروع شده بود.

۹- عرفان نیم ساعت قبل از ساعت ۷:۲۰ از خانه بیرون آمده است. عرفان چه ساعتی از خانه بیرون آمده؟

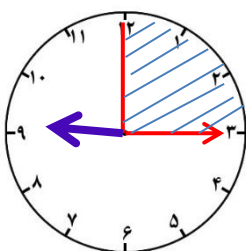
۱۰- اگر ساعت یک ربع به ۹ باشد نیم ساعت قبل ساعت چند بوده است؟

۱۱- روی صفحه ی ساعت روبروی یک ربع بعد از ساعت ۲:۳۵ را نشان بده و رنگ بزن. حالا حالا ساعت چند است؟.....



۱۲- با توجه به قسمت رنگ شده ساعت چه زمانی را نشان می دهد؟

اگر عقربه ی بزرگ ۱۵ دقیقه به جلو حرکت کند روی چه ساعتی می ایستد؟.....



حالا ساعت را بخوان.....

۱۳- در یک باغ وحش روی هم ۵ فیل و پنگوئن وجود دارد. پاهای آنها روی هم ۱۴ ناست. تعداد فیل ها و پنگوئن ها را حدس بزن..

۱۴- در یک مزرعه روی هم ۹ جوجه و سگ وجود دارد. آن ها روی هم ۲۰ پا دارند. در این مزرعه چندتا جوجه و سگ وجود دارد؟

۱۵- جای خالی را کامل کن.

۴۸ میلیمتر یعنی ..... سانتی متر و ..... میلیمتر

۷ سانتی متر و ۲ میلی متر یعنی ..... میلی متر

۵۶۱ میلیمتر یعنی ..... سانتی متر و ..... میلی متر

۱۲ سانتی متر و ۶ میلی متر یعنی ..... میلی متر

۱۶- خطی به طول ۲ سانتی متر و ۹ میلی متر رسم کن. این خط چند میلی متر است؟

۱۷- اگر به قد مریم ۲۰ سانتی متر اضافه کنیم اندازه ی قد سبا به دست می آید. قد سبا چند سانتی متر است در صورتیکه قد مریم ۱۵۰ سانتی متر است.

۱۸- رضا یک طناب ۶۰ سانتی متری دارد اگر ۲۵ سانتی متر به طناب خود اضافه کند، طول طنابش چند سانتی متر و چند میلی متر می شود؟

۱۹- مداد تراش زهرا ۴ سانتی متر و ۵ میلی متر است مداد تراش زهرا چند میلی متر است؟

۲۰- در جای خالی عدد مناسب بگذار.

..... سانتی متر ۱۰ میلی متر است. ۲ سانتی متر ..... میلی متر است

۹ سانتی متر ..... میلی متر است. .... سانتی متر ۶۰ میلی متر است

۳۵ میلی متر ..... سانتی متر و ..... میلی متر است

۱۷۹ میلی متر ..... سانتی متر و ..... میلی متر است

۵۶ میلی متر ..... سانتی متر و ..... میلی متر است

موفق باشید

آموزگار قشقای