



۱. دخترم، هر شکل را به نام خودش با خط کش وصل کن.



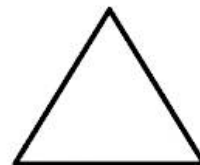
مربع



مستطیل

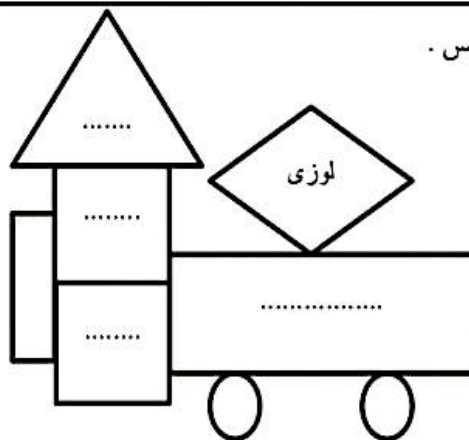


مثلث


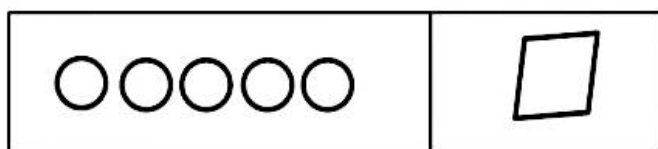
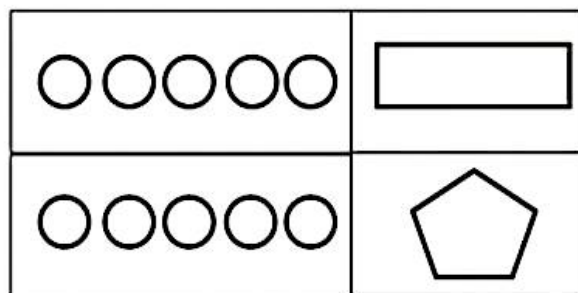


دایره


۲. داخل هر شکل نام آن را بنویس.



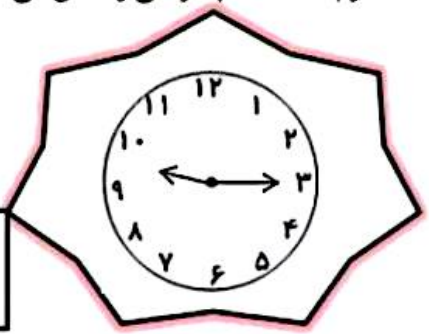
۳. در هر قسمت به تعداد گوشه ها و ضلع ها از گردی ها رنگ کن.



۴. دخترم ساعت ها چه زمانی را نشان می دهد؟




ساعت ..... و ..... دقیقه  
..... : .....



ساعت ..... و ..... دقیقه  
..... : .....

۵. الگوی عددی زیر را ادامه بده.


۱-۳-۵-۷- ..... و ..... و .....



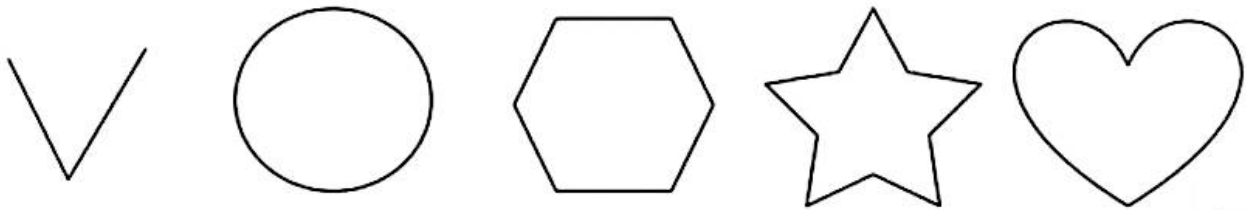
۲-۵-۹- ..... و ..... و .....



۶. در شمارش ۶ تا ۶ تا ۶ تا، چه عددی بعد از ۳۶ قرار می گیرید؟



۷. شکل های زیر را با کشیدن یک خط به دو قسمت مساوی تقسیم کن.



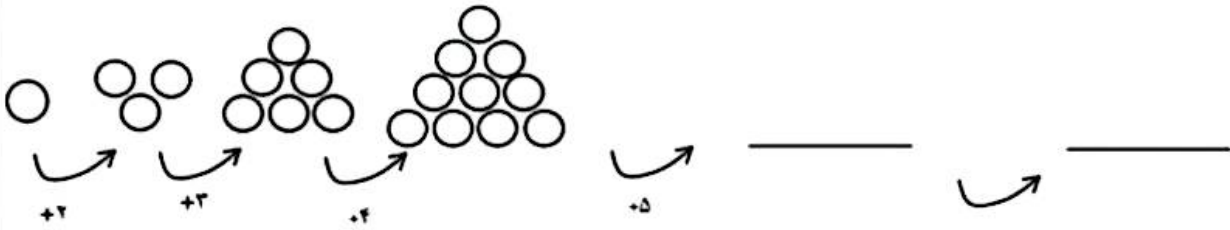
هت و تفاوت شکل های زیر را بنویس.




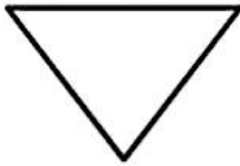
شبهات:

تفاوت:

۹. با رسم شکل الگوی زیر را ادامه بده و بنویس شکل ششم چند تا دایره خواهد داشت ؟




۱۰. وسط ضلع ها را پیدا کن و با خط کش به هم وصل کن.



۱۱. در مدرسه ی الغدير روز شنبه ۲۷ نفر و روز يكشنبه ۴۹ نفر در مسابقه ی شنا شرکت کردند . در این دو روز روی هم چند نفر در مسابقات شرکت کردند ؟ ( فرآیندی )

۱۲. تقریب عددهای زیر را به هم وصل کن .



۱۳. به جای علامت سوال چه عددی باید قرار بگیرد ؟

**سوال ستاره دار**

$$\boxed{1} \xrightarrow{+1} \boxed{\phantom{00}} \xrightarrow{+2} \boxed{\phantom{00}} \xrightarrow{-3} \boxed{\phantom{00}} \xrightarrow{+4} \boxed{\phantom{00}} \xrightarrow{-1} \boxed{?}$$

۵ (هـ)

۴ (د)

۳ (ج)

۲ (ب)

۱ (الف)

