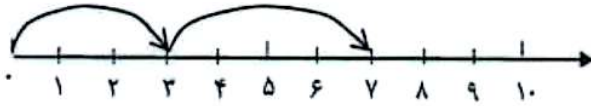


۱- برای محور زیر یک مسئله بنویس.



۲- عزیزم از علامت مناسب استفاده کن. ($<$ $=$ $>$)

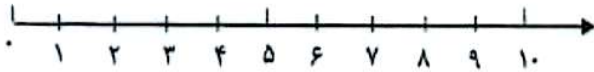
$30 + 20$ ○ $40 + 10$

$60 - 20$ ○ $50 - 30$

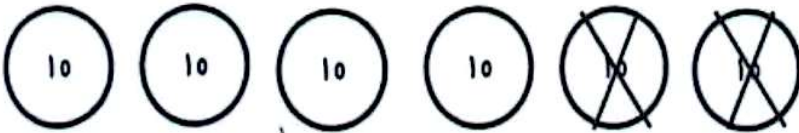
$50 - 40$ ○ $40 + 20$

۳- عزیزم مسئله زیر را به وسیله ی شکل و محور نشان بده.

۷ تا جوجه داریم، ۴ تا از جوجه ها سیاه هستند. چند تا جوجه سیاه نیستند؟




۴- تفریق زیر را انجام بده.



..... - =

۵- جای خالی را کامل کن.



.....

.....

.....

.....

