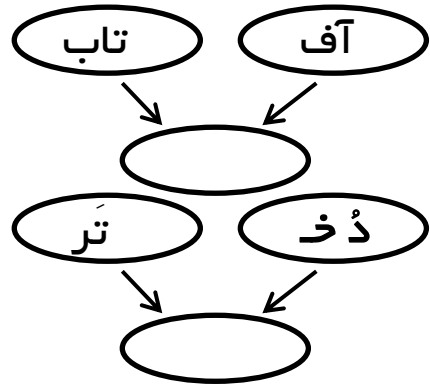
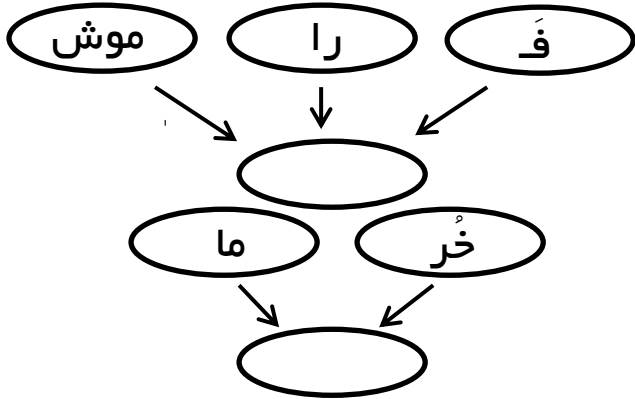


نام و نام خانوادگی :

بسمه تعالی

پایه اول

۱) فرزندم ترکیب کن و کلمه بساز .



۲) عزیزم جملات زیر را مرتب کن و یکبار بخوان و بنویس.

بخشنده - آفریده - را - خداوند - ما - است

فرشاد - پوشیده اند - کفش - و - فرزاد - زمستانی

۳) پسر مخالف کلمه داده شده را بنویس.

خُرس ≠

خُشک ≠

خوب ≠

گُفتم ≠

دُختر ≠

فَردا ≠

۴) جدول را کامل کن .

در اول کلمه	در وسط کلمه	در آخر کلمه
خ		
ف		

۵) ترکیب کن و کلمه ی جدید بنویس سپس جمله بنویس.

= ستاره + گان

= گوینده + گان

= پرنده + گان

نام و نام خانوادگی :

بسمه تعالی


پایه اول

۶) متن زیر را بخوان و تکرار کن و به خاطر بسپار .
آیا می دانید که :
با تمام شدن اسفند ، فروردین می رسد .
ایران نفت فراوانی دارد .
آموزگار دانش آموزان را بسیار دوست دارد .
با گرم شدن زمین شکوفه ها کم کم باز می شوند .

۷) پسرم با دو جمله نامه ای زیبا به خدا بنویس.

.....
.....


۵



۱) با توجه به عدد داده شده دسته بندی کن و در جاهای خالی عدد مناسب بنویس.

دسته ۵ تایی و یکی

۲) با توجه به شکل های داده شده جدول و جاهای خالی را کامل کن .



ده تایی	یکی
---------	-----

ده تایی و یکی

۳) برای جمع و تفریق داده شده شکل بکش و سپس جواب آن را بنویس.

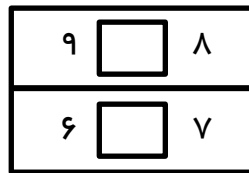
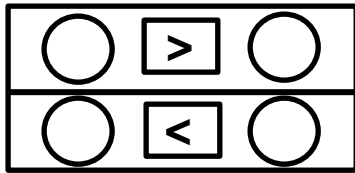
$4 + 5 =$	$8 - 5 =$

نام و نام خانوادگی :




بسمه تعالی

پایه اول

۴) در جاهای خالی عدد و علامت مناسب بنویس.



۱) کدام یک برای رشد کردن به خاک نیاز دارند؟ علامت (x) بزن.



۲) گیاهان در چه جاهایی می توانند بهتر رشد کنند؟




.....

۳) چرا کشاورزان برای کشت گیاهان زمین را شخم می زنند؟



.....

۴) برای انجام کدام ورزش به آب نیاز داریم؟



۵) کدام آب برای آشامیدن مناسب است؟

(ج) آب دریا

(ب) آب لوله کشی

(الف) آب رودخانه