



# بهار نامه



کلاس اول دبستان

۱۳۹۵



نام و نام خانوادگی:

تهیه کننده: کانال آموزشی تربیتی اول دبستان

[Telegram.me/hafezschoool](https://t.me/hafezschoool)



الله أكبر



## پیام تبریک

دستان پرنوازش بهار ، طبیعت خفته را از خواب بیدار می سازد  
و زمین و درخت رازهای رنگارنگ و عطراگین خویش را نثار نگاه ما می کنند .

در سال جدید خورشیدی  
سبزی ، شادی ، کامیابی ، بهره وری ، اثربخشی فعالیتها و بهروزیتان را از درگاه ایزد  
منان آرزومندم ...

## سخن با اولیای گرامی

اولیای محترم فرارسیدن سال نو را به شما عزیزان تبریک میگوییم  
تمرین در تعطیلات عید آن هم در مهم ترین پایه ابتدایی بسیار مهم است  
تمرین های این پیک به طوری طراحی شده که با اختصاص اندکی وقت در روز  
تمامی مطالب از مهر تا اسفند به طور خلاصه یاد آوری شده و مانع فراموشی آنها  
میشود

امیدواریم با همکاری شما اولیای محترم بتوانیم گامی صحیح و درست در راستای  
تربیت صحیح و کارآمدی نسل آینده کشور عزیزمان ایران برداریم



## بنویسیم

عزیزم نام شغل ها را بنویس



.....

.....

.....

حالا از بزرگترها بخواه که از درس ۱۰ تا ۱۵ به شما املا بگویند

.....

.....

.....

.....

.....

.....

.....

.....

.....

.....



نیاز به تلاش



قابل قبول



خوب



خیلی خوب






بچه های عزیز جملات درهم ریخته ی زیر را مرتب کنید.

بود-دوستم-تَرسیده-آشپانه ی-آز-مار

مازندران-یاسمن-ندیده-دریای-بود-را

آمین-دَوَنده-است

نام تصویرهای زیر را بنویس.




.....



.....



.....



.....



.....



.....



آفرین

همیشه موفق باشی نازنینم

آهای عزیزم به بازی قشنگ می‌خواهیم انجام بدیم (بازی بازی کلمه بازی)

سه کلمه بنویس که حرف اول و آخر آنها مثل هم باشد

سه کلمه بنویس که نقطه نداشته باشند

.....

شغل این آقا چیه و با شغلش یک جمله بساز

.....  
.....  
.....



جواب درست را علامت بزن.

## علوم



کدام یک در بیابان به خوبی زندگی میکند؟



برگ

ساقه

ریشه

آب از کدام قسمت وارد گیاه میشود؟





هر حیوان را به فایده ای که برای ما انسان ها دارد وصل کن.



ما انسان ها ۵ تا حس داریم میتونی بگی که آنها چه کمکی به ما می کنند پایین بنویس.



گوش ←


بینی ←

زبان ←

## ریاضی

هر جمع یا تفریق را روی محور نشان بده

$$۵+۵=$$



$$۸-۳=$$



## جمع و تفريق ها را انجام بده.

$$7 + 3 =$$

$$\mathfrak{F} + \mathfrak{F} =$$

$$12 - 7 =$$

$$\gamma - \gamma =$$

**9+7=**

14-5=



پاسخ مسئلہ ہا را بنویس۔


امین سه سیب و شش پرتغال دارد.

او روی هم چند میوه دارد؟



هشت گنجشک روی شاخه ی درخت بودند سه تا از آن ها پرواز کردند و رفتند حالا چند پرنده روی شاخه هنوز هستند؟

الگوها را ادامه بده



# قرآن

با کمک پدر و مادر و پیام های قرآنی زیر را بخوان.

وَأَشْكُرُوا نِعْمَةَ اللَّهِ

وَبِالْوَالِدَيْنِ إِحْسَانًا

از خدا که به شما نعمت های زیادی داده است تشکر کنید

به پدر و مادر خود نیکی کنید

يَا بُنَيَّ أَقِمِ الصَّلَاةَ

فرزندم! نماز بخوان

دلبندم یک پیام قرآنی زیبا در مورد پاکیزگی را برای بزرگتر هایت بگو و معنی آن را بنویس

	.....	
--	-------	--

ما مسلمانان هنگام سال تحویل قرآن میخوانیم میدانی چرا؟

از بزرگتر هایت بپرس و اینجا بنویس

.....

.....

.....

.....

.....







مهربانم در روز طبیعت امیدوارم بهت خوش گذشته باشد  
با خانواده و دوستانت چه بازی هایی انجام داده ای؟ درباره آن یک نقاشی زیبا بکش.

۵۰ سال نو مبارک



درباره من

نام من.....است.

من دانش آموز کلاس.....هستم.

من در شهر.....زندگی می کنم.

در مدرسه.....درس می خوانم.

نام آموزگار من.....است.

