

توجه: سایت سخت کوشان فقط منبع دانلود این فایل است.

باتشکر از خانم زهرا صادقی مدیر دبستان دخترانه صالحین و طراح این پیک

sakhtkoshan.com sakhtkoshan.com

2017



Happy New Year!

۱۳۹۶

سخت کوشان ارائه دهند می جدیدترین و به روزترین فایل های آموزشی پایه های اول تا ششم دبستان  
sakhtkoshan.com sakhtkoshan.ir sakhtkoshan-sjt.blogfa.com

روز مبارک

دېستان دخترانه نوید صالحین

پاپه اول

عیدانه







به نام خدا

مژده ای دل که دگر باد صبا باز آمد  
 هدهد خوش خبر از طرف صبا باز آمد  
 برکش ای مرغ سحر نغمه ی داوودی باز  
 که سلیمان گل از باد هوا باز آمد

برای موفقیت فقط خواندن شرط نیست بلکه یادگیری و تثبیت آموزه های علمی هم مهم ترمی نماید.  
 مدت زمان مهر تا اسفند زمانی بود که با زحمت معلمان و خانواده ها و دانش آموزان مطالبی خوانده و یاد گرفته شد و اکنون زمانی است که تلاشی برای تثبیت آن ها داشته باشیم. در همین راستا با همکاری آموزگاران دلسوز برای تمرین و تکرار مطالب سؤالاتی تنظیم گشته که در ایام تعطیلات نوروزی در کنار تمامی خوشی ها از یادگیری بچه ها غافل نباشیم و قدمی هر چند کوچک برداشته باشیم.  
 امید که در هر لحظه ی زندگی بیاموزیم...



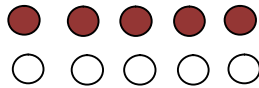
مدیر دبستان دخترانه صالحین  
 زهرا صادقی



خانه های خالی را با عدد مناسب کامل کن .

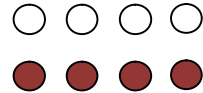
۱۰			۱۳		۱۵			۱۸		۲۰
----	--	--	----	--	----	--	--	----	--	----

برای هر شکل جمع بنویس و دور علامت مناسب خط بکش .



>
=
<
<

..... = .....




..... + ..... = .....

جمع و تفریق های زیر را انجام بده .

$5 + \square = 10$	$6 + \square = 9$	$10 + \square = 15$
$6 + \square = 8$	$\square - 3 = 7$	$10 + \square = 16$
	$\square - 2 = 7$	$10 + \square = 18$
	$9 - \square = 0$	$10 + \square = 19$
$\square + 3 = 5$	$\square + \square = 10$	

تا می توانی دسته ی ده تایی جدا کن و در جای خالی عدد مناسب بنویس .

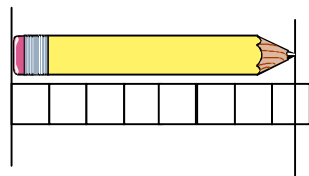


د	ی

..... دسته ی ده تایی و ..... یکی

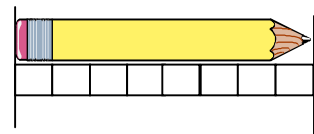
به عدد .....

به حروف .....



بلندی مداد بین ..... تا ..... چینه است

در جای خالی عدد مناسب بنویس .



بلندی مداد ..... چینه است .



- \*در جای خالی کلمه ی مناسب بنویس .
- به برادر پدر ..... می گویند .
- هرکس باید حوله و مسواک ..... به خود داشته باشد .
- آن جا هوای ..... و ..... داشت .
- مادر بزرگ ..... به چشم می زند و قرآن ..... .
- روز ..... تعطیل است .
- من دست های ..... خود را با آب و ..... می شویم .
- ..... اذان را از مسجد شنیدم .
- عمو علی در ..... برنج می کارد .


\*( ی ) میان کدام کلمه ها می آید ؟ آن را بنویس .

کلاس ☐ صفا      خانه ☐ رضا  
صدام ☐      مو صاف ☐

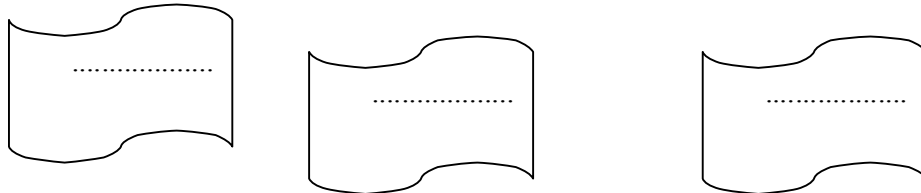
\*در کدام گزینه صدای واو شنیده می شود ؟

☐ شروع      ☐ ورزش      ☐ خوردن      ☐ خروس

\*پنج کلمه بنویس که تشدید دارد.



\*کدام نشانه ها چهار شکل دارند ؟ آن ها را بنویس



\*باد و کلمه ی ( چراگاه ) و ( گوسفندان ) یکجمله بنویس .


.....




\*محل زندگی کدام جانور با بقیه فرق می کند ؟


\*کدام جانور مانند قورباغه حرکت می کند ؟



\* لانه ی کدام جانور زیر خاک است ؟



\*کدام سایه ی اسب است ؟


\*کدام جانور برای ما خوراکی مفید نمی سازد ؟

\*کدام جانور مارا بیمار می کند ؟


\*کدام جانور گیاه خوار است؟ (x) بزن .


\*کدام جانور برای خود لانه می سازد ؟




\*در جای خالی عدد مناسب بنویس .

۹۳ می شود ..... یکی و ..... ده تایی

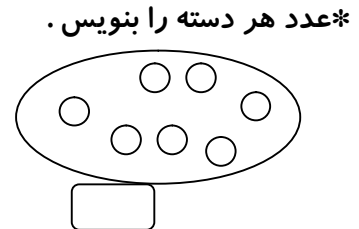
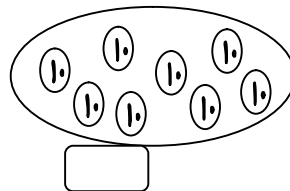
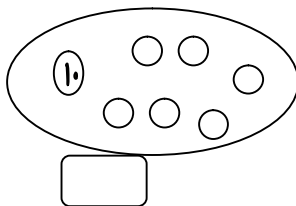
۶ ده تایی ۵ یکی می شود .....

۸ ده تایی می شود .....

۷ یکی و ۲ ده تایی می شود .....

۵ یکی و ۸ ده تایی می شود .....

\* برای  $9+3$  یک مسأله بنویس .



\*عدد هر دسته را بنویس .

\*برای شکل های زیر یک جمع و دو تفریق بنویس .



..... + ..... = .....

..... + ..... = .....

..... - ..... = .....

..... - ..... = .....



..... + ..... = .....

..... + ..... = .....

..... - ..... = .....

..... - ..... = .....

\*جمع های زیر را انجام بده

$$20 + 30 + 20 = \square$$

$$10 + 10 + 10 + 10 + 5 = \square$$

$$5 + 5 + 10 + 5 + 5 + 10 = \square$$

$$5 + 10 + 20 + 5 - 5 = \square$$



\*برای جمع و تفریق زیر محور بکش .



$$8 + 4 + 2 = \square$$



$$10 - 3 + 4 = \square$$

درس: فارسی

\*برای تصویرهای زیر جمله بنویس



.....



.....

\*کدام دسته بندی درست است ؟

۱) خورشید - خروس - نور ☐

۲) ورزش - داور - وارد ☐

\*آخر کدام کلمه ( ای ) می آید ؟

پرستو ☐ دبستان ☐ مزرعه ☐

\*در کدام یک از کلمات زیر صدای (ه) شنیده نمی شود؟

☐

۱) خنده ☐

۲) شاه ☐

\*در جای خالی کلمه مناسب بنویس .

کدام وسیله چیزهای ریز را درشت نشان میدهد؟ .....

کلمه این نویسه که صدای اولش (ح) باشد؟ .....

کلمه این نویسه که صدای آخرش (ع) داشته باشد .....

چهار کلمه را از قبل از خوابید نباید فراموش کنی ؟ .....

یک کلمه این نویسه که تشدید داشته باشد؟ .....





\* کدام دسته بندی درست است .

۱) مریض - رضا - زهرا ☐ ۲) حلزون - احساس - حوله ☐

\* کلمه ی ( دانش آموز ) چند صدا دارد

۳ صدا ☐ ۹ صدا ☐ ۶ صدا ☐ ۴ صدا ☐

\* پنج کلمه بنویس که صدای اول آن ها ( ا ) باشد .

.....

.....


.....

.....

.....

درس: علوم

\* کدام یک به خاک نیاز دارد .




\* کدام جانوران در خاک زندگی می کنند

\* مهمترین استفاده از خاک کدام است

☐ کشاورزی ☐ مجسمه سازی

\* کدام وسیله در هوا حرکت می کند .



\* کدام یک برای زنده ماندن به هوا احتیاج دارد

