

پیک

نوروزی

۱۳۹۵

بهار

مدرسہ



پایہ اول دبستان

## دانش آموز عزیزم:

درود بر شما و خانواده‌ی بزرگوارتان!

دختر نازنینم! پسر عزیزم! عید نوروز سال ۱۳۹۵ از راه می‌رسد. خداوند در نوروز، سرسبزی را به جنگل، شکوفه‌ها را به درختان، شادابی را به گل‌ها و مهر و دوستی را به انسان‌ها هدیه می‌کند.

اگر کمی دقت کنید، می‌بینید که این روزها، همه جهان هستی، لبخند بر لب دارند. شکوفه‌ی گل‌ها می‌خندند، پرنده‌ها شاداب شده‌اند. سبزی کوه‌ها و جنگل‌ها همه‌ی ناراحتی‌ها را از بین برده است.

پس بیایید در این بهار، ما هم با دوستان‌مان با مهر و محبت سخن بگوییم. با پدر و مادر خود به نیکی سخن بگوییم. دوستان‌مان را با نام‌های زیبا صدا بزنیم. رفتارهای زشت مانند دروغ و تهمت و مسخره کردن را دور بریزیم تا بتوانیم لبخند را در لب‌های همه ببینیم.

## اطلاعات خودت را کامل کن:

نام و نام خانوادگی:

نام مدرسه:

نام معلم:

کلاس:

## ساعت تحویل سال ۱۳۹۵

تحویل سال ۱۳۹۵ کی بعد از ساعت ..... است.

در این زمان ما حدود ..... ساعت است که از خواب بیدار شده‌ایم.

..... روز دیگر ما به مدرسه خواهیم رفت.

امروز اولین روز فصل ..... است.





شعر زیر را بخوان و کلمه های ی که داخل گلدسته ها هستند را در جای مناسب بنویس.



### بهار میاد با گل‌های رنگارنگ

بازم بهار می خواد بیاد

مهمون خونه ها بشه

می خواد یه کاری بکنه

لبها به خنده وا بشه

..... رو میاره

پر بزنن تو باغچه ها

صورت گل را بیوسن

..... بزنن با باغچه ها

آدمها رو وا می داره

خونه تگونی بکنن

بلبلا را وا می داره

تا نغمه خونی بکنن

به ابر می گه بازم بیار

به روی هر ..... و دیار

بازم ..... می کنه

گلها رو توی سبزه زار

بهار میاد با یک سبد

پر از گلای .....

روی لبات جا می داره

یه خنده ی ناز و قشنگ

کلمه های ستون اول را به ستون دوم وصل کنید.

ابر	★	★	آواز
گل	★	★	باران
بلبل	★	★	پرواز
پروانه	★	★	شکوفه

جمله را مرتب کن.

با - سبد - از - بهار - گل‌های - می آید - رنگارنگ - یک - پُر

.....

کلمه های دو بخشی را در شعر پیدا کن و بنویس.

.....

بهار با خودش چه چیزهایی می آورد؟ سه مورد بنویس.

.....

## دسته گل



روز عید نوروز، ارژنگ به باغچه‌ی پدر خود رفت و دو شاخه گل بنفش، سه شاخه گل قرمز و چهار شاخه گل نارنجی چید. او دسته گل کوچکی درست کرد و به دیدن دایی نادر رفت. ارژنگ به دایی اش گفت: «چون امروز روز عید است، این دسته گل را خودم برای شما درست کردم و آوردم.» دایی از مهربانی ارژنگ خوشحال شد. او را در آغوش گرفت و چشم و روی او را بوسید. دایی نادر، هم به او یک شال بافتنی، عیدی داد.

🐟 دسته گل ارژنگ دارای چند رنگ بود؟

🐟 دسته گل ارژنگ دارای چند شاخه گل بود؟

🐟 عیدی دایی بهرام برای ارژنگ چه بود؟

🐟 معنی هر کدام از کلمات زیر را در داستان پیدا کن و بنویس.

شادمان

صورت

بغل

🐟 در داستان کلماتی را پیدا کن که با نشانه های زیر شروع شده باشند.

با

نا




# مسابقه ریاضی کانگورو

این کفشدوزک می خواهد روی گلی بنشیند که پنج گلبرگ و سه گل دارد. روی

کدام گل می نشیند؟



(۱)



(۲)



(۳)



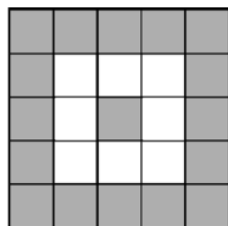
(۴)



(۵)



تعداد مربع های خاکستری چند تا بیش تر از مربع های سفید است؟



(۱) ۶

(۲) ۷

(۳) ۸

(۴) ۹

(۵) ۱۰

سایه ی سارا کدام است؟



(۱)



(۲)



(۳)



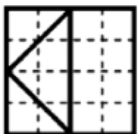
(۴)



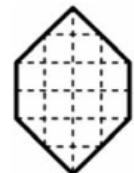
(۵)



در شکل زیر، مربعی را به چهار تکه تقسیم کرده ایم. کدام شکل را نمی توانیم با این چهار تکه بسازیم؟



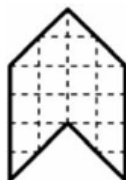
(۱)



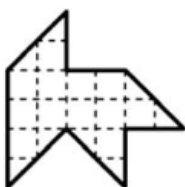
(۲)



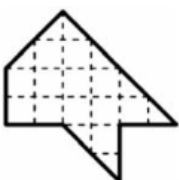
(۳)



(۴)



(۵)



آقا خرگوشه هر روز یا ۱۰ هویج می خورد یا ۲ کلم. اگر او در هفته ی پیش ۶ کلم خورده باشد، چند هویج خورده است؟


(۱) ۲۰

(۲) ۳۰

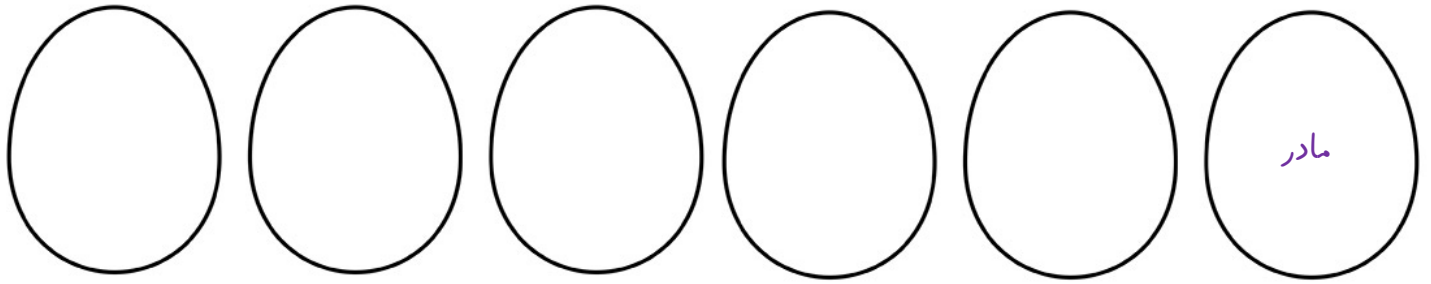
(۳) ۳۴

(۴) ۴۰

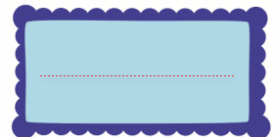
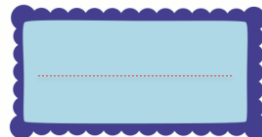
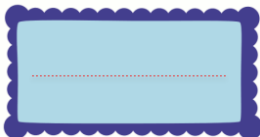
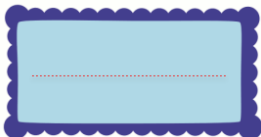
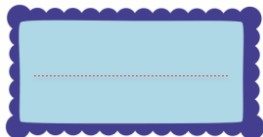
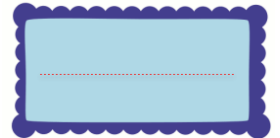
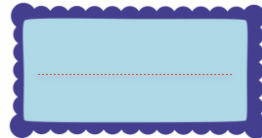
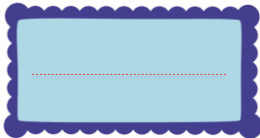
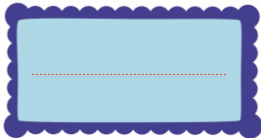
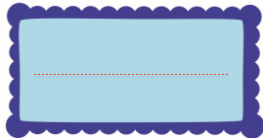
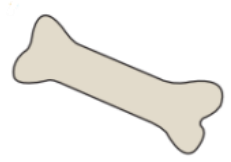

(۵) ۵۰



مانند نمونه، داخل تخم مرغ ها، کلمه های ۴ حرفی بنویس که نقطه نداشته باشند.



عزیزم! نام تصاویر زیر را با خط خوش بنویس.



جدول را کامل کن.

اِسْلَام					

سَلَامَتِي							





# املاي تصويري

متن زیر را بخوان و نام هر تصویر را در جای خالی بنویس.



قاسم یک ..... داخل ..... داشت ..... کنار ..... بود.



برادر من ..... در سر دارد.



مادر ..... و ..... و ..... را آورد.



..... من در گرگان زندگی می کند. او سه ..... یک ..... و شش ..... و یک





..... دارد. او از ..... ماست و پنیر درست می کند. پدر بزرگ من باغ ..... هم دارد.

در جدول زیر دایره هر کلمه ای که نشانه ی (ه) آن صدای ه می دهد را قرمز و هر کدام که صدای ا می دهد را آبی کن.

ماه ○	ستاره ○	به به ○	کوسه ○	میوه ○	کلاه ○	خانه ○
سیاه ○	شانه ○	ده ○	چانه ○	نه ○	خنده ○	کوه ○

تعداد دایره های آبی و قرمز را بشمار و با هم مقایسه کن.



مرتب کن. 🐼

کمال - گلدان - کاشت - را - گل - در

شد - آموزگار - لبخند - با - کلاس - وارد

پوریا - می تواند - بنویسد - جمله

جلال - با - می رود - به - پدر - مسجد

پنج - جفت - روی - جوراب - بند - است

در کدام یک از کلمه‌های زیر «و» هیچ صدایی ندارد؟ ستاره آن را رنگ بزن. 🐼

می خورند

گوسفندان

نور

خواب

موز

جوان

استخوان

جوراب

خواهش

خروس

مخالف هر کلمه را بنویس. 🐼

خواهیدند

می خواهند

خواستند

ترکیب کن و کلمه بساز. 🐼

کان

پا

کت

نده

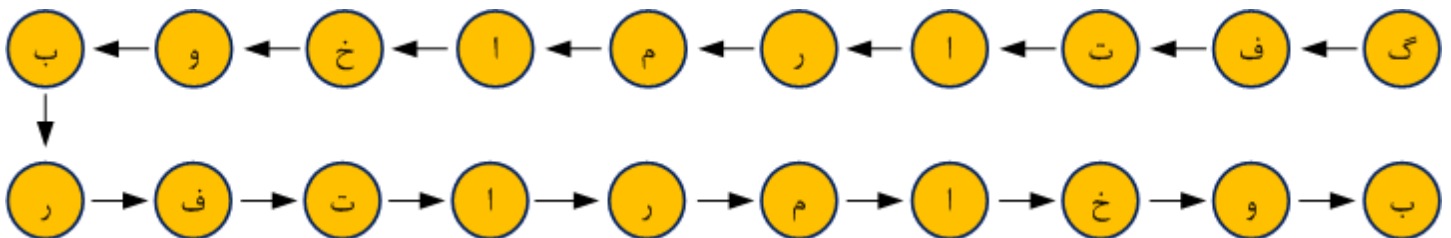
پر

واز





دوست عزیزم نشانه‌ها را از محل شروع دنبال کن و شعر مناسب را پیدا کن و در کادر بنویس.




.....

با توجه به جمله‌ی اول بقیه جمله‌ها را کامل کن و بخوان.



..... ما	من میوه می‌خورم.
..... شما	..... تو
..... آنان	..... او



با توجه به تصویر یک داستان کوتاه بنویس.



.....

.....

.....

به کلاه قرمزی و پسر خاله کمک کن تا در هر ستون با نشانه‌های به هم ریخته یک کلمه بسازند و



سپس هر کلمه را به کلمه‌ی مخالف آن در ستون روبرو وصل کنند.



ری به یا

.....

ت ک ا ه و

.....

س ب ه ت

.....

ش ا ل خ و

.....

ن د ش ه

.....

ز ب ا

.....

ت س و د

.....

م ی س ت ل ا

.....

ر ح ا ا ت ز

.....

ل ا ی و ط ز

.....

بسته

باز

برای هر ترکیب، یک کلمه بنویس.







گ

س

ش

ب








د

ر ی

ش ا

ش ی








جدول سودوکو را کامل کنید.



مراحل ساخت آدم برفی را شماره گذاری کن.




با استفاده از راهنمای زیر یک میمون نقاشی کنید.





جدول را کامل کنید و حروف خانه‌های رنگی را پشت سرهم قرار دهید تا رمز جدول به دست آید.



گیره‌ی ..... در آب فرو می رود ولی گیره‌ی پلاستیکی روی آب می ماند  
بعضی جانوران مانند موش انسان را ..... می کنند.

قسمتی از گیاه که در داخل خاک قرار می گیرد

این صداها به گوش آسیب می رسانند

در یک برنامه‌ی درست زندگی، زمان آن خیلی مهم است

وقتی خورشید در سمت چپ شما قرار دارد، سایه در این سمت درست می شود

انسان آن را تغییر می دهد و در ساختمان سازی و مجسمه سازی استفاده می کند

این بخش از گیاه گوجه فرنگی، خوراکی است

جنس بنای ارگ بم

پاکیزگی نشانه‌ی ..... است

یکی از چیزهایی که موجب می شود ما سالم و شاداب بمانیم

رمز جدول:



به نظر شما خانه‌ی ما انسان ها آبی، خاکی یا سنگی است؟ چرا؟

چه چیزهایی باعث آلودگی آب و خاک می شوند؟

# بهداشت دهان و دندان

در سفره هفت سین خانه شما از وسایل زیر استفاده شده است.

نام هر کدام را بنویس.

با هر کدام یک جمله در مورد دهان و دندان بساز.

اگر برای دندان و دهان سود دارند برای آن نشانه ☺ و اگر زیان دارند برای آن نشانه ☹ قرار بده.

تصویر	نام	جمله	سود یا زیان
			
			
			
			
			
	ساق	ساق درد دندان را آرام و پاشیدن پودر آن لثه را قوی می کند.	☺
	سرکه		





## مساله حل کنید و لذت ببرید

مینا در یک ساختمان آپارتمانی زندگی می‌کند. ۳ طبقه بالای آپارتمان او و ۲ طبقه زیر آپارتمان او وجود دارد. در این ساختمان چند طبقه وجود دارد؟



مهری تصمیم گرفته است در تعطیلات نوروز کتاب های داستانی را که پدرش برای او خریده است، بخواند. اگر او در روز اول ۱ داستان، در روز دوم ۲ داستان، در روز سوم ۳ داستان و در هر روز یک داستان بیش تر از روز قبل بخواند.

در روز هفتم، چند داستان می خواند؟

تا روز دهم چند داستان می خواند؟

مهرداد دو کتاب خرید. او برای خرید این کتاب ها، ۶ تومان پرداخت کرد. اگر یکی از کتاب ها ۲ تومان گران تر از دیگری باشد، قیمت هر کتاب چقدر بوده است؟

امیر ۴ ماشین اسباب بازی بیش تر از سام دارد. چند ماشین امیر باید به سام بدهد تا تعداد ماشین های آنها با هم برابر شود؟



بدون اینکه مداد را از روی کاغذ بردارید یا اینکه از روی یک خط دو بار عبور کنید، شکل‌های زیر را رسم کنید.



مربع‌ها را طوری پر کنید که جمع عددهای روی هر سطر، هر ستون و هر قطر برابر ۱۸ شود.

۹		
	۶	۷
	۱۱	

به شکل‌های زیر خوب نگاه کنید و سپس پاسخ دهید؟



چند مربع می‌بینید؟



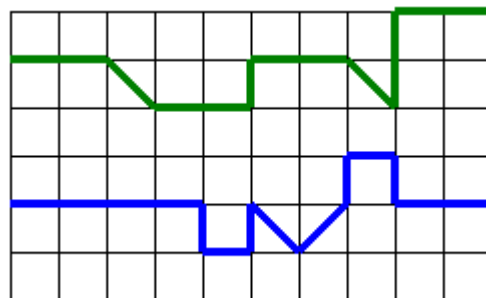
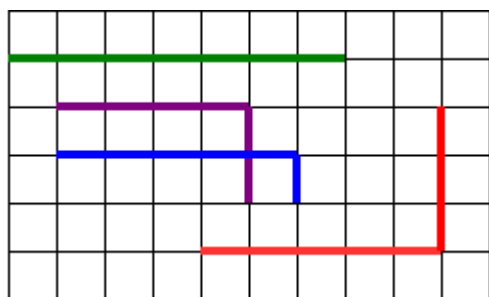
چند مستطیل می‌بینید؟



چند مستطیل می‌بینید؟

چند مثلث می‌بینید؟

در هر یک از شکل‌های زیر بلندترین خط را پر رنگ کنید؟



🐟 مهنار با پدرش به پیاده روی رفت. آنها ساعت ۵:۲۰ عصر شروع و ساعت ۵:۴۵ تمام کردند. پیاده روی آنها چقدر طول کشیده است؟

🐟 با سه روش مختلف جاهای خالی را پر کنید (از عدد صفر استفاده نکنید).

$$\square + \square + \square = 6$$

$$\square + \square + \square = 6$$

$$\square + \square + \square = 6$$

🐟 حساب کنید و جاهای خالی را پر کنید.

$$5 + 10 + 15 = \dots$$

$$9 + \dots = 18 + \dots$$

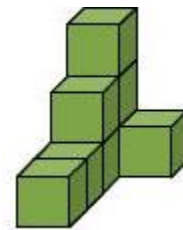
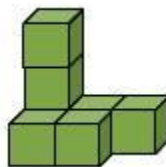
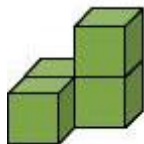
$$6 + 11 + 3 = \dots$$

$$5 + 11 = \dots + 10$$

$$2 + 9 + 9 = \dots$$

$$24 + \dots = 16 + 8$$

🐟 در هر شکل، چند مکعب وجود دارد؟



🐟 جمع و تفریق با عدد صفر انجام بده.

$$1 + 0 = \bigcirc$$

$$0 + 7 = \bigcirc$$

$$0 + 0 = \bigcirc$$

$$4 - 0 = \bigcirc$$

$$7 - 7 = \bigcirc$$

$$0 + 8 = \bigcirc$$

$$13 - 13 = \bigcirc$$

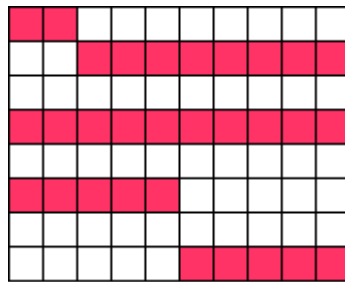
$$9 + 0 = \bigcirc$$



چند مربع رنگی در شکل زیر وجود دارد؟



آیا می توانید روشی برای شمارش سریع تر مربع های رنگی پیدا کنید؟



امروز سه شنبه روز سوم فروردین است. ۶ روز دیگر چند شنبه است؟ .....



با الگوی عددی نشان دهید، در فروردین ۹۵، سه شنبه ها چه روزهایی هستند؟



در الگوهای عددی زیر، جاهای خالی را پر کنید.



۱۷، ۱۵، ۱۳، .....، ۹، ۷، .....، .....

۱، ۲، ۲، ۳، ۲، ۴، ۲، ۵، .....، .....، ۲، ۷، .....، .....، .....

۶، ۱۱، ۱۶، ۲۱، .....، .....، ۳۶، ۴۱




حیوان بعدی را در الگوهای زیر نقاشی کنید.

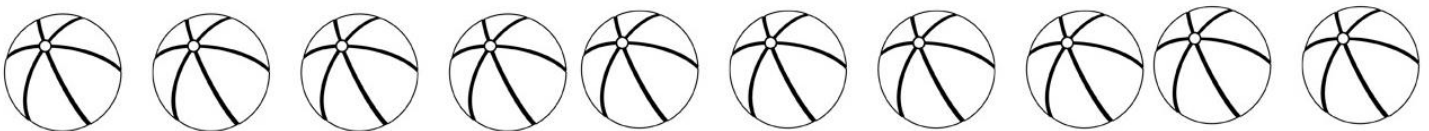


دور لوگوها طوری خط بکشید که عدد ست چپ را نشان دهد.

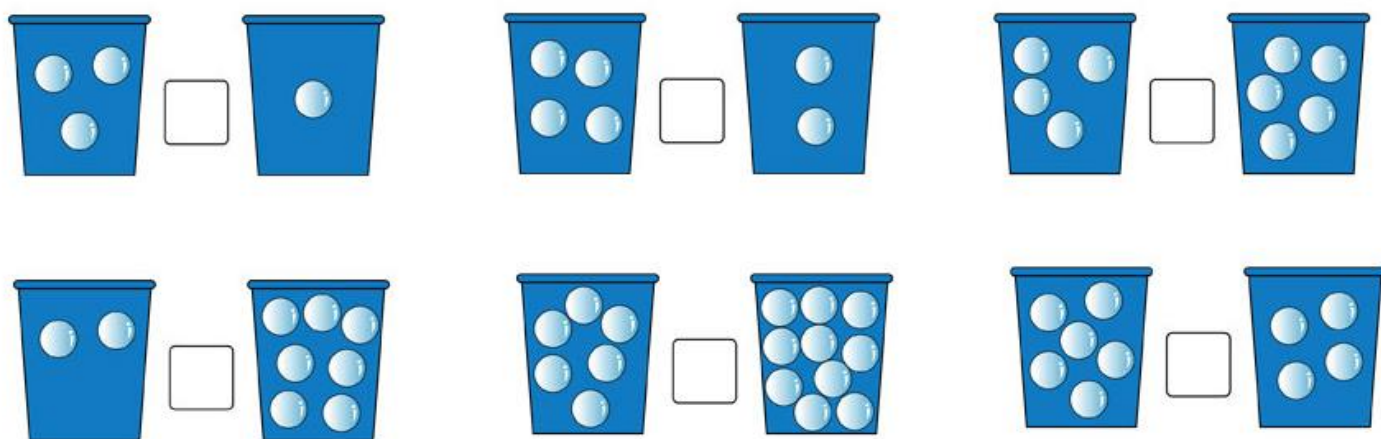


توپ سوم از سمت راست را با آبی و توپ پنجم از سمت چپ را با سبز رنگ بزن.






تعداد جاب ها در داخل سطل ها را بشمار و با استفاده از  $> = <$  آن ها را مقایسه کن.



با رسم چوب خط تعداد هر یک را بشمار و بنویس.






در هر مورد، دور جواب درست خط بکش.



ریشی این گیاه خوراکی  
است؟



کدام تصویرها برشی از یک  
گوجه فرنگی هستند؟




افراد نابینا برای خواندن و  
نوشتن استفاده می کنند؟



این بنای باستانی از سنگ  
درست نشده است؟



قسمت های مختلف گیاه را روی شکل مشخص کن.



آیا می توانید سمت راست علامت های مساوی یک شکل مناسب بکشید.



هر کدام از کارهای زیر با چه اندامی حس می‌شود؟ به چشم یا گوش وصل کنید.

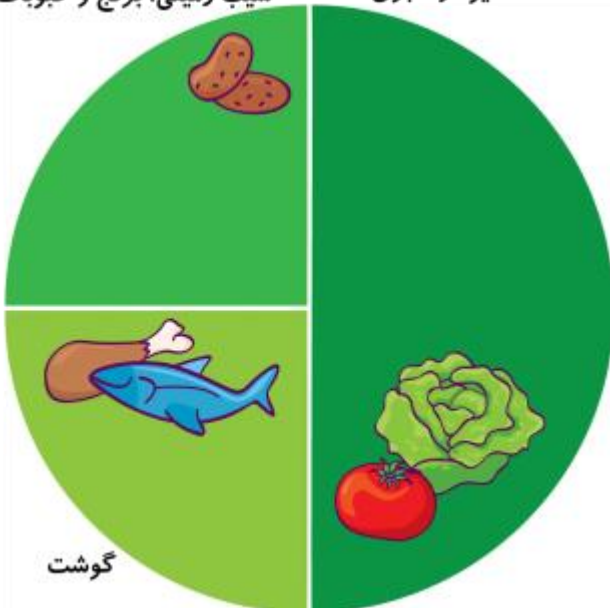


غذاهای مفید را در محل مناسب داخل بشقاب سلامت نقاشی کن.



سیب زمینی، برنج و حبوبات

میوه و سبزی



گوشت


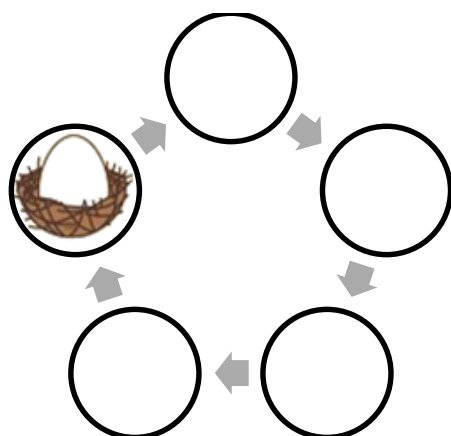


فایده‌ی هر جانور را به تصویر مناسب آن وصل کن.






با توجه به تصویر سمت راست، مراحل رشد جوجه را در محل مناسب نقاشی کنید.




هر حیوان را با یک رنگ به پشه اش برسان.



علامت بزن.



گیاهانی که می‌توان از آن‌ها رنگ تهیه کرد را × بزن.  
گیاهانی که از آن‌ها روغن تهیه می‌شود را ✓ بزن.  
درختانی که در محل زندگی شما رشد می‌کنند را • بزن.



## نردبان بسازید



آیا می‌توانید با چند تکه چوب صاف و مقداری طناب یک نردبان شبیه شکل روبه‌رو بسازید.

جایگاه کردن این نردبان آسان تر است یا نردبان چوبی و فلزی؟

وقتی از روی زمین به بالای یک ساختمان می‌خواهید بروید، این نردبان مناسب تر است یا نردبان چوبی؟

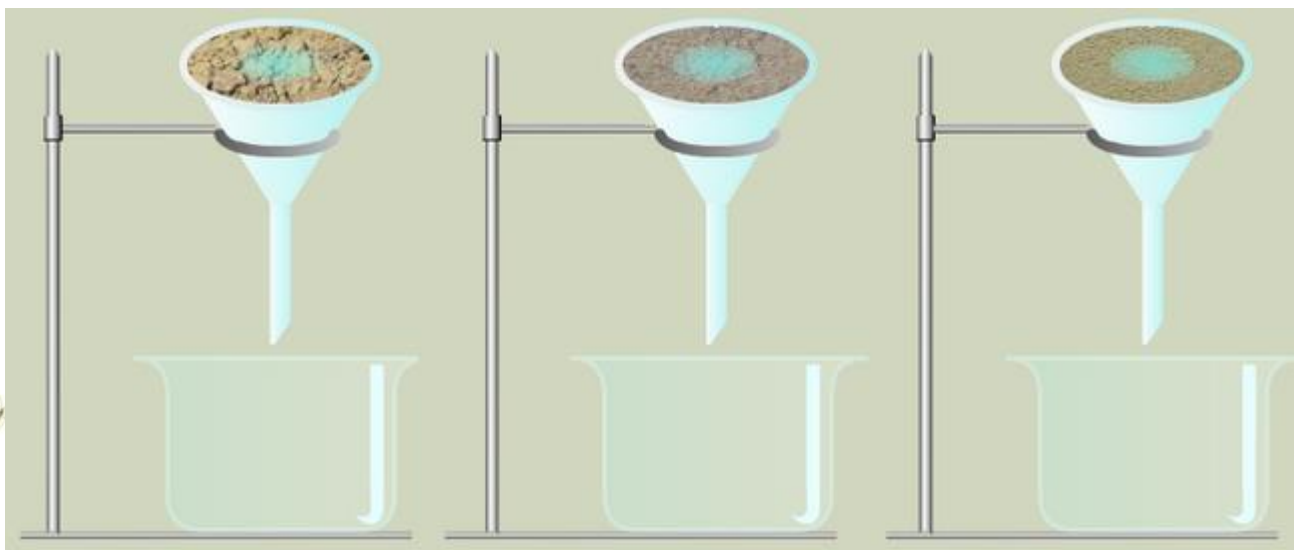
## آزمایش کنید:

در تصویر زیر سه نوع خاک داخل قیف‌ها ریخته شده است. داخل هر قیف یک لیوان آب می‌ریزیم. آب در سه نوع خاک به اندازه‌ی یکسان نفوذ نمی‌کند. آیا می‌توانید مقدار آبی که در ظرف‌های زیر قیف‌ها جمع می‌شود را نقاشی کنید؟

ماسه

خاک گلدان


خاک رس



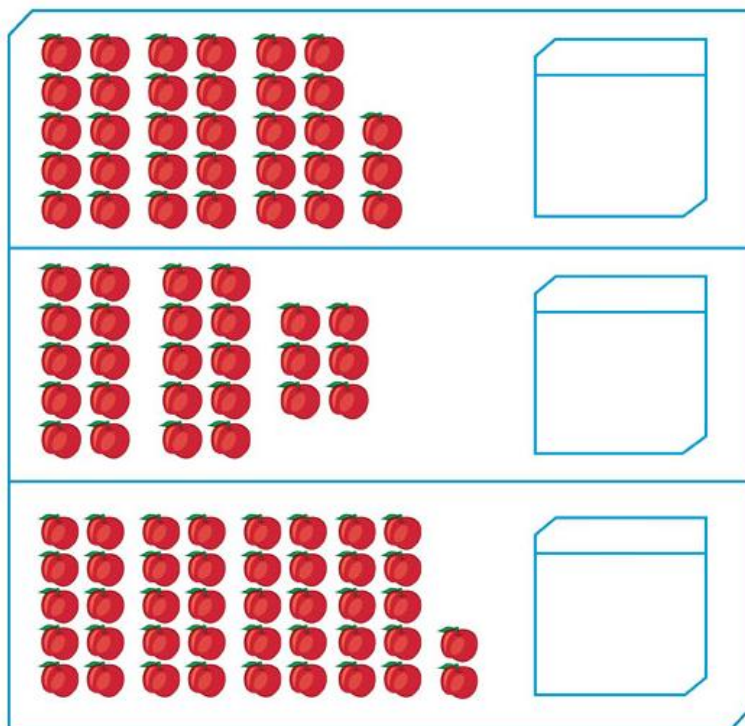


# اسراف نکنیم

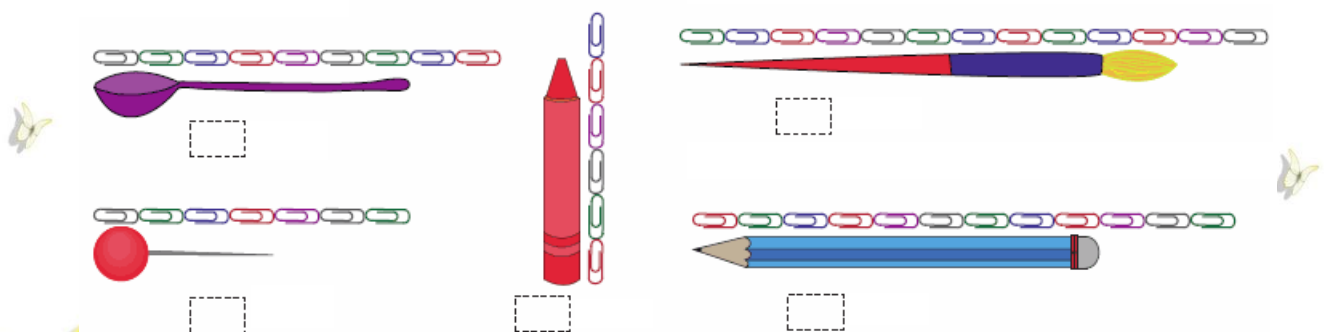
در هر قسمت شکلی که مصرف درست آب را نشان می دهد، رنگ بزن



عددی را که هر شکل نشان می دهد، بنویس.




اندازه هر وسیله برابر چند گیره ی پلاستیکی است؟



هر کلمه را زیر شکل مناسب بنویس.



اسکی	جزیره	بتنی	جوهر	زنبور	مگس
کلبه	کفشدوزک	بالا	گل زنبوق	زیر	مورچه



در شکل بالا، عکس ها را به دلخواه رنگ بزن.



زیبا بنویس.




سرباز ایرانی از دشمن نمی ترسد. ....

مسواک دندان را تمیز می کند. ....







بادبادک رنگی و زیبا به آسمان پرواز کرد. ....

کشاورز در روستا گندم می کارد. ....



۲۶

نام هر شغل و وسیله را بنویس و هر شغل را به تصویر مناسب وصل کن.



درباره‌ی شغل پدر یا مادر خود چند سطر با خط زیبا بنویس.







# گنجینه آموزشی مدارس ایران

دانلود انواع نمونه سوالات، پاورپوینت، فیلم،

انیمیشن، نرم افزار آموزشی و...



[www.gama.ir](http://www.gama.ir)

