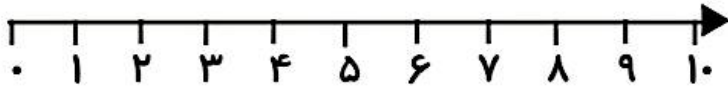
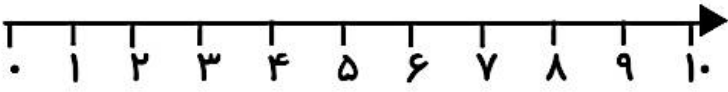


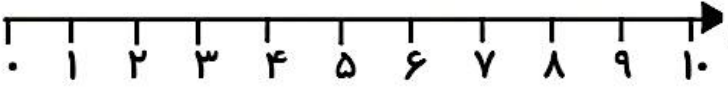
\* به کمک محور، پاسخ عبارت های زیر را پیدا کن.



$10 - 2 = \dots$



$4 + 2 + 1 = \dots$



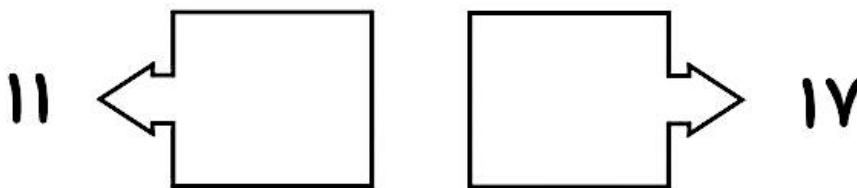
$9 - 3 = \dots$

\* جدول را کامل کن.

۶	۲	۹	۸	۳	۷	۱	۴	۵
۷	۸	۱	۴	۹		۳	۲	۶
۴	۳		۲		۱		۹	۷
۵	۷		۶	۴	۲	۹	۸	۱
۹	۴		۳	۱	۸		۵	۲
۸	۱		۷	۵	۹	۶	۳	۴
۲	۹	۷	۱		۴		۶	۳
۱		۸	۵	۲	۳	۴	۷	۹
۳	۵	۴	۹	۷	۶	۲	۱	



\* برای اعداد چوب خط بکش.



نیاز به تلاش	قابل قبول	خوب	خیلی خوب	انتظارات
				توانایی یافتن حاصل عبارت های جمع و تفریق را دارد.
				اعداد را می شناسد، به شکل مربوطه وصل و به ازای آن چوب خط رسم می کند.
				محور اعداد را به درستی انجام می دهد.
				جدول شگفت انگیز را به درستی کامل می کند.

