




با توجه به عدد نوشته شده در بالای هر قسمت، شکل ها را کامل کن و برای آن ها یک جمع بنویس.



$$\text{---} + \text{---} = \text{---}$$



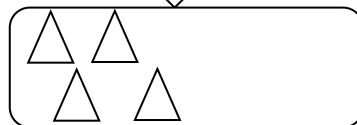
$$\text{---} + \text{---} = \text{---}$$



$$\text{---} + \text{---} = \text{---}$$




$$\text{---} + \text{---} = \text{---}$$



$$\text{---} + \text{---} = \text{---}$$



$$\text{---} + \text{---} = \text{---}$$



$$\text{---} + \text{---} = \text{---}$$