





نام و نام خانوادگی:

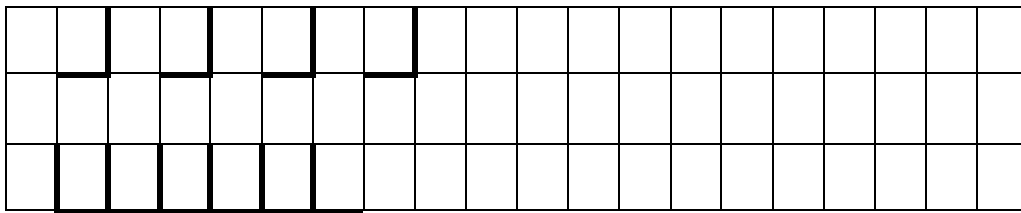
آزمون ریاضی (تا تم پنج)

طراح: لیلا حق شناس




-دسته هایی که تعداد شکل هایشان مثل هم است، با خط کش به هم وصل کن.




-الگوها را ادامه بده.




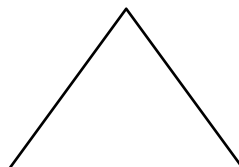
-اگر به هر شکل دوتا اضافه کنیم، چندتا می شود؟ به همان تعداد از دایره ها رنگ بزن.








-با کشیدن چوب خط نشان بده شکل های سمت راست و چپ با هم چندتا است؟




-در شکل های زیر، گوشه ها را با مداد آبی و لبه ها را با مداد قرمز مشخص کن.















-به تعداد هر شکل دقت کن و برای آن چوب خط مناسب بکش.



-جدول ها را کامل کن.(در ردیف،ستون و پنجره؛ تکراری نداریم.)

	سبز	قرمز	زرد
قرمز		آبی	
زرد	آبی		قرمز
سبز		زرد	آبی

انتظارات	خیلی خوب	خوب	قابل قبول	نیاز به تلاش بیشتر
توانایی برقراری تناظر بین دسته های مساوی را دارد.				
الگو را درک کرده و به درستی ادامه می دهد.				
توانایی شمارش و اضافه کردن به اشکال را دارد.				
گوشه و لبه را در اشکال هندسی تشخیص می دهد.				
توانایی رسم چوب خط به ازای هر شکل را دارد.				
جدول شگفت انگیز را به درستی کامل می کند.				

