

به نام خدا

ارزشیابی ریاضی پایه ی اول

نام و نام خانوادگی :

اُمید ۶ تراش داشت. برادرش ۳ تراشِ دیگر به او داد. اُمید چند تراش دارد؟




با کامل کردن شکل ها جمع ها را پاسخ بده.



$$۳ + ۶ =$$



$$۵ + ۲ =$$



$$۲ + ۳ =$$

ابتدا شکل ها را کامل کن. سپس با توجه به عبارت ها ، شکل ها را خط بزن و تفریق ها را پاسخ بده.



$$۷ - ۳ =$$




$$۱۰ - ۶ =$$






$$۶ - ۲ =$$

چند تا بودند؟ چند تا رفتند؟ چند تا ماندند؟ تفریق مربوطه را کامل کن.

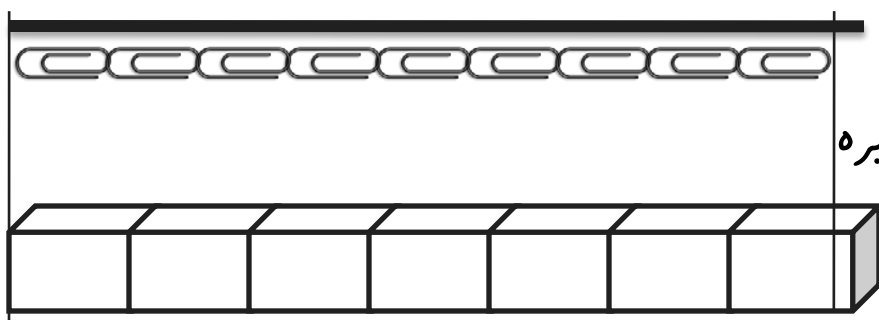


$$\boxed{} - \boxed{} = \boxed{}$$



$$\boxed{} - \boxed{} = \boxed{}$$


اندازه ی نی ، به اندازه ی کمی بیشتر از چند چینه و گیره است؟



کمی بلندتر از گیره

کمی بلندتر از چینه

دسته بندی کن و در جدول یکی و ده تایی بنویس.



یکی	ده تایی

بازخورد آموزگار : ☐ خیلی خوب ☐ خوب ☐ قابل قبول ☐ نیاز به تلاش بیشتر