




\* به تعدادی که در سمت چپ می بینی ، از شکل های سمت راست رنگ بزن.



\* با توجه به آنچه نوشته شده رنگ آمیزی کن سپس چوب خط مناسب بکش و تعداد کل شکل ها را بنویس.



آبی




سبز



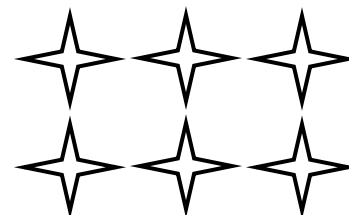



آبی

سبز

\* شکل ها را طوری کامل کن که دو نیمه ی آن مثل هم باشد.





\* تعداد هر دسته را بنویس و از علامت مناسب ( > = < ) استفاده کن.





-----  -----

-----  -----

\* اگر به تعداد شکل های سمت راست از شکل های سمت چپ برداریم چقدرتا می ماند؟ با عدد نشان بده.



-----



-----

\* جدول را کامل کن.

۳	۱	۲	۸		۵	۴	۷	۶
۵		۹	۱	۴	۷	۳	۸	۲
۴	۸	۷	۲	۶	۳		۱	۹
۹	۵	۱	۷	۳	۶	۲		۸
	۲	۸	۵	۱	۴	۶	۹	۳
۶	۳	۴		۸	۲	۱	۵	۷
۲	۴	۵	۶	۷	۹	۸	۳	۱
۱	۷		۳	۵		۹	۲	۴
	۹	۳	۴	۲	۱	۷	۶	

انتظارات	خیلی خوب	خوب	قابل قبول	نیاز به تلاش
فراگیر به درستی تعداد را شمرده ،چوب خط رسم کرده و نماد عددی را می شناسد.				
با توجه به خط تقارن ، نیمه ی دیگر شکل را به درستی رنگ زده و کامل می کند.				
توانایی مقایسه کردن شکل های هر دسته را دارد و علامت مناسب می گذارد.				
مفهوم ابتدایی تفریق را درک کرده و توانایی کم کردن و نوشتن حاصل عبارت را دارد.				
جدول سودوکو را به درستی تکمیل می کند.				