

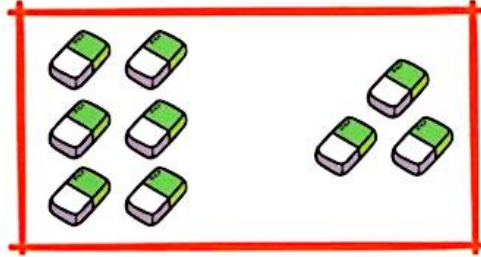
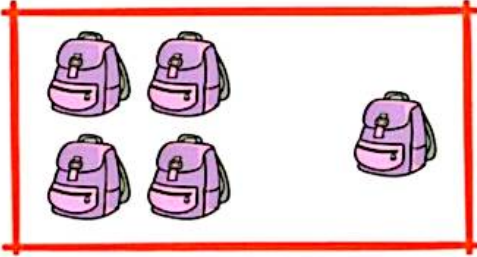
نام و نام خانوادگی:

تاریخ:

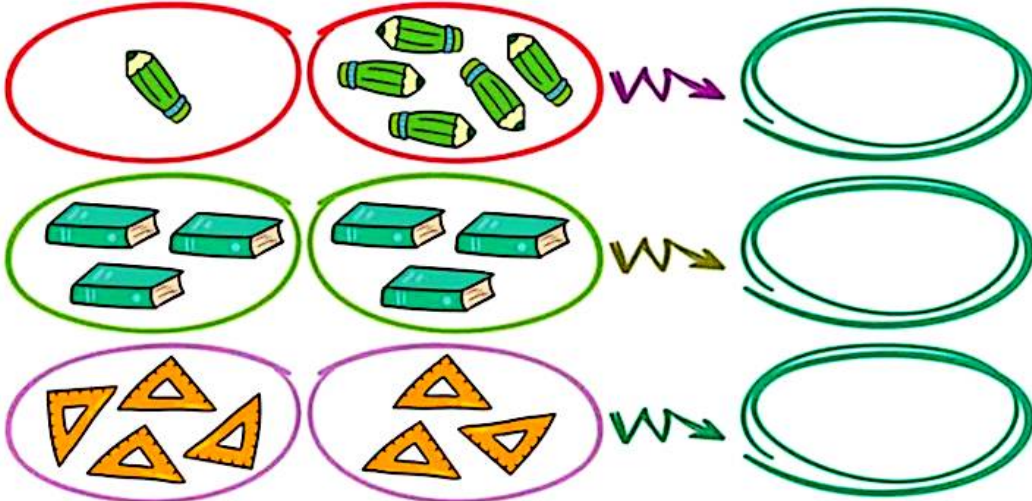


طراح و صفحه آرا: فروغ تاجیک

۱) اگر به تعداد شکل های سمت راست از شکل های سمت چپ برداریم، چند تایی ماند؟ عدد آن را بنویس.



۲) شکل های هر دو دسته روی هم چند تایی شود؟ با چوب خط نشان بده.



۳) بچه ها و مدادها را با کمک خط کش طوری به هم وصل کن که به هر دانش آموز یک مداد برسد.

