

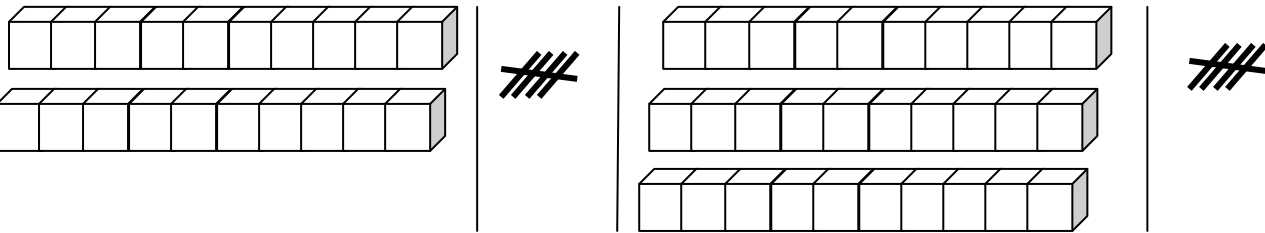
نام دانش آموز:

آموزگار: عبداللهی abdollahi1.blogfa.com

۱ - با کمک شکل، عبارت های جمع را نوشته و حاصل آن را به دست بیاور.



..... + + =



..... + + + =


۲ - با کشیدن چوب خط، جمع ها را انجام بده.

$$۶ + ۹ = \dots\dots\dots$$

$$۱۰ + ۱۳ + ۶ = \dots\dots\dots$$

$$۹ + ۱ + ۱۴ = \dots\dots\dots$$

۳ - با رسم چوب خط مسئله را جواب بده.



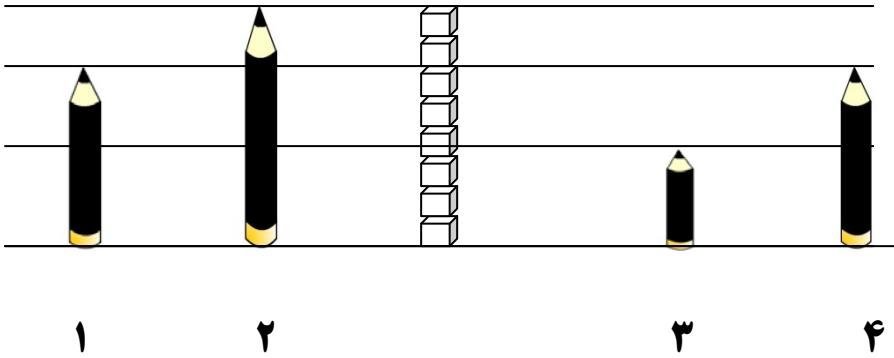
۸ پرنده در آسمان پرواز می کردند.

۲ پرنده ی دیگر به آن ها اضافه شد.

بعد از مدتی ۴ پرنده ی دیگر هم آمدند.

..... پرنده در آسمان هستند.

چند پرنده در آسمان هستند؟



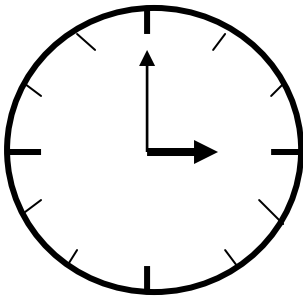
اندازه ی مداد شماره ی ۱ برابر با است . اندازه ی مداد شماره ی ۲ برابر با است .

اندازه ی مداد شماره ی ۳ بین تا است . اندازه ی مداد شماره ی ۴ برابر با است .

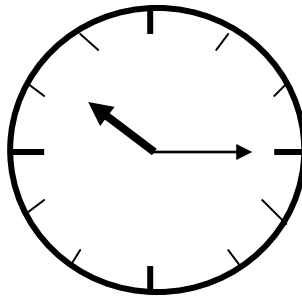
مداد شماره ی ۱ کو تاه تر از مداد شماره ی است . مداد شماره ی کو تاه ترین مداد است .

مداد شماره ی با مداد شماره ی هم اندازه است . مداد شماره ی بلند ترین مداد است .

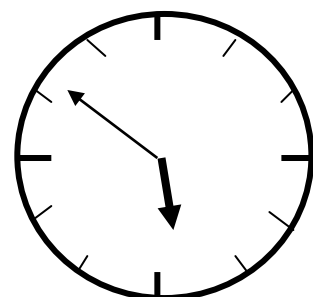
۵- زمانی که هر ساعت نشان می دهد را بنویس.



ساعت است.



زمان، بین ساعت و است .



زمان، بین ساعت و است.

شماره سوال	انتظارات	خیلی خوب	خوب	قابل قبول	نیاز به تمرین
۱	انجام جمع مضارب ۵ و ۱۰ با کمک شکل				
۲	انجام جمع با کمک چوب خط				
۳	نشان دادن جواب مسئله با کمک چوب خط				
۴	تشخیص اندازه ی مدادها با مقیاس چینه				
۴	مقایسه ی اندازه ی مدادها نسبت به یکدیگر				
۵	تشخیص محل قرار گرفتن عقربه ی ساعت شمار در ساعت				