



کلبه ی الفبا

جانی پور

به نام خالق زیبایی

مساله های نوروزی


فروردین ۹۵

نام و نام خانوادگی:

ضمن سلام خدمت اولیای گرامی و عرض شاد باش به مناسبت ایام نوروز توجه شما را به چند نکته ی مهم در مورد این مساله ها جلب می نمایم.

در این مساله ها سعی شده موضوع برای بچه ها به چالش کشیده شود تا کمی بیشتر از مساله های معمولی فکر بچه ها درگیر شود. لذا خواهشمندم اجازه بدهید فرزندان خودش مساله ها را بخواند و درک نماید. هدف از این کار برگ در این است که بچه هادر طی تعطیلات مسائل را مرور کنند بنابر این حل روزی دو مساله کافی است.

علی با کمک پدر بزرگش در روز درخت کاری ۹ درخت آلبالو، ۳ درخت گیلان و ۶ درخت سیب کاشته اند. آن ها باهم چند درخت کاشته اند؟ (با کشیدن شکل و نوشتن عملیات آن حل شود)

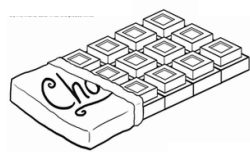


در کلاس اول ۱۷ دانش آموز درس می خوانند. برای زنگ ورزش ۵ نفر برای مسابقه ی پرتاب حلقه و ۷ نفر برای مسابقه ی دو انتخاب شدند. چند نفر برای مسابقه ی دوچرخه سواری انتخاب شدند؟ (روی محور نشان بده)



_____ →

حسام در فروشگاه خود ۷ بسته ی ده تایی شکلات داشت. او روز اول ۳ بسته و روز دوم ۲ بسته از شکلات ها را فروخت. اکنون در فروشگاه چند بسته شکلات دارد؟ (کشیدن شکل)



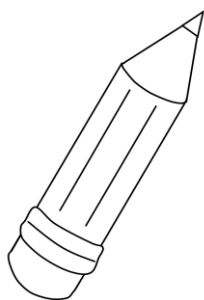
در یک پارکینگ ۳ دوچرخه و ۲ ماشین پارک شده است. چند تایر روی زمین پارکینگ است؟ (روش دلخواه)



تولد آرتین دوهفته ی دیگر است. چند روز دیگر به تولد او باقی مانده است؟ (با چوب خط)



الناز ۶ مداد روی میز آموزگارش گذاشت. اگر ۴ مداد بیش تر از او روی میز گذاشت. (روش دلخواه)



- اگر ۴ مداد روی میز گذاشت؟

- آن ها روی هم چند مداد روی میز گذاشتند؟

پدر محمد امین قناد است. او ۵ جعبه شیرینی آماده کرده است که در هر جعبه ۱۰ شیرینی قرار دارد.

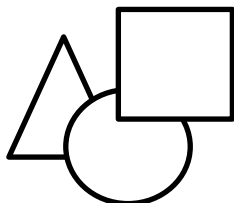
او چند شیرینی آماده کرده است؟ (کشیدن شکل)



کلاس اول ۳۰ دانش آموز دارد . اگر در هر نیمکت ۳ دانش آموز بنشینند چند نیمکت برای این کلاس لازم است؟ (با کشیدن شکل و دسته بندی)



سعیده در دفترش یک مربع، ۲ دایره و ۴ مثلث کشید. (روش دلخواه)



- شکل های او روی هم چند گوشه دارد؟


- شکل های او روی هم چند لبه دارد؟

هر ماه از فصل پاییز ۳۰ روز است . هر فصل هم ۳ ماه دارد . فصل پاییز چند روز است؟ (دلخواه)



در یک سبد ۵ خیار، ۳ سیب و ۴ انار گذاشته ایم. صدرا دو انار و یک سیب برداشت. چند میوه در سبد

باقی مانده است؟ (کشیدن محور)



آرمین ۶ ساله است. خواهرش آزاده ۵ سال از او بزرگتر است. آزاده چند ساله است؟ (روش دلخواه)



حسین آقا کفش است . او هر روز ۵ جفت کفش می دوزد . او در ۶ روز چند جفت کفش می دوزد؟
(با کشیدن چوب خط)



بهاره ۸۰ تومان پول دارد . اگر او ۴ پاک کن ۱۰ تومانی بخرد چند تومان برایش باقی می ماند؟ (دلخواه)



علی، محمد، حمید، احمد و حامد هر کدام ۸ دفتر برای جشن نیکوکاری آوردند . آن ها روی هم چند دفتر آوردند؟ (کشیدن چوب خط)



در یک قفس ۱۴ جوجه ی رنگی قرار دادیم . ۳ جوجه زرد، ۴ جوجه نارنجی و ۲ تا از جوجه ها قرمز هستند . چند جوجه آبی است؟ (کشیدن شکل)




در یک اتوبوس ۱۵ مسافر نشسته بودند که در ایستگاه اوّل ۵ مسافر و در ایستگاه دوم ۳ مسافر پیاده شدند . چند مسافر در اتوبوس باقی ماندند؟ (محور)




عمو علی در مزرعه ی خود ۲ گاو، ۳ گوسفند و یک سگ دارد. اگر این حیوانات کنار هم باشند چند دست و پا روی زمین است؟ (کشیدن شکل)



سامان یک جعبه مداد رنگی ۱۲ تایی داشت. اما ۳ تا از مداد هایش را گم کرد و ۲ مداد دیگرش هم تمام شد. او اکنون چند مداد دارد؟ (محور)



عرشیا ۲ دسته ی ده تایی گل در گلدان گذاشت. مادرش هم ۳ دسته ی ده تایی دیگر گذاشت. اما پدرش ۴ شاخه گل در گلدان گذاشت. حالا چند گل در گلدان است؟ (کشیدن شکل)



قاشق ها دسته های ۶ تایی هستند. اگر سپهر ۲ دست قاشق و حسام ۳ دست قاشق بخزند روی هم چند قاشق دارند؟ (دلخواه)




هر ماه ۳۰ روز است. هر ماه چند هفته و چند روز است؟ (کشیدن شکل و دسته بندی)



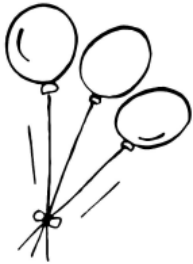
ساختمان آرمان ۴ طبقه دارد. در هر طبقه ۳ واحد خانه است. این ساختمان چند واحد دارد؟ (کشیدن شکل)




سایمان یک کتاب داستان ۲۵ صفحه ای دارد. او دیروز ۱۰ صفحه، امروز صبح ۵ صفحه و عصر هم ۵ صفحه خواند. چند صفحه را نخوانده است؟ (چوب خط)



کیانوش برای تولدش ۱۹ بادکنک باد کرد. ۴ تا از بادکنک ها قرمز، ۴ تا سبز و ۶ تا آبی بود. چند تا از بادکنک ها زرد است؟ (کشیدن شکل)



هر کفش دوزک ۶ پا دارد. مهدی ۴ کفش دوزک پیدا کرده است. حالا کفش دوزک ها روی هم چند پا دارند؟ (دلخواه)



۱۳ نفر در استخر شنا می کردند. ۵ نفر خسته شدند و از آب بیرون آمدند؟ چند نفر در آب ماندند؟ (محور)



علی ۲ دفتر ۴۰ برگ دارد . هر ۲ دفتر او روی هم چند برگ دارد؟ (کشیدن شکل)




دانش آموزان کلاس اول دبستان معراج ۳۰ نفر هستند. آموزگار آن ها را به گروه های ۶ نفری تقسیم کرد.
چند گروه درست شد؟ (کشیدن شکل و دسته بندی)




۳ هفته ی دیگر متین همراه خانواده اش با هواپیمای به مسافرت می رود. او چند روز دیگر به مسافرت می رود؟ (چوب خط)



پریسا ۴ جعبه تخم مرغ رنگی ۶ تایی دارد. او ۵ تا از تخم مرغ هایش را به خواهرش داد. حالا او چند تخم مرغ دارد؟ (دلخواه)



خداقوت عزیزم



کلبه ی الفبا ، جانی پور

www.kolbealefba.ir

به سایت ما هم سر بزن