


# آموزش مفاهیم ریاضی پایه اول با تمرین های متنوع ساعت و محور


طراح : ناظمی

تاریخ : ۹۴/۲/۲۱ آموزشگاه فرهنگیان ناحیه ۶

نام و نام خانوادگی : \_\_\_\_\_



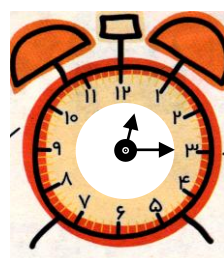
کمی به ساعت ----- مانده است.




ساعت از ----- گذشته است.




کمی به ساعت ----- مانده است.




ساعت از ----- گذشته است.




کمی به ساعت ----- مانده است.



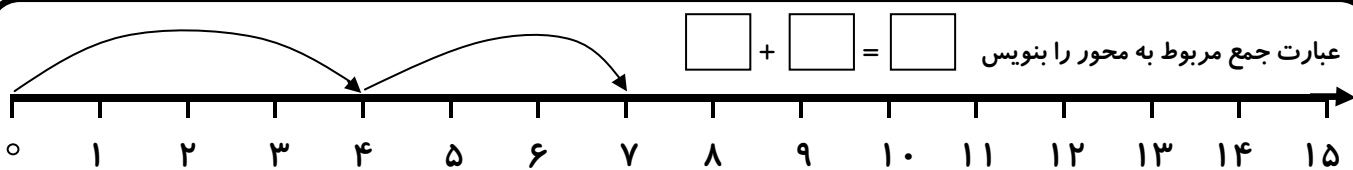
ساعت از ----- گذشته است.



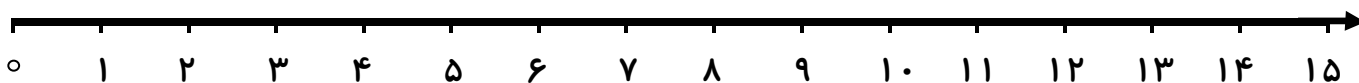
کمی به ساعت ----- مانده است.



ساعت از ----- گذشته است.



به کمک محور جمع کن



$$4 + 5 = \square$$

به کمک محور تفریق کن



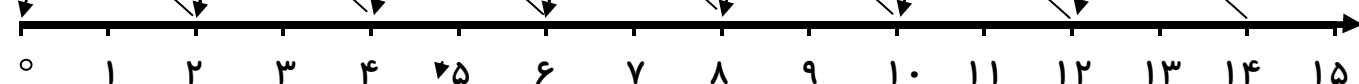
$$8 - 3 = \square$$

به کمک محور جمع کن

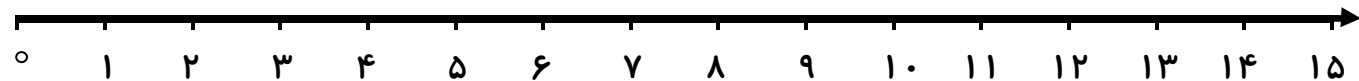


$$4 + 4 + 4 = \square$$

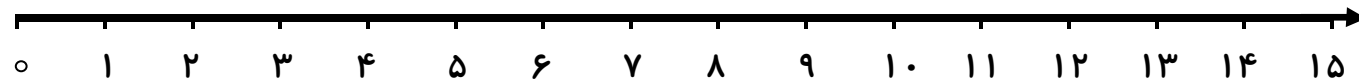
جاهای خالی را با کمک محور کامل کن



$$\square - \square - \square - \square - \square - 10 - 12 - 14$$



۵ پرنده روی شاخه ی درختی نشسته بودند . ۳ پرنده دیگر کنار آن ها نشستند . چند پرنده روی درخت است؟  روی محور نشان بده؟



۸ اردک داخل حوض شنا می کردند . ۳ اردک از حوض خارج شدند . چند اردک داخل حوض ماندند ؟  روی محور نشان بده؟