



Aveed.ir


ارزشیابی: "کل کتاب"

طراح: فاطمه موسوی

نام زیبای من:

درس: ریاضی

زمان هر ساعت را بنویس.



زمان بین ساعت ... و ... است.



ساعت ... است.

با حروف الگوها را ادامه بده.

ده - بیست - سی - چهل - - - -

پانزده - بیست - بیست و پنج - - -

دوازده - چهارده - شانزده - - -

عددها را جمع کن و بین آن ها علامت مناسب $\lt = \gt$ قرار بده.

$10 + 20 = \square$ \bigcirc $13 + 3 = \square$

$8 + 4 = \square$ \bigcirc $10 + 2 = \square$

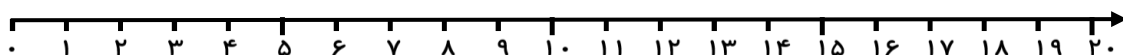
$5 + 5 + 5 = \square$ \bigcirc $5 + 8 = \square$

$10 + 5 = \square$ \bigcirc $20 + 20 = \square$

با کمک محور مسأله را پاسخ بده.

آریا ۱۷ کتاب داستان خرید. ۴ کتاب را به خواهرش داد. ۳ کتاب به کتابخانه هدیه داد. حالا

آریا چند کتاب دارد؟ کتاب دارد.



با عدد و حروف مناسب بنویس.

۸۷

۴۵

۶۲

نوزده

هجده



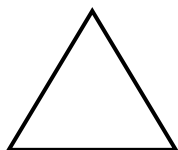

نود و سه

معصومه و علی ۲ دسته ده تایی کیک خریدند. پدر هم به آن ها ۳ دسته ی ده تایی کیک داد.

۱۰ ۱۰

حالا آن ها چه تعداد کیک دارند؟ کیک دارند.

نام شکل ها را بنویس.



.....

.....

.....

.....

پاسخ جمع ها و تفریق های زیر را بنویس.

$$20 + 10 + 5 - 5 = \square$$

$$2 + 3 + 5 + 4 = \square$$

$$10 + 20 - 5 = \square$$

$$5 + 10 + 5 + 7 + 3 = \square$$

خ	خ	خ	خ	در انجام عمل جمع توانایی دارد..	خ	خ	خ	خ	قادر به جمع اعداد است.
خ	خ	خ	خ	اعداد را به رقم و حروف می شناسد.	خ	خ	خ	خ	زمان را با بیان ساعت تشخیص می دهد.
خ	خ	خ	خ	قادر به حل مسئله است.	خ	خ	خ	خ	در انجام عمل تفریق توانایی دارد..