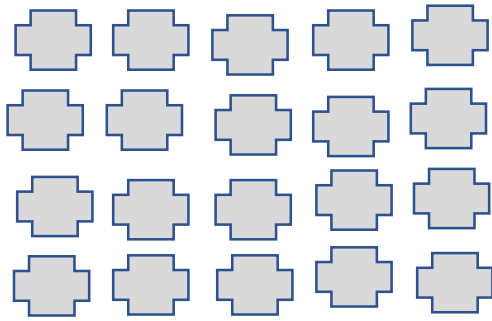



۱. عزیزم شکل ها را دسته بندی کن و جاهای خالی را پر کن.



..... بسته ی ۸ تایی و ..... یکی



..... بسته ی ۱۰ تایی و ..... یکی

۲. دختر توانای من جاهای خالی را پر کن.

۸۴ می شود..... یکی و ..... ده تایی

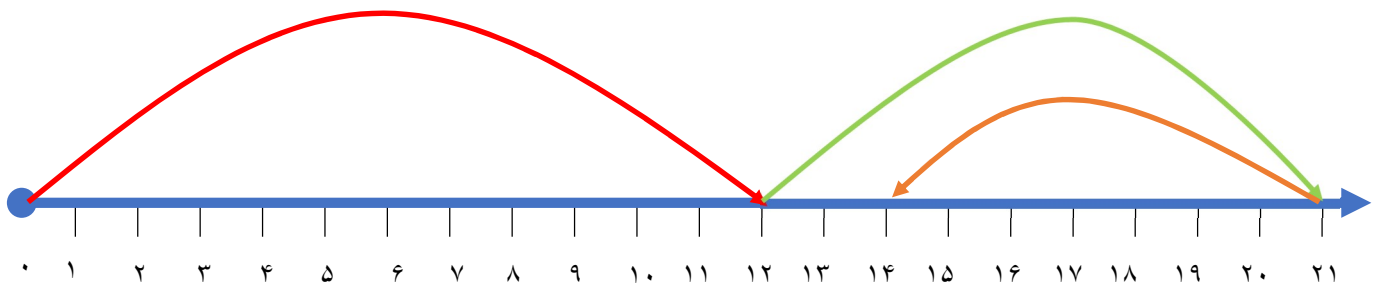
۳۰ می شود ..... یکی و ..... ده تایی

..... می شود ۶ یکی و ۶ ده تایی

۴۴ می شود..... یکی و ..... ده تایی

..... می شود ۵ یکی و ۹ ده تایی

۳. دخترم عبارت مربوط به محور را بنویس.



۴. با استفاده از محور جواب عبارت زیر را بدست بیاور.

$$۱۶+۸-۷=$$

۵. با عدد و حروف مناسب بنویس.

|    |            |
|----|------------|
| ۱۷ | سیزده      |
| ۱۶ | شصت و چهار |
| ۱۸ | نود و چهار |
| ۶۷ | پنجاه و سه |

۶. جمع های عدد ۹ را بنویس.

۷. عزیزم نوشتن الگوهای زیر را ادامه بده. ۵ عدد برای هر کدام کافی است.

۱۰-۱۵-۲۰

۲۰-۳۰-۴۰


۷-۱۴-۲۱

۴۳-۵۳-۶۳

۸. دخترم از عدد ۱۰۰ تا ۵۰ به صورت ۹ تا ۹ به عقب بنویس.

۹. زیبای من یک دایره ی سبز و یک مربع صورتی بکش.

۱۰. اسم شکل های زیر را بنویس.




۱۱. برای عدد ۵۴ شکل بکش و جدول و جاهای خالی را پر کن.

|         |     |
|---------|-----|
| ده تایی | یکی |
|         |     |

.....ده تایی و .....یکی

۱۲. ۱۴ گنجشک روی شاخه ی درختی نشسته بودند. ۶ گنجشک دیگر آمدند و کنار آنها نشستند، ۵ تا از گنجشک ها رفتند. حالا چند گنجشک روی شاخه درخت مانده است؟  
(با استفاده از محور جواب بده)



۱۳. جاهای خالی را پر کن

کتاب از مداد.....است. (سنگین تر-سبک تر)

مداد شماره .....و.....هم اندازه هستند.

مداد شماره ۲.....مداد است.(بلندترین-کوتاه ترین)

۱۴. ساعت ها را ببین و جاهای خالی را پر کن.



ساعت ..... است. ساعت ..... است. ساعت ..... است.



ساعت

ساعت

ساعت

بین ..... و ..... است. بین ..... و ..... است. بین ..... و ..... است.



کمی به ساعت ----- مانده است.



ساعت از ----- گذشته است.



کمی به ساعت ----- مانده است.



ساعت از ----- گذشته است.



کمی به ساعت ----- مانده است.



ساعت از ----- گذشته است.

۱۵. جمع های زیر را انجام بده و دور علامت مناسب خط بکش.

$$۱۰+۱۰+۱۰+۲۵ < = > ۱۵+۱۰-۴ \quad ۵+۵+۲۰ < = > ۱۰+۱۰+۵$$

$$۲۰+۲۵-۸ < = > ۷۰-۳۰ \quad ۵۰+۱۰-۱۰ < = > ۲۵+۵+۱۰$$


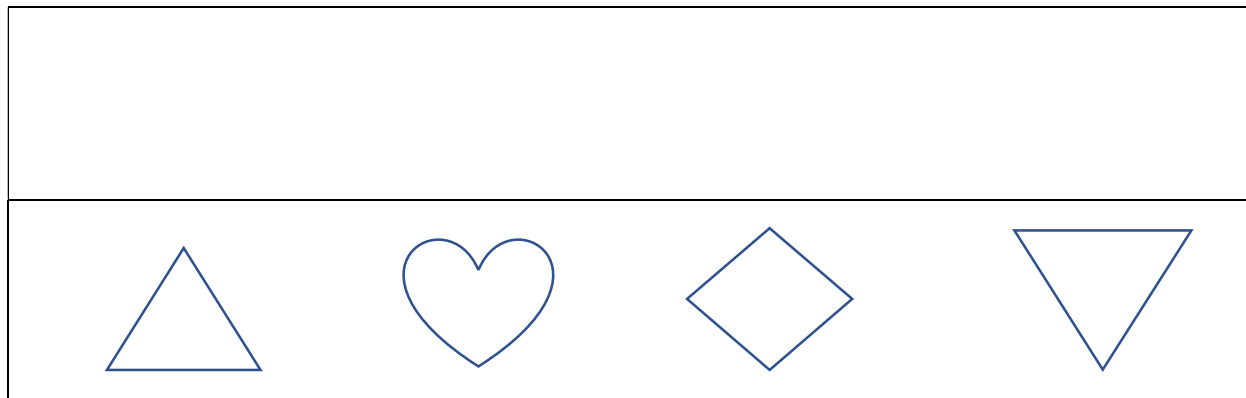
۱۶. عزیزم جمع زیر را با استفاده از چوب خط های رنگی انجام بده.

$$۱۴+۵+۱۶=$$

۱۷. ۸ مسافر در اتوبوس بودند. در ایستگاه اول ۶ مسافر دیگر هم سوار شدند. در ایستگاه دوم ۷ نفر دیگر هم سوار شدند. حالا چند مسافر در اتوبوس هستند؟ (با چوب خط جواب بده)

۱۸. نورا ۴ پیراهن سفید و ۳ پیراهن آبی دارد. او یک شلوار جین تازه هم خریده است. حالا نورا چند پیراهن قرمز دارد؟

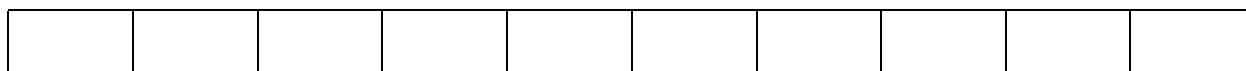
۱۹. سمت دیگر شکل را طوری کامل کن که هر دو طرف مثل هم باشند.



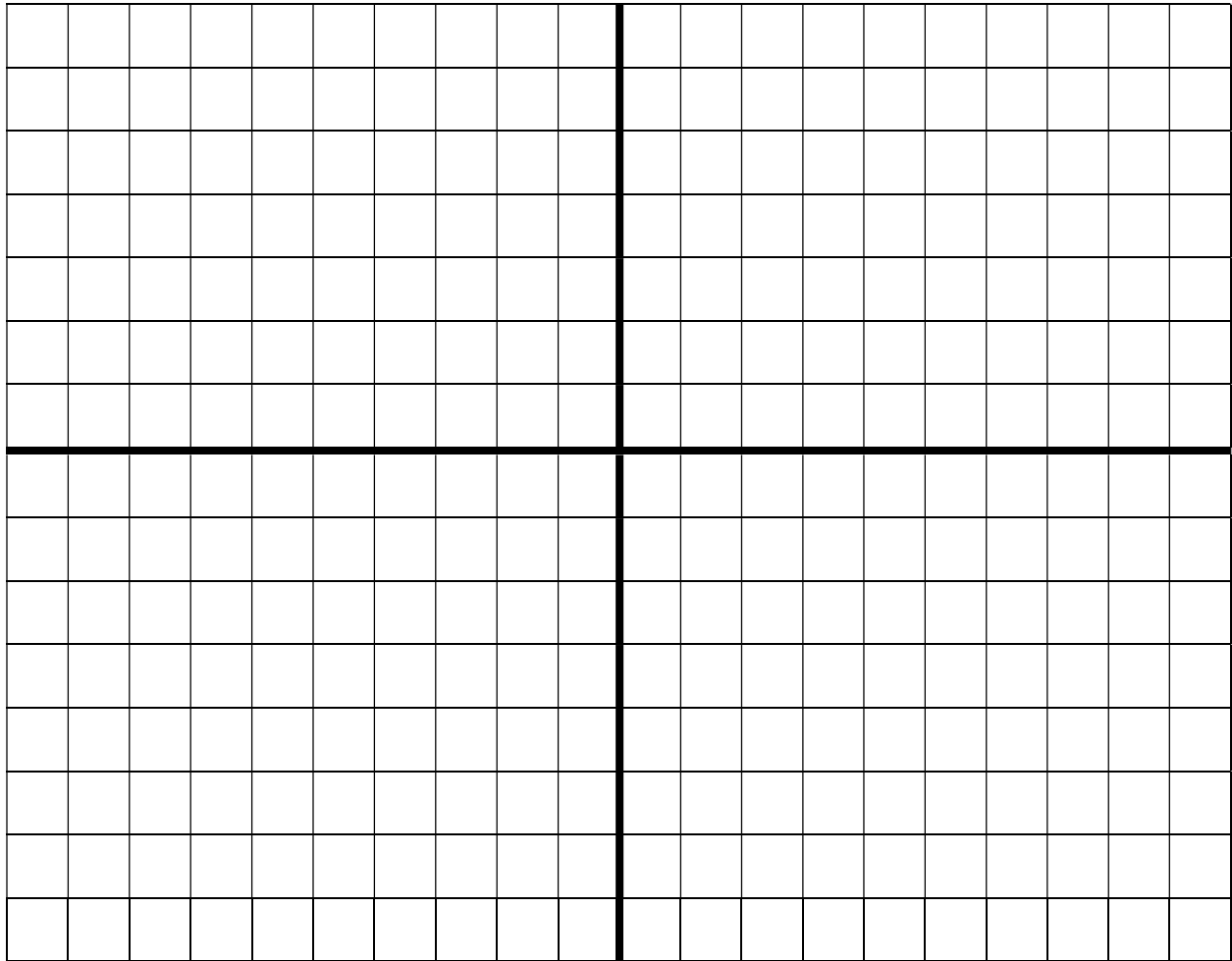
۲۰. الگوی زیر را ادامه بده



۲۱. اندازه مداد بین ..... و ..... چینه است.



۲۲. عزیزم با سلیقه خودت یک فرش زیبا طراحی کن.



۲۳. دخترم یک مسیله که مربوط به زندگی خودت هست بنویس.

موفق باشی، خیلی زیاد دوست دارم