


نام و نام خانوادگی:

کلاس: اول


تاریخ:

۱ فرزندانم سمت چپ دو شکل بکش که چهار ضلع داشته بعد از آن شکلی بکش که ضلع نداشته باشد این الگو را دو بار ادامه بده.

۲ به تعداد چوب خط ها از شکل های سمت چپ خط بزن و به تعداد شکل های باقی مانده سیب بکش.



۳ برای شکل زیر دو عبارت جمع بنویس.



.....+.....=

.....+.....=

۴ به تعداد شکل های مثل هم از چینه های سمت چپ خط بزن و به تعداد شکل های باقیمانده از چینه های سمت راست رنگ کن.



در جای خالی عدد مناسب بنویس.

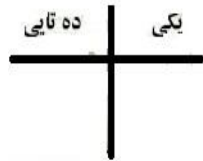


۵ .....دسته ی .....تایی

با عددهای ۵ و ۴ یک عبارت جمع و یک عبارت تفریق بنویس و برای هر کدام شکل بکش و دور حاصل جمع خط بسته بکش.

۶

با توجه به شکل جاهای خالی را کامل کن.



با عدد.....

با حروف.....

۷

دو عدد پیدا کن که حاصل جمع آن برابر با ۹ باشد.

..... + ..... = .....

..... + ..... = .....

..... + ..... = .....

..... + ..... = .....

..... + ..... = .....

..... + ..... = .....

۸

با عدد یا حروف بنویس

سیزده		نوزده	۱۸	هفت	۱۰		۱۷
	بیست					چهارده	

۹

در جاهای خالی عدد یا علامت (<=>+<-) قرار بده.

۱۵.....۰=۱۵

۱۰+۶.....۸+۷

.....>۱

۶+۶.....۷+۷

.....<۱۸

۹+۹.....۹+۸

۱۰

جاهای خالی را کامل کن.

۱۰ یعنی.....ده تایی

۱۷ می شود.....ده تایی و.....یکی

۱۹ می شود.....ده تایی و ۹ یکی

.....ده تایی و ۴ یکی می شود.....

۱۱